

تم تحميل وعرض المادة من منصة

حقيبتك

www.haqibati.net



منصة حقيبتك التعليمية

منصة حقيبتك هو موقع تعليمي يعمل على تسهيل العملية التعليمية بطريقة بسيطة وسهلة وتوفير كل ما يحتاجه المعلم والطالب لكافة الصفوف الدراسية كما يحتوي الموقع على حلول جميع المواد مع الشروح المتنوعة للمعلمين.



أوراق عمل مادة العلوم للصف الثاني متوسط

الفصل الدراسي الثاني

للعام ١٤٤٦ هـ

اسم الطالب /

وظائف الدم	الدرس الاول	التاريخ
خاص بالمعلم /	١٤ الى ١٦	رقم الصفحة في الكتاب

س ١ - يقوم الدم بأربع وظائف رئيسية هي :

- ١ - نقل
- ٢ - نقل
- ٣ - نقل
- ٤ - و

س ٣ - أملأ الجدول التالي بالمناسب لمكونات الدم :

ملحوظات	الوظيفة	الجزء
- تمثل أكثر من نصف حجم الدم معظمها ماء .	نقل المواد الغذائية إلى خلايا الجسم والفضلات لمراكز الإخراج
- تحتوي مادة	نقل	خلايا الدم الحمراء
- تنتج في	مهاجمة البكتيريا و منع الإصابة الجرثومية والأمراض
- لها قدرة التغلغل في الأنسجة	الصفائح الدموية
الصفائح الدموية وعوامل التجلط تكون شبكة لزجة تسمى والتي تمنع النزيف

التاريخ	الدرس الثاني	فصائل الدم
رقم الصفحة في الكتاب	١٧	خاص بالمعلم /

فصائل الدم هي :

١- ٢- ٣- ٤-

س ٢ - جميع فصائل الدم تحتوي على مولدات الضد ما عدا فصيلة

س ٣ - لا يمكن نقل فصائل الدم المختلفة إلى بعضها البعض - علل .

س ٤ - الأشخاص الذين يملكون فصيلة يستطيعون استقبال الدم من جميع
الفصائل الأخرى
والسبب

س ٥ - يطلق على الشخص الذي فصيلة دمه O المانح العام - علل .

س ٦ - من الأمراض التي تصيب الدم :

١- (يصيب خلايا الدم الحمراء)

٢- (يصيب خلايا الدم البيضاء)

س ٧ - مرض الأنيميا ينتج عنه ضعف كفاءة خلايا الدم الحمراء في نقل الأكسجين ومن أسبابه:

١-

٢- سوء التغذية ونقص الفيتامينات

ملاحظة * سيتم عمل تجربة تحديد فصائل الدم

التاريخ	الدرس الثالث	جهاز الدوران
رقم الصفحة في الكتاب	١٨ الى ١٩	خاص بالمعلم /

س ١ - يتكون جهاز الدوران في الجسم من :

- ١-
- ٢-
- ٣-

س ٢ - يقسم العلماء الدورات الدموية إلى ثلاث دورات:

- ١- الدورة
- ٢- الدورة (الدورة الدموية الكبرى)
- ٣- الدورة (الدورة الدموية الصغرى)

س ٣ - أملأ الجدول التالي بالمناسب من دورات الدم :

الدورة الدموية	يحدث فيها
.....	يتدفق الدم من نسيج القلب وإليه ناقلا له الغذاء والأكسجين ومخلصه من الفضلات
.....	يتدفق الدم من القلب إلى الرئتين محملا بثاني أكسيد الكربون وإعادةه من الرئتين إلى القلب محملا بالأكسجين
.....	يتدفق الدم من القلب إلى جميع أعضاء الجسم محملا بالأكسجين وإعادةه من جميع أعضاء الجسم إلى القلب محملا بثاني أكسيد الكربون

التاريخ	الدرس الرابع	الأوعية الدموية
رقم الصفحة في الكتاب	٢٠ الى ٢٢	خاص بالمعلم /

س ١ - تصنف الأوعية الدموية إلى :

١- ٢- ٣-

س ٢ - أملأ الجدول التالي بالمناسب:	راجع الرسم ص ١٤٢
الوعاء الدموي	مميزاته
.....	- تحمل الدم بعيد عن القلب محملاً بالغذاء والأكسجين - جدارها عضلي سميك
.....	- تعيد الدم إلى القلب - تحتوي صمامات تضمن تحرك الدم باتجاه القلب
.....	- سمك جدار خلية واحدة فقط - تستطيع المواد الغذائية والفضلات من الانتشار خلالها

س ٣ - تسمى الأوعية التي تربط بين الشرايين و الأوردة بـ

س ٤ - تحدث عملية تبادل الغذاء والأكسجين والفضلات في

س ٥ - تسمى القوة التي يؤثر بها الدم على جدران الأوعية الدموية بـ

س ٦ - من الأمراض التي تصيب القلب والأوعية الدموية :

١- (يصيب الشرايين ويسبب الذبحة القلبية)

٢- (من أسبابه تصلب الشرايين)

٧ - :سائل بلازما الدم يخرج من الأوعية الدموية وينتشر بين خلايا الجسم

التاريخ	الدرس الخامس	المناعة والمرض
رقم الصفحة في الكتاب	٢٣ الى ٢٤	خاص بالمعلم /

س ١ - وضع الخالق سبحانه وتعالى في جسم الإنسان وسائل دفاع هي :

١ - : يعمل ضد المواد الضارة والمخلوقات الحية المسببة للمرض .

٢ - : يعمل ضد مسببات أمراض معينة ، ويتمثل في جهاز

س ٢ - يوجد خط الدفاع الأول في أجسامنا بعدة أجهزة هي :

١ - ٢ - ٣ - ٤ -

س ٣ - تحتوي أجهزة الجسم على عدة وسائل للدفاع :

- الجلد : ١ -
- الجهاز التنفسي : ١ - الشعيرات (الأهداب) ٢ -
- الجهاز الهضمي : ١ - اللعاب ٢ - ٣ -
- الجهاز الدوراني : ١ -

س ٤ - لا يمكن أن تلتصق البكتيريا بجدار المعدة الداخلي - علل

.....

س ٥ - تفرز غدد المعدة حمض الهيدروكلوريك وله عدة فوائد منها :

١ - ٢ - ٣ -

أنواع المناعة	الدرس السادس	التاريخ
خاص بالمعلم /	٢٤ الى ٢٥	رقم الصفحة في الكتاب

س ١ - أكمل الفراغ:

١- : جزيئات معقدة لا تنتمي للجسم ، وتوجد على سطح مسببات المرض .

٢- : بروتين يستجيب لمولد الضد ويبطل فعاليته .

س ٢ - يمكن للأجسام المضادة بناء دفاعات للجسم بطريقتين :

١- ٢-

س ٢ - قارن :		
نوع المناعة	كيف تحدث	مدة فعاليتها
المناعة الطبيعية
المناعة الاصطناعية

س ٤ - يمكن تكوين مناعة طبيعية للجسم بواسطة

س ٥ - لماذا يحتاج الأطفال للتطعيم ؟

.....

التاريخ	الدرس السابع	المرض عبر التاريخ
رقم الصفحة في الكتاب	٢٦ - ٣٠	خاص بالمعلم /

س ١ - أختَر الإجابة الصحيحة:

- اكتشف ان المخلوقات الحية الدقيقة تسبب الامراض . (باستور - فلمنج)
- عملية تسخين السائل الى درجة حرارة معينة للقضاء على البكتيريا. (الفلتره - البستره)
- تغزو الخلايا المضيفة وتتكاثر فيها وتحطمها ثم تخرج منها لتهاجم خلايا أخرى (الفيروسات - الفطريات)
- يهاجم فيروس HIV جهاز المناعة ويتسبب في مرض (الايدز - السل)

س ٣ - الأمراض المعدية

تعريفها : هي إمراض تسببها وتنتقل من المخلوق المصاب أو من البيئة

س ٢ - ضع الرقم المناسب من المسبب أمام ما يناسبه من المرض :

المسبب	المرض
١- الأوليات	السل - الطاعون
٢- الفيروسات	الملاريا
٣- البكتيريا	مرض قدم الرياضي
٤- الفطريات	الأنفلونزا - الايدز - شلل الأطفال

إلى مخلوق آخر . < من أمثلة الأمراض المعدية : و و

< تنتقل الأمراض المعدية عن طريق : و و

س ٤ - من أمثلة الأمراض الجنسية : و و

التاريخ	الدرس الثامن	الامراض المزمنة
رقم الصفحة في الكتاب	٣٠-٣٣	خاص بالمعلم /

س ١ - الأمراض المزمنة :

◀ تعريفها : هي

إمراض.....

◀ من أمثلة الأمراض المزمنة : و و

س ٢ - أكمل الفراغات التالية :

١- تسبب إفراز الهستامين

٢- يمكن استخدام مضادات في علاج الحساسية .

٣- ينظم مستوى السكر في الدم

٤- مجموعة من الأمراض التي تنتج من عدم السيطرة على

نمو الخلايا

س ٣- ارتفاع مستوى السكر لفترة طويلة يسبب مشاكل صحية منها .

١- ٢- ٣-

س ٤- اذكر بعض مسببات مرض السرطان .

١- ٢- ٣-

س ٥- كيف ينتشر مرض السرطان في الجسم .

١- ٢-

س ٦- من طرق العلاج والوقاية من مرض السرطان بإذن الله :

١- ٢-

التاريخ : / / ١٤٤٤ هـ	تقويم	جهاز الدوران
رقم الصفحة في الكتاب	٧٧ - ٤٦	اسم الطالب /

حدد الإجابة الصحيحة:-

1	A	السمحاق	B	العظم الكثيف	C	الغضروف	D	نخاع العظم
2	A	الهيموجلوبين	B	الفابرين	C	السمحاق	D	لا شيء مما سبق
3	A	الأوردة	B	الشرايين	C	الصفائح الدموية	D	جميع ما سبق
4	A	خلايا الدم البيضاء	B	خلايا الدم الحمراء	C	الخلايا العصبية	D	صفائح الدم
5	A	الهيموجلوبين	B	الفابرين	C	الدم	D	لا شيء مما سبق

س٢ / يتكون جهاز الدوران من ثلاث مكونات اذكرها ؟

س٣ / عدد فصائل الدم ؟

- ١
- ٢
- ٣
- ٤

س٤ / مما تتكون الاوعية الدموية ؟

- ١
- ٢
- ٣

س٥ / علل لماذا تسمى فصيلة الدم (o) المانح العام ؟

التاريخ : / / ١٤٤٤ هـ	الدرس التاسع	الجهاز الهضمي
رقم الصفحة في الكتاب	٤٤ - ٤٥	اسم الطالب /

هي مواد ضرورية لنمو الخلايا وتعوض الانسجة التالفة	
أهمية الغذاء	١- ٢- ٣- ٤-
هو تحليل جزيئات الطعام الكبيرة الى صغيرة لكي يسهل امتصاصها ونقلها للدم	
مراحل الهضم	١- ٢- ٣- ٤-
أنواع الهضم	يتمثل في مضغ الطعام وتقطيعه يتمثل في تحليل الطعام بفعل الانزيمات والتفاعلات الكيميائية

الانزيمات:-

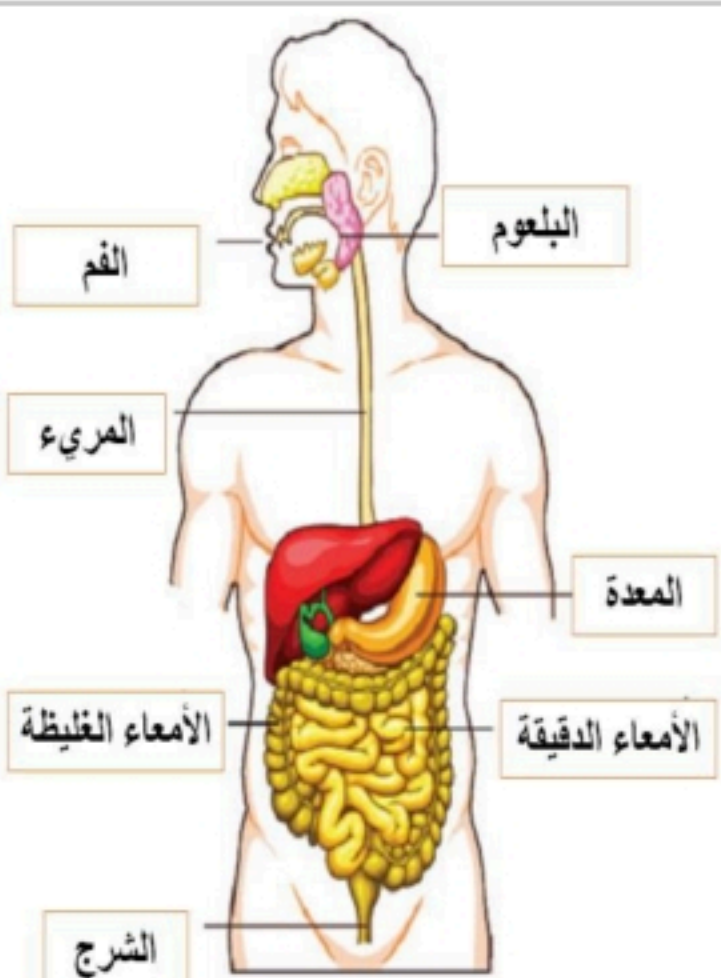
هي بروتينات تسرع من معدلات العمليات الكيميائية في الجسم	
وظائف الانزيمات	١- تسريع التفاعلات الكيميائية ٢- ٣- تساعد في هضم (الكربوهيدرات -البروتينات - الدهون)

يتكون الجهاز الهضمي من جزأين رئيسين :-

- ١- (يحدث فيها هضم وتحليل وامتصاص الطعام)
- ٢- (لا يمر فيها الطعام ولا تهضمه ولكن تساعد في عملية الهضم من خلال ماتفرزه من انزيمات)

التاريخ	الدرس العاشر	الجهاز الهضمي
رقم الصفحة في الكتاب	٤٥ الى ٤٨	خاص بالمعلم /

* مكونات الجهاز الهضمي

	تتكون مما يلي:-	
	١-	١- القناة الهضمية
	٢-	
	٣-	
	٤-	
	٥-	
٦-		
	تتكون مما يلي:-	٢- ملحقات القناة الهضمية
	١-	
	٢-	
	٣-	
	٤-	
	٥-	
	٦-	

* مهمة ادائية :- أكمل الجدول في ورقة العمل التالية

س ١ :- أذكر تعريف و وظيفة كل مكون من مكونات القناة الهضمية ؟

التاريخ	الدرس الحادي عشر	تابع الجهاز الهضمي
رقم الصفحة في الكتاب	٤٦ الى ٤٨	خاص بالمعلم /

الوظيفة	الهضم	التعريف	مكونات القناة الهضمية
	ميكانيكي كيميائي		١- الفم
	لا يحدث هضم		٢- المرئ
	ميكانيكي كيميائي		٣- المعدة
	ميكانيكي كيميائي		٤- الأمعاء الدقيقة
	لا يحدث هضم		٥- الأمعاء الغليظة
	لا يحدث هضم		٦- المستقيم

التاريخ	الدرس الثاني عشر	الجهاز الهضمي
رقم الصفحة في الكتاب	٥٣-٤٨	خاص بالمعلم /

س ١ - يحتوي الطعام على ستة مجموعات غذائية هي :

١- ٢-	- تسمى المواد الغذائية العضوية لأنها تحتوي على
٣- ٤-	- لا بد من هضمها قبل الامتصاص .
٥- ٦-	- تسمى المواد الغذائية غير العضوية لأنها لا تحتوي على
	- لا تحتاج إلى الهضم ويمتصها الدم مباشرة

س ٢ - أكمل الجدول التالي بالمناسب :

المجموعة الغذائية	ملحوظات
١- البروتينات	- تتكون من وحدات صغيرة تسمى - أهميتها : * *
٢- الكربوهيدرات	- هي المصدر الرئيس - أنواعها : و و
٣- الدهون	- فوائدها : * تمد الجسم ب..... * تساعد على امتصاص - وسادة ترتكز عليها الأعضاء الداخلية . - أنواعها : و - الدهون المشبعة لها علاقة بمستوى والذي قد يسبب ارتفاعه أمراض القلب
٤- الفيتامينات	- تعريفها : هي - من فوائدها :: * *
٥- الأملاح المعدنية	- أنواعها : ١- الذائبة في (لا تخزن في الجسم ويجب تناولها يوميا) ٢- الذائبة في (تخزن في الجسم)
٦- الماء	- هي مواد غير عضوية تنظم - يحتاج الجسم نوعا منها .
	- يشكل الماء نسبة من كتلة الجسم . - الماء يذيب وينقل الغذاء داخل الجسم .

س ٣ - توجد المواد الغذائية في خمس مجموعات من الطعام هي :

١- الخبز ٢- ٣- ٤- ٥-

التاريخ	الدرس الثالث عشر	الجهاز التنفسي
رقم الصفحة في الكتاب	٥٥ الى ٥٧	خاص بالمعلم /

وظائف الجهاز التنفسي :-

- ١

- ٢

- *

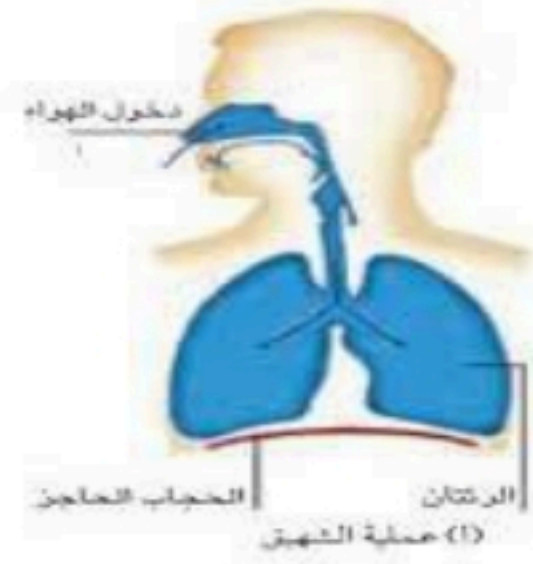
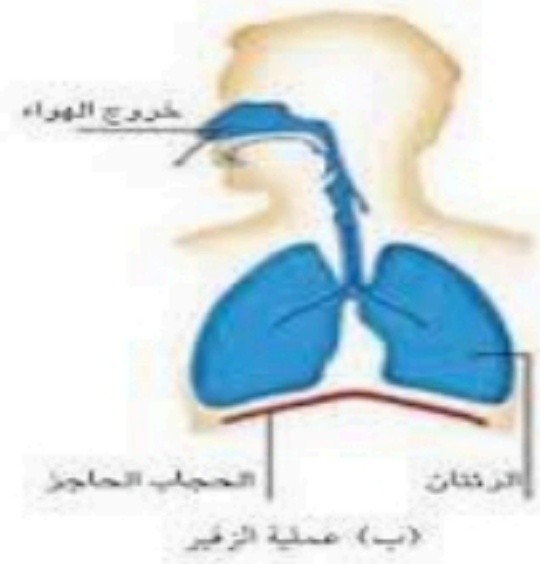
: هي تفاعلات كيميائية تتم داخل الخلية في وجود الاوكسجين لإطلاق الطاقة

تركيب الجهاز التنفسي :-

الوظيفة	التعريف	أجزاء الجهاز التنفسي
تنقية الهواء وترطيبه وتدفئته		
- ممر للهواء الاهداب و الشعيرات والمخاط - يوجد اخر البلعوم <u>لسان</u> <u>المزمار</u> والمسنول عن اغلاق ممر الهواء اثناء الطعام		
- ممر للهواء - تتصل الحنجرة بأربعة ازواج من الاورتار الصوتية	عضو غضروفي يلي البلعوم وتحوي على الحبال الصوتية	
- منع دخول الاجسام الغريبة للرنه (غبار - بكتيريا) - ممر للهواء		
- منع دخول الاجسام الغريبة للرنه (غبار - بكتيريا) - ممر للهواء		القصيبتان الهوائيتان
- تحث بينها وبين الشعيرات الدموية تبادل الغازات) الاكسجين وثاني أكسيد - (الكربون)	مجموعة أكياس ذات جدران رقيقة تشبه عناقيد العنب محاطة بشبكات من الشعيرات الدموية	

التاريخ	الدرس الرابع عشر	الجهاز التنفسي وامراضه
رقم الصفحة في الكتاب	٩١-٥٨	خاص بالمعلم /

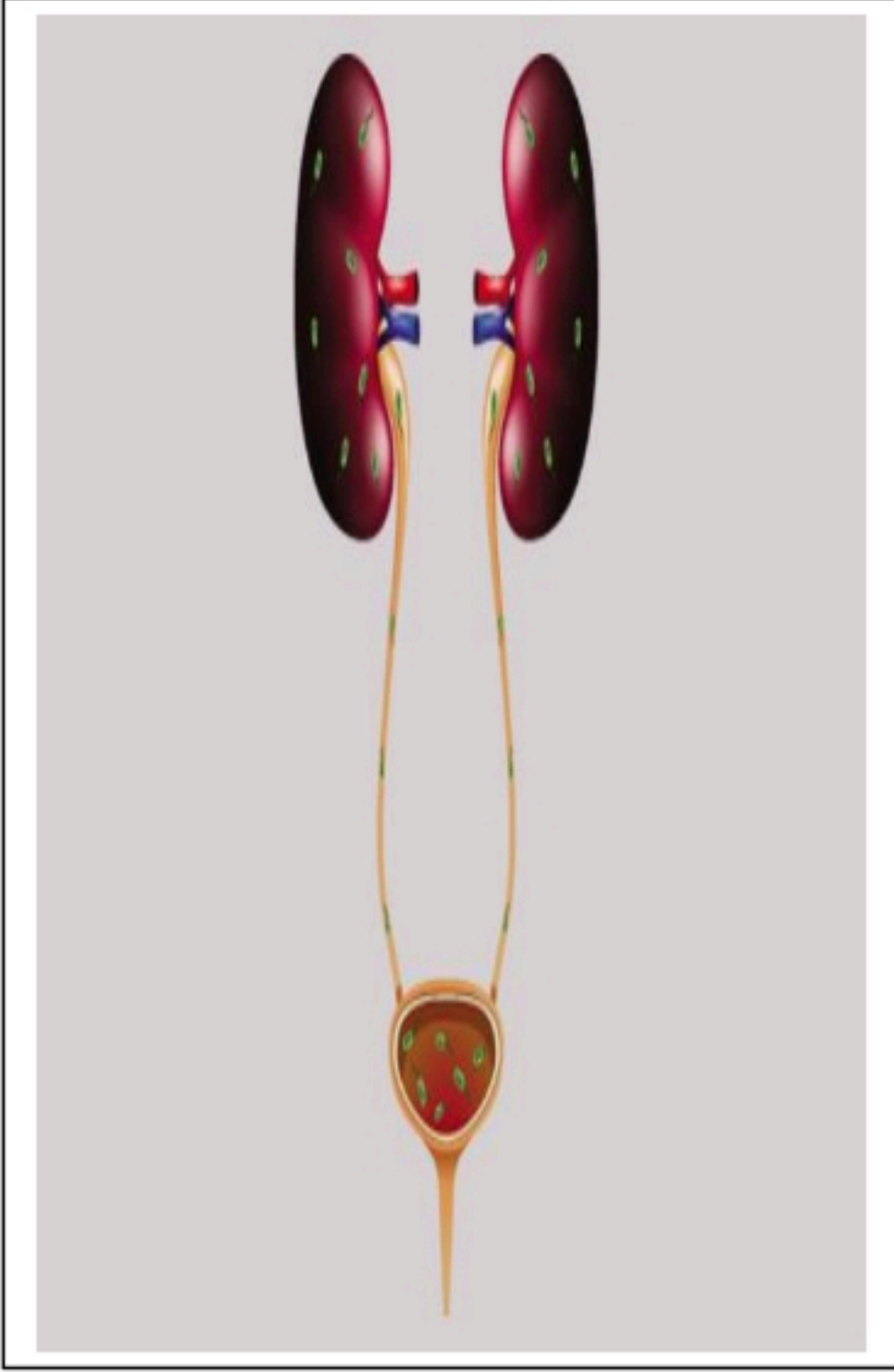
التعريف	
كيف حدوثه	تحدث عملية نتيجة انقباض لعضلة الحجاب الحاجز فينتقل الهواء من التركيز العالي في الخارج الى التركيز المنخفض في الرئتان
التعريف	
كيف حدوثه	تحدث عملية نتيجة انبساط لعضلة الحجاب الحاجز فيضغط على الرئتين فيندفع الهواء الى خارج الرئتين



امراض الجهاز التنفسي واسبابه :-

تهيج واحتقان مع وجود مخاط	الاعراض	
زيادة حجم الحويصلات في الرئة	الاعراض	
التدخين واستنشاق القطران	سببه	
	الاعراض	الربو
	العلاج	
احتقان البلعوم وتهيج القصبة الهوائية	الاعراض	

التاريخ	الدرس الخامس عشر	الجهاز الاخراجي
رقم الصفحة في الكتاب	٦١-٦٥	خاص بالمعلم /



وظيفة الجهاز الاخراجي :-

أنواع أجهزة الاخراجي :-

- ١- الجهاز التنفسي
- ٢- الجهاز البولي
- ٣- الجهاز الهضمي
- ٤- الجهاز الدوري

وظائف الجهاز البولي:-

- ١- تنظيم مستوى الماء والاملاح المعدنية في الجسم للقيام بالانشطة الحيوية جميعها
- ٢- تنظيم مستوى الماء والاملاح المعدنية في الجسم للقيام بالانشطة الحيوية جميعها

تركيب الجهاز البولي :-

وظيفتها	
شكلها	
موقعها	الجهة الخلفية من البطن على مستوى الخصر
١- تركيبها	تتركب من تراكيب صغيرة تسمى تعريف النفريديات : هي انايب ملتوية تشكل الوحدات البنائية والوظيفية للكلية من تركيب كاسي الشكل وتركيب انبوبي يسمى القناة
٢- هو	
٣- هو عضو عضلي مرن يخزن البول الى حين إخراجة من الجسم (مستودع البول)	
٤- الاحليل هو	

** امراض الجهاز البولي :-

العلاج	الاعراض	السبب	المرض
	توقف الكلية عن العمل	تراكم الفضلات والسموم بالجسم	

التاريخ	الدرس السادس عشر	الجلد والعضلات
رقم الصفحة في الكتاب	٨٤-٨٧	خاص بالمعلم /

الجلد أكبر أعضاء الجسم و أكبر أعضائه الحسية

س ١ / يتكون الجلد من ثلاث طبقات من الانسجة وهي :-

٣- الأدمة

٢-

١-

الطبقة	خصائصها
	الطبقة الخارجية الرقيقة من الجلد . وتتكون من خلايا ميتة
	طبقة اسف البشرة ز وتحتوي الاوعية الدموية والغدد العرقية والنهايات العصبية
	طبقة من الخلايا الدهنية وهي طبقة عازلة للجسم وتحتزن فيها الدهون

س ٢ - ماهو الميلانين

*ملاحظة هامة * وظيفة الجلد الأساسية هي الحماية

س ٣ - للجلد عدة وظائف منها :

٣-

٢- الاستجابة

١-

٥-

٤- تخلص الجسم من الفضلات

س ٤ - عدد وظائف الغدد العرقية :

٢-

١-

س ٥- من إصابات الجلد : و الخدوش و و الحروق

ماهي الكدوم :

ملاحظة * سبب اللون الأحمر عند الكدوم هو تحرر صبغة الهيموجلوبين من مجرى الدم

التاريخ	الدرس ١٧	العضلات
رقم الصفحة في الكتاب	٨٧-٩٢	خاص بالمعلم /

س ١ - تساعد العضلات الجسم على الحركة من خلال عملية و

أنواع العضلات في جسم الإنسان

نوع العضلات	تعريفها	امثلة
	عضلات تتحرك بإرادتك	
	عضلات تتحرك تلقائياً	

أنواع الأنسجة العضلية

نوع الأنسجة	تعريفها
١-	<ul style="list-style-type: none"> عضلات إرادية تحرك العظام وتشكل معظم كتلة عضلات الجسم تتصل بالعظام بواسطة نسيج رابط يسمى
٢- القلبية	
٣-	<ul style="list-style-type: none"> عضلات لا إرادية توجد في الأمعاء والمثانة و الأوعية الدموية

• تحتاج عضلات الجسم إلى لتكون قادرة على الانقباض و الانبساط

ملاحظات

• الغذاء مصدر الطاقة ويزود العضلات بالطاقة الكيميائية التي تتحول إلى طاقة حرارية وحركية

• يزداد حجم العضلات بالاستعمال والتدريبات

• العضلة هي عضو قادر على الانقباض و الانبساط ويوفر قوة لتحريك العظام

التاريخ	الدرس ١٨	الجهاز الهيكلي
رقم الصفحة في الكتاب	٩٣-٩٤	خاص بالمعلم /

يتكون الجهاز الهيكلي من جميع العظام الموجودة في الجسم

س ١ / اذكر وظائف الجهاز الهيكلي :

- ١- تتصل بالعضلات وتساعد على الحركة
- ٢- تخزن فيه مركبات الكالسيوم والفسفور والتي تكسب العظام الصلابة
- ٣- تحمي الأعضاء الداخلية
- ٤- تحمي الأعضاء الحيوية
- ٥- تحمي الأعضاء الحيوية

س ٢ / العظم يتكون من عدد من الانسجة وهي : (راجع الشكل ص)

نوع النسيج	خصائصه
	غشاء صلب يغلف سطح العظم
	يعطي العظم صلابة لأنه يحتوي على شبكة تترسب عليها أملاح الكالسيوم
	يحتوي على مسامات تجعل العظم أخف وزن
	<ul style="list-style-type: none"> • نخاع أصفر (تتكون فيه مواد دهنية) • نخاع أحمر (تنتج خلايا الدم)
	<ul style="list-style-type: none"> • طبقة ناعمة لزجة سميكة تغلف أطراف العظم • يمتاز بمرونته ومهم للمفاصل في امتصاص الصدمات وسهولة الحركة

التاريخ	الدرس ١٩	المفاصل
رقم الصفحة في الكتاب	٩٤-٩٧	خاص بالمعلم /

س ١ / : ملتحى عظمتين أو أكثر في الهيكل العظمي

س ٢ / ترتبط العظام مع بعضها في المفصل بواسطة :

س ٣ / علل يغلف الغضروف في اطراف العظم عند المفاصل طبقة رقيقة ، كما يملأ تجويف المفصل سائل لزج ؟

س ٤ / تصنف المفاصل إلى : و

الشكل	مثال	نوع المفصل
	<p>مفاصل</p> <p>مفاصل</p>	١- المفاصل الثابتة
	<p>عند حركة الرأس (العنق)</p> <p>مفصل الكتف</p> <p>مفصل الركبة والاصابع</p> <p>مفصل المعصم وفقرات الظهر</p>	<p>المحوري</p> <p>٢- المفاصل المتحركة</p>

التاريخ	الدرس ٢٠	الجهاز العصبي
رقم الصفحة في الكتاب	٩٨-١٠١	خاص بالمعلم /

**أجهزة التنظيم تعمل على المحافظة على الاتزان الداخلي
 ** من امثلة الاتزان الداخلي - تنظيم معدل التنفس ونبضات القلب والهضم
 ** المنبه كل تغير داخل الجسم او خارجه ويتطلب استجابته

س ١ / : هي وحدات وظيفية أساسية يتكون منها الجهاز العصبي

س ٢ / يتكون العصبون (الخلية العصبية) من الأجزاء الآتية : (راجع الشكل ص)

الاجزاء	رسمة الخلية
١-	
٢-	
٣- المحور الاسطواني	

س ٣ / ينقل العصبون رسائل تسمى والذي يتحرك في اتجاه واحد .

س ٤ / هناك ثلاث أنواع من العصبونات (الخلايا العصبية) هي :

١- ٢- ٣- الموصلة

س ٥ / / المسافة القصيرة الفاصلة بين كل عصبون والذي يليه

س ٦ / يتكون الجهاز العصبي من قسمين :

١- الجهاز العصبي يتركب من أ- ب-

٢- الجهاز العصبي يشمل جميع الاعصاب الموجودة خارج الجهاز العصبي المركزي

يتكون من الاعصاب الدماغية والاعصاب الشوكية

** الدماغ هو مركز تنظيم جميع الأنشطة الحيوية

س ٦ / يتكون الجهاز العصبي الطرفي من قسمين :

١- الجهاز العصبي ينظم الأفعال الإرادية

٢- الجهاز العصبي ينظم الأفعال الإرادية

س ٧ / : استجابة غير إرادية تلقائية سريعة للمنبه . لا يستطيع التحكم فيه

التاريخ	الدرس ٢١	الحواس
رقم الصفحة في الكتاب	١٠٦-١٠١	خاص بالمعلم /

*تستجيب الحواس للمؤثرات وتعمل معا للحفاظ على الاتزان الداخلي

س ١ / اكمل الفراغات في جدول الحواس :

الحاسة	خصائصها
١-	يحتوي على مستقبلات حسية (خلايا حسية) تستجيب للمؤثرات من حرارة وضغط
٢- العين (الابصار) (راجع الشكل ١٨ ص ١٠٢)	<ul style="list-style-type: none"> • هي مقطع شفاف في مقدمة العين ينفذ من خلاله الضوء فينكسر • نسيج في مؤخرة العين يمتاز بحساسيته للطاقة الضوئية والصور <p>**تركب الشبكية من نوعين من الخلايا :</p> <p>أ- ب-</p> <p>**ملاحظة :- تكون الصورة المنقولة من الدماغ فيفسرها بصورتها الصحيحة</p>
٣- الاذن (السمع) (راجع الشكل ١٩ ص ١٠٣) (راجع الشكل ٢٠ ص ١٠٣)	<ul style="list-style-type: none"> - الاذن مقسمة الى اجزاء ثلاثة : ١ - ٢ - ٣ - الاذن الداخلية - تتكون الاذن الوسطى من طبلة الاذن وثلاث عظام صغيرة هي : و و الركاب - تتكون الاذن الوسطى من : أ - تستجيب للصوت ب- لها دور في توازن الجسم
٤-	يحتوي على مستقبلات حسية (<u>المستقبلات الشمية</u>) تستجيب للرائحة
٥- التذوق (اللسان) (راجع الشكل ٢١ ص ١٠٥)	- تشكل الموجودة على اللسان مستقبلات التذوق الرئيسية

س ٢ / هي مواد تسرع نشاط الجهاز العصبي المركزي

واجب / حل مراجعة الفصل ٧ صفحة ١١٢ و ١١٣ في الكتاب

التاريخ	تقويم	الجلد والعضلات والجهاز الهيكلي والعصبي
رقم الصفحة في الكتاب	١٠٧-٨٤	خاص بالمعلم /

*تستجيب الحواس للمؤثرات وتعمل معا للحفاظ على الاتزان الداخلي

س ١ / اكمل الفراغات في جدول الحواس :

الحاسة	خصائصها
٦-	يحتوي على مستقبلات حسية (خلايا حسية) تستجيب للمؤثرات من حرارة وضغط
٧- العين (الابصار) (راجع الشكل ١٨ ص ١٠٢)	<ul style="list-style-type: none"> • هي مقطع شفاف في مقدمة العين ينفذ من خلاله الضوء فينكسر • نسيج في مؤخرة العين يمتاز بحساسيته للطاقة الضوئية والصور <p>**تركب الشبكية من نوعين من الخلايا :</p> <p>ب- ب-</p> <p>**ملاحظة :- تكون الصورة المنقولة من الدماغ فيفسرها بصورتها الصحيحة</p>
٨- الاذن (السمع) (راجع الشكل ١٩ ص ١٠٣) (راجع الشكل ٢٠ ص ١٠٣)	<ul style="list-style-type: none"> - الاذن مقسمة الى اجزاء ثلاثة : ٢ - ٢ - ٣ - الاذن الداخلية - تتكون الاذن الوسطى من طبلة الاذن وثلاث عظام صغيرة هي : و و الركاب - تتكون الاذن الوسطى من : أ - تستجيب للصوت ب- لها دور في توازن الجسم
٩-	يحتوي على مستقبلات حسية (<u>المستقبلات الشمية</u>) تستجيب للرائحة
١٠- التذوق (اللسان) (راجع الشكل ٢١ ص ١٠٥)	- تشكل الموجودة على اللسان مستقبلات التذوق الرئيسية

س ٢ / هي مواد تسرع نشاط الجهاز العصبي المركزي

التاريخ	تقويم	أجهزة الدعامة والحركة والاستجابة
رقم الصفحة في الكتاب	١١٣-٨٤	خاص بالمعلم /

حدد الإجابة الصحيحة:-

1	A	السمحاق	B	العظم الكثيف	C	الغضروف	D	نخاع العظم
2	توجد المفاصل غير المتحركة في الانسان في							
A	المرفق	B	العنق	C	الجمجمة	D	لا شيء مما سبق	
3	أي الأجزاء التالية جزء من الاذن الوسطى							
A	المطرقة	B	السندان	C	الركاب	D	جميع ما سبق	
4	نسيج في مؤخرة العين يمتاز بحساسيته للطاقة الضوئي والصور هو							
A	القرنية	B	الشبكية	C	العدسة	D	الاذن	
5	المسافة القصيرة الفاصلة بين كل عصبون والذي يليه							
A	السيال العصبي	B	الشق التشابكي	C	الشجيرات العصبية	D	لا شيء مما سبق	
6	حزمة من الانسجة الصلبة تربط بين عظمتين							
A	الاورتار	B	الاربطة	C	المفاصل	D	لا شيء مما سبق	

س ٢ / يتكون الجلد من ثلاث طبقات اذكرها ؟

- ١-
٢-
٣-

س ٤ / اذكر أنواع العضلات في جسم الانسان ؟

- ١-
٢-

س ٥ / مما يتركب الجهاز العصبي ؟

- ١-
٢-

س ٥ / ضع المصطلح العلمي المناسب امام كل جملة ؟

11	صبغة كيميائية تحمي الجلد وتكسبه لون
12	طبقة ناعمة لزجة سميكة تغلف اطراف العظم
13	غشاء صلب يغلف سطح العظم
14	الوحدة الوظيفية الأساسية في جسم الانسان

التاريخ	الدرس ٢٢	التنظيم والتكاثر
رقم الصفحة في الكتاب	١١٨-١٠٦	خاص بالمعلم /

س ١ / أجهزة التنظيم والسيطرة في جسم الانسان هي :

أ - ب -

وظائفه	الجهاز
يرسل رسائل كيميائية عبر الدم في انسجة الجسم . <u>الاستجابة غير سريعة</u>	
يرسل سيالات عصبية سريعة من والى الدماغ وتكون <u>الاستجابة سريعة</u>	

س ٢ / هي رسائل كيميائية تنتج من الغدد الصماء الى الدم مباشرة وتؤثر في خلايا الدم

س ٣ / أنواع الغدد نوعان اذكرها :

نوع الغدة	تعريفها	مثال
	تصب إفرازها في انبوب	الغدد العرقية و
	تصب إفرازها في الدم مباشر و

س ٤ / عدد وظائف الغدد الصماء ؟

١- تنظيم البيئة الداخلية في الجسم

٢-

٣- التكيف مع الضغط النفسي

٤-

التاريخ	الدرس ٢٣	الغدد الصماء
رقم الصفحة في الكتاب	١١٨-١٢٢	خاص بالمعلم /

س ١ / ضع الغدة المناسبة أمام عملها :

الغدة	عملها
	تنظيم عملية النوم
	تنظيم نشاط الغدد الصماء الأخرى والنشاطات الحيوية في الجسم
	تحفز تصنيع خلايا تقاوم الالتهاب
	مسؤولة عن الصفات الجنسية الذكرية ولها دور في إنتاج الحيوانات المنوية
	تتحكم في ايونات الكالسيوم وتعزز نمو الجهاز العصبي
	تنظم مستوى الكالسيوم ولها دور في نقل السوائل العصبية
	لها دور في تكيف الجسم مع الحالات الطارئة
	تسمى غدد لانجر هانز ولها دور في تنظيم مستوى السكر في الدم
	مسؤولة عن الصفات الجنسية الانثوية . وتنظم الدورة التكاثرية لدى الانثى

س ٢ / تعتبر الغدة النخامية اهم الغدد الصماء علل ؟

س ٣ / هي نظام يتحكم في مستوى الهرمونات في الدم من خلال الرسائل الكيميائية التي ترسلها الغدد الصماء والتي تدور في حلقة مغلقة ومن امثلتها عملية

التاريخ	الدرس ٢٤	التكاثر و الغدد الصماء
رقم الصفحة في الكتاب	١٢٢ - ١٢٤	خاص بالمعلم /

س١ / عملية مستمرة تحافظ على بقاء الحياة على الأرض واستمرارها

س٢ / تعمل هرمونات الغدة على إنتاج البويضات والحيوانات المنوية

س٣ / البويضات والحيوانات المنوية لها دور في نقل من جيل الى اخر

س٤ / يتكون الجهاز التناسلي الذكري من :

أ - أعضاء خارجية وهي : و (يحتوي على خصيتين)

ب - أعضاء داخلية وهي : و و غدة البروستات

س٥ / : يتكون من رأس و ذيل ويحتوي الرأس على المادة الوراثية في النواة وهي

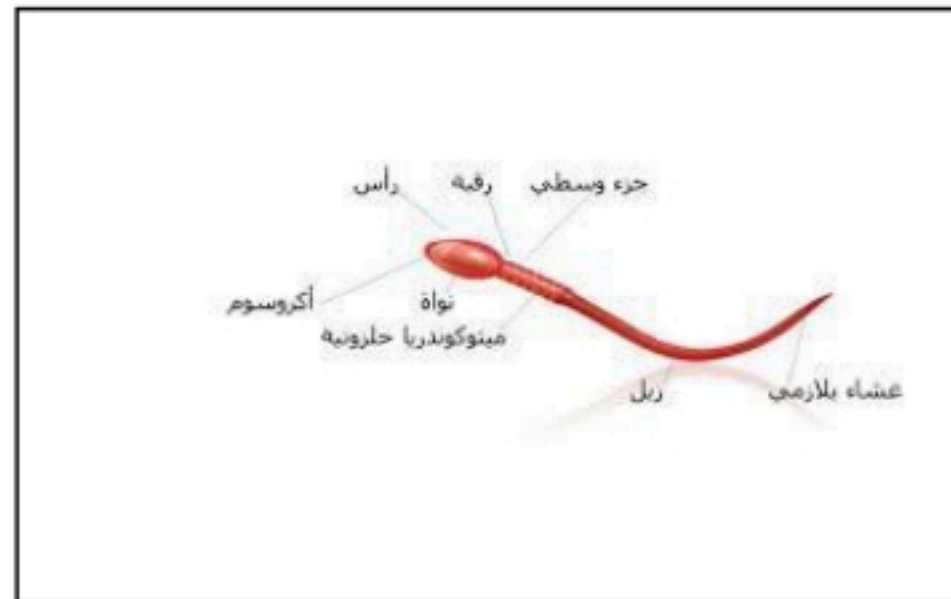
.....

س٦ / : هي خليط من الحيوانات المنوية والسائل .

س٧ / : توفر سائل للحيوانات المنوية ويزودها بالطاقة الضرورية لحركتها .

س٨ / يخرج البول والسائل المنوي عبر قناة الاحليل ومع ذلك لا يختلطان ؟ علل

س٩ / انظر الشكل التوضيحي للحيوان المنوي في الرسمة التالية :



التاريخ	الدرس ٢٥	التكاثر و الغدد الصماء
رقم الصفحة في الكتاب	١٢٥-١٣٠	خاص بالمعلم /

*المبيضان هما الأعضاء الجنسية الانثوية ، وينتجان بويضة كل شهر بالتناوب

س ١ / ضع المصطلح أمام التعريف المناسب :

المصطلح	التعريف
	سن اليأس - الرحم - المهبل - الاباضة - الحيض - البويضة - الدورة الشهرية
	الخلية التناسلية الانثوية
	دورة شهرية تنضج خلالها البويضة ، لتخرج من المبيض إلى قناة البيض
	كيس عضلي كمثري الشكل في الانثى
	التغيرات الشهرية التي تحدث في الجهاز التناسلي الانثوي ، ومدتها ٢٨ يوم
	قناة الولادة (التي يخرج منها المولود)
	مرحلة توقف الاباضة والدورة الشهرية عند المرأة
	تدفق الدم مرة كل شهر ، ويحتوي على خلايا ناتجة عن زيادة سماكة بطانة الرحم

ملاحظة * تحدث الاباضة بعد ١٤ يوم من بدء الدورة

س ٢ / متى يحصل تمزق بطانة الرحم (الحيض) ؟

س ٣ / أطوار التغيرات التي تحدث في الدورة الشهرية :-	
يحدث فيه تدفق الدم وتحطم الخلايا التي زادت من سماكة جدار الرحم (الحيض)	
المهرمونات تزيد من سمك الرحم وتحدث فيه عملية الاباضة والتلقيح	
استمرار زيادة الرحم ويكون الرحم جاهزا لحماية الجنين وتغذيته	

راجع الشكل رقم صفحة

التاريخ	الدرس ٢٦	مراحل حياة الانسان
رقم الصفحة في الكتاب	١٣٢-١٣٥	خاص بالمعلم /

س١ / عملية اتحاد الحيوان المنوي مع البويضة ويحدث في

س٢ / الزيغوت (البويضة المخصبة) هي خلية ناتجة عن

س٣ / قارن بين مايلي ؟		
وجه المقارنة	التوائم المتماثلة	التوائم غير المتماثلة
كيف يحدث بإذن الله ؟		
المادة الوراثية فيه		

س٤ / في التوائم المتماثلة يكون نوع الجنس واحد (ذكور أو إناث) علل ؟

س٥ / : الفترة الواقعة بين إخصاب البويضة حتى الولادة ، وتتراوح فترته

س٦ / تلتصق البويضة المخصبة بجدار الرحم بعد مرور ، تشعر الام بحركة الجنين في الشهر ، يبدأ القلب ينبض خلال اول شهرين ، يمكن تحديد جنس الجنين في الشهر

س٧ / : غشاء رقيق يتشكل حول الجنين ويحميه من الأسبوع الثالث .

س٨ / هي عملية انقباض عضلات الرحم عند قرب الولادة

س٩ / العملية القيصرية هي

س١٠ / : هي مكان او اثر اتصال الحبل السري بجسم الجنين

التاريخ	الدرس ٢٧	مراحل الحياه بعد الولادة
رقم الصفحة في الكتاب	١٣٦-١٣٩	خاص بالمعلم /

س٣ / حدد المراحل العمرية التي يمر بها الانسان بعد الولادة ؟

المرحلة	العمر	التغيرات التي تحدث
	اول ١٨ شهر	يحتاج الى من يرعاه ، وينمو بسرعة ، ويتضاعف وزنه
	الى ١٢ عام	يستطيع التحكم بالاجراج ، ونطق بعض الجمل
	من ١٢ الى ١٨ عام	تسمى مرحلة البلوغ الجنسي ، وظهور الصفات الجنسية ونمو الشعر في الوجه و زيادة حجم الثديين لدى الاناث ، ونمو العضلات ، ويكون قادر على التكاثر
	من ١٨ الى ٤٥ عام	آخر مراحل التطور ، ويتوقف نمو العضلات والهيكل العظمي
	من ٤٥ الى ٦٠ عام	تقل فاعلية بعض أجهزة الجسم كالجهاز التنفسي وجهاز الدوران
	أكبر من ٦٠ عام	تضعف فاعلية بعض أجهزة الجسم وتصاب العظام بالهشاشة ويضعف السمع والبصر

ختاماً الحمد لله رب العالمين

التاريخ	تقويم	التنظيم والتكاثر
رقم الصفحة في الكتاب	١١٨-١٤٥	خاص بالمعلم /

حدد الإجابة الصحيحة:-

1	A	قناة البيض	B	الرحم	C	المبيض	D	المهبل
2	A	المهبل	B	الرحم	C	المعدة	D	قناة البيض
3	A	الاصحاب	B	الاباضة	C	البلوغ	D	دورة الحيض
4	A	الاول	B	الثاني	C	الثالث	D	الرابع
5	A	الصفن	B	البويضة	C	الحيوان المنوي	D	لا شيء مما سبق
6	A	الصفن	B	البويضة	C	المبيض	D	لا شيء مما سبق

س٢ / اذكر اربع من الغدد الصماء؟

-٣

-٢

-٢

-٤

س٣ / كيف يحدث التوائم المتماثلة ؟

س٤ / ضع المصطلح العلمي المناسب امام كل جملة ؟

11	عملية مستمرة تحافظ على بقاء الحياة على الارض
12	تصب افرازتها في الدم مباشرة
13	الفترة الواقعة بين اخصاب البويضة حتى الولادة
14	خليط من الحيوانات المنوية والسائل

مع تمنياتي لك بالتوفيق والنجاح



أوراق عمل مادة العلوم للصف الثاني متوسط

الفصل الدراسي الثاني

للعام ١٤٤٤هـ

معلم المادة / بندر المطيري

اسم الطالب /

وظائف الدم	الدرس الاول	التاريخ
خاص بالمعلم /	١٤ الى ١٦	رقم الصفحة في الكتاب

س ١ - يقوم الدم بأربع وظائف رئيسية هي :

١ - نقل الاكسجين من الرئتين الى خلايا الجسم ونقل ثاني أكسيد الكربون من خلايا الجسم الى الرئتين

٢ - نقل الفضلات الناتجة من خلايا الجسم الى الكليتين

٣ - نقل المواد الغذائية ومواد أخرى الى خلايا الجسم

٤ - منع الإصابة الجرثومية و تساعد على التام الجروح

س ٣ - أملأ الجدول التالي بالمناسب لمكونات الدم :

الجزء	الوظيفة	ملحوظات
البلازما	نقل المواد الغذائية إلى خلايا الجسم والفضلات لمراكز الإخراج	- تمثل أكثر من نصف حجم الدم معظمها ماء .
خلايا الدم الحمراء	نقل الاكسجين من الرئتين الى خلايا الجسم	- تحتوي مادة الهيموجلوبين - تنتج في نخاع العظم
خلايا الدم البيضاء	مهاجمة البكتيريا و منع الإصابة الجرثومية والأمراض	- لها قدرة التغلغل في الأنسجة
الصفائح الدموية	تساعد على تخثر الدم	الصفائح الدموية وعوامل التجلط تكون شبكة لزجة تسمى الفايبرين والتي تمنع النزيف

التاريخ	الدرس الثاني	فصائل الدم
رقم الصفحة في الكتاب	١٧	خاص بالمعلم /

فصائل الدم هي :

A - ١ **B** - ٢ **O** - ٣ **AB** - ٤

س ٢ - جميع فصائل الدم تحتوي على مولدات الضد ما عدا فصيلة **O**

س ٣ - لا يمكن نقل فصائل الدم المختلفة إلى بعضها البعض - علل .

لانها تحتوي على اجسام مضادة

س ٤ - الأشخاص الذين يملكون فصيلة **AB** يستطيعون استقبال الدم من جميع الفصائل الأخرى

والسبب لانها تحتوي على اجسام مضادة

س ٥ - يطلق على الشخص الذي فصيلة دمه **O** المانح العام - علل .

لانها تعطي جميع الفصائل

س ٦ - من الأمراض التي تصيب الدم :

١ - فقر الدم (الانيميا) (يصيب خلايا الدم الحمراء)

٢ - سرطان الدم (يصيب خلايا الدم البيضاء)

س ٧ - مرض الأنيميا ينتج عنه ضعف كفاءة خلايا الدم الحمراء في نقل الأكسجين ومن أسبابه:

١ - فقدان كمية كبيرة من الدم

٢ - سوء التغذية ونقص الفيتامينات

ملاحظة * سيتم عمل تجربة تحديد فصائل الدم

التاريخ	الدرس الثالث	جهاز الدوران
رقم الصفحة في الكتاب	١٨ الى ١٩	خاص بالمعلم /

س ١ - يتكون جهاز الدوران في الجسم من :

- ١- الدم
- ٢- القلب
- ٣- الاوعية الدموية

س ٢ - يقسم العلماء الدورات الدموية إلى ثلاث دورات:

- ١- الدورة القلبية
- ٢- الدورة الرئوية (الدورة الدموية الكبرى)
- ٣- الدورة القلبية (الدورة الدموية الصغرى)

س ٣ - أملأ الجدول التالي بالمناسب من دورات الدم :

يحدث فيها	الدورة الدموية
يتدفق الدم من نسيج القلب وإليه ناقلا له الغذاء والأكسجين ومخلصه من الفضلات	القلبية
يتدفق الدم من القلب إلى الرئتين محملا بثاني أكسيد الكربون وإعادته من الرئتين إلى القلب محملا بالأكسجين	الرئوية
يتدفق الدم من القلب إلى جميع أعضاء الجسم محملا بالأكسجين وإعادته من جميع أعضاء الجسم إلى القلب محملا بثاني أكسيد الكربون	الجسمية

التاريخ	الدرس الرابع	الأوعية الدموية
رقم الصفحة في الكتاب	٢٠ الى ٢٢	خاص بالمعلم /

س ١ - تصنف الأوعية الدموية إلى :

١- الشرايين ٢- الأوردة ٣- الشعيرات الدموية

س ٢ - أماً الجدول التالي بالمناسب:	راجع الرسم ص ٢٠
الشرايين	مميزاته
الأوردة	- تحمل الدم بعيد عن القلب محملاً بالغذاء والأكسجين - جدارها عضلي سميك
الشعيرات الدموية	- تعيد الدم إلى القلب - تحتوي صمامات تضمن تحرك الدم باتجاه القلب - سمك جدار خلية واحدة فقط - تستطيع المواد الغذائية والفضلات من الانتشار خلالها

س ٣ - تسمى الأوعية التي تربط بين الشرايين و الأوردة بـ **الشعيرات الدموية**

س ٤ - تحدث عملية تبادل الغذاء والأكسجين والفضلات في **الشعيرات الدموية**

س ٥ - تسمى القوة التي يؤثر بها الدم على جدران الأوعية الدموية بـ **ضغط الدم**

س ٦ - من الأمراض التي تصيب القلب والأوعية الدموية :

١- **تصلب الشرايين** (يصيب الشرايين ويسبب الذبحة القلبية)

٢- **ارتفاع ضغط الدم** (من أسبابه تصلب الشرايين)

٧ - **اللمف** :سائل بلازما الدم يخرج من الأوعية الدموية وينتشر بين خلايا الجسم

التاريخ	الدرس الخامس	المناعة والمرض
رقم الصفحة في الكتاب	٢٣ الى ٢٤	خاص بالمعلم /

س ١ - وضع الخالق سبحانه وتعالى في جسم الإنسان وسائل دفاع هي :

- ١ - خط الدفاع الاول : يعمل ضد المواد الضارة والمخلوقات الحية المسببة للمرض .
- ٢ خط الدفاع الثاني : يعمل ضد مسببات أمراض معينة ، ويتمثل في جهاز المناعة .

س ٢ - يوجد خط الدفاع الأول في أجسامنا بعدة أجهزة هي :

- ١ - الجلد ٢ - الجهاز التنفسي ٣ - الجهاز الهضمي ٤ - الجهاز الدوري

س ٣ - تحتوي أجهزة الجسم على عدة وسائل للدفاع :

- الجلد : ١ - الغدد الدهنية
- الجهاز التنفسي : ١ - الشعيرات (الأهداب) ٢ - المخاط
- الجهاز الهضمي : ١ - اللعاب ٢ - الانزيمات ٣ - حمض الهيدروكلوريك
- الجهاز الدوري : ١ - خلايا الدم الحمراء

س ٤ - لا يمكن أن تلتصق البكتيريا بجدار المعدة الداخلي - علل

لان المعدة مبطنة بمخاط يمنع التصاق البكتيريا بجدار المعدة

س ٥ - تفرز غدد المعدة حمض الهيدروكلوريك وله عدة فوائد منها :

- ١ - هضم الطعام ٢ - إيقاف نشاط الفيروسات ٣ - القضاء على البكتيريا

أنواع المناعة	الدرس السادس	التاريخ
خاص بالمعلم /	٢٤ الى ٢٥	رقم الصفحة في الكتاب

س ١ - أكمل الفراغ:

- ١- مولدات الضد : جزيئات معقدة لا تنتمي للجسم ، وتوجد على سطح مسببات المرض .
 ٢- الجسم المضاد : بروتين يستجيب لمولد الضد ويبطل فعاليته .

س ٢ - يمكن للأجسام المضادة بناء دفاعات للجسم بطريقتين :

١ - المناعة الطبيعية ٢ - المناعة الاصطناعية

س ٢ - قارن :		
نوع المناعة	كيف تحدث	مدة فعاليتها
المناعة الطبيعية	يقوم الجسم بإنتاج الاجسام المضادة استجابة لمولد الضد	طول الحياة
المناعة الاصطناعية	تحدث عندما يحقن الجسم بالاجسام المضادة التي انتجتها حيوانات اخرى	لاتدوم طويلا

س ٤ - يمكن تكوين مناعة طبيعية للجسم بواسطة الحصول على الطعام وذلك من خلال الحقن

س ٥ - لماذا يحتاج الأطفال للتطعيم ؟

لان بعد الولادة يكون جسم الطفل يكون محتوي على جميع الاجسام المضادة التي تمتلكها الام في دمها . الا ان الاجسام المضادة تبقى عدة اشهر ثم تتحلل لذا يحتاج التطعيم

التاريخ	الدرس السابع	المرض عبر التاريخ
رقم الصفحة في الكتاب	٢٦ - ٣٠	خاص بالمعلم /

س ١ - أختَر الإجابة الصحيحة:

- اكتشف ان المخلوقات الحية الدقيقة تسبب الامراض . (باستور - فلمنج)
- عملية تسخين السائل الى درجة حرارة معينة للقضاء على البكتيريا. (الفلتره - البستره)
- تغزو الخلايا المضيفة وتتكاثر فيها وتخطمها ثم تخرج منها لتهاجم خلايا أخرى (الفيروسات - الفطريات)
- يهاجم فيروس HIV جهاز المناعة ويتسبب في مرض (الايدز - السل)

س ٣ - الأمراض المعدية

تعريفها : هي أمراض تسببها **الفيروسات** وتنتقل من المخلوق المصاب أو من البيئة إلى مخلوق آخر .

س ٢ - ضع الرقم المناسب من المسبب أمام ما يناسبه من المرض :

المسبب	المرض
١ - الأوليات	٣ - السل - الطاعون
٢ - الفيروسات	١ - الملاريا
٣ - البكتيريا	٤ - مرض قدم الرياضي
٤ - الفطريات	٢ - الأنفلونزا - الايدز - شلل الأطفال

من أمثلة الأمراض المعدية : **الرشح و الانفلونزا و السل**

تنتقل الأمراض المعدية عن طريق : **الاتصال المباشر و اللعب و التلامس**

س ٤ - من أمثلة الأمراض الجنسية : **الايدز و الهربس و السيلان**

التاريخ	الدرس الثامن	الامراض المزمنة
رقم الصفحة في الكتاب	٣٠-٣٣	خاص بالمعلم /

س ١ - الأمراض المزمنة :

◀ تعريفها : هي أمراض لا تنتقل من شخص الى اخر

◀ من أمثلة الأمراض المزمنة : **السكري و السرطان و امراض القلب**

س ٢ - أكمل الفراغات التالية :

١- **الحساسية** تسبب إفراز الهستامين

٢- يمكن استخدام مضادات **الهستامين** في علاج الحساسية .

٣- **الانسولين** ينظم مستوى السكر في الدم

٤- **السرطان** مجموعة من الأمراض التي تنتج من عدم السيطرة على نمو الخلايا

س ٣- ارتفاع مستوى السكر لفترة طويلة يسبب مشاكل صحية منها .

١ - **الرؤية الضبابية** ٢ - **فشل الكلى**

س ٤- اذكر بعض مسببات مرض السرطان .

١ - **التدخين** ٢ - **الاشعة السينية والنووية** ٣ - **الكحول**

س ٥- كيف ينتشر مرض السرطان في الجسم .

١ - **الاعوية اللمفية** ٢ - **تنتشر عبر الدم**

س ٦- من طرق العلاج والوقاية من مرض السرطان بإذن الله :

١ - **الامتناع عن التدخين** ٢ - **اجتناب المشروبات المحرمة**

جهاز الدوران	تقويم	التاريخ : / / ١٤٤٤ هـ
اسم الطالب /	٧٧ - ٤٦	رقم الصفحة في الكتاب

حدد الإجابة الصحيحة:-

1	A	السمحاق	B	العظم الكثيف	C	الغضروف	D	<u>نخاع العظم</u>
2	A	الهيموجلوبين	B	<u>الفابرين</u>	C	السمحاق	D	لا شيء مما سبق
3	A	الأوردة	B	<u>الشرايين</u>	C	الصفائح الدموية	D	جميع ما سبق
4	A	<u>خلايا الدم البيضاء</u>	B	خلايا الدم الحمراء	C	الخلايا العصبية	D	صفائح الدم
5	A	<u>الهيموجلوبين</u>	B	الفابرين	C	الدم	D	لا شيء مما سبق

س٢ / يتكون جهاز الدوران من ثلاث مكونات اذكرها ؟
القلب - الدم - الاوعية الدموية

س٣ / عدد فصائل الدم ؟

- ١- O
٢- B
٣- A
٤- AB

س٤ / مما تتكون الاوعية الدموية ؟

- ١- الاوردة
٢- الشرايين
٣- الاوردة

س٥ / علل لماذا تسمى فصيلة الدم (o) المانح العام ؟

لأنها تعطي جميع الفصائل

التاريخ : / / ١٤٤٤ هـ	الدرس التاسع	الجهاز الهضمي
رقم الصفحة في الكتاب هـ	٤٤ - ٤٥	اسم الطالب /

المواد الغذائية	هي مواد ضرورية لنمو الخلايا وتعويض الانسجة التالفة
أهمية الغذاء	١- النمو ٢- تعويض الانسجة التالفة
تعريف الهضم	هو تحليل جزيئات الطعام الكبيرة الى صغيرة لكي يسهل امتصاصها ونقلها للدم
مراحل الهضم	١- البلع ٢- الامتصاص ٣- الهضم ٤- التخلص من الفضلات
أنواع الهضم	هضم ميكانيكي يتمثل في مضغ الطعام وتقطيعه
	هضم كيميائي يتمثل في تحليل الطعام بفعل الانزيمات والتفاعلات الكيميائية

الانزيمات:-

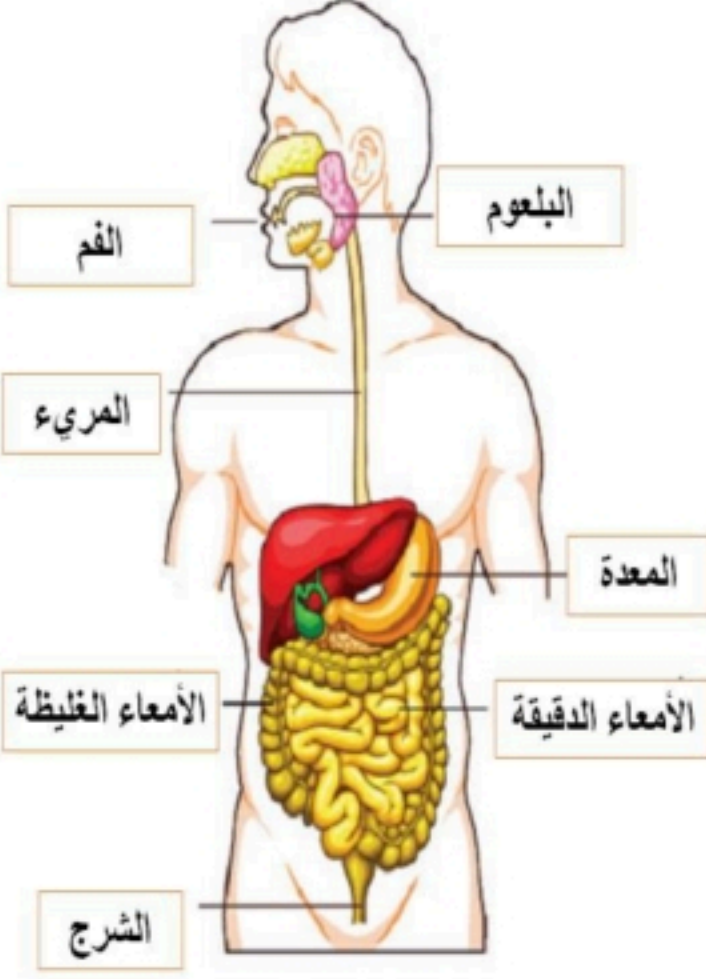
الانزيم	هي بروتينات تسرع من معدلات العمليات الكيميائية في الجسم
أماكن وجودها	١- الغدد اللعابية ٢- المعدة ٣- الأمعاء الدقيقة ٤- البنكرياس
وظائف الانزيمات	١- تسريع التفاعلات الكيميائية ٢- تساعد على تجلط الدم ٣- تساعد في هضم (الكربوهيدرات - البروتينات - الدهون)

يتكون الجهاز الهضمي من جزأين رئيسين :-

- ١- القناة الهضمية (يحدث فيها هضم وتحليل وامتصاص الطعام)
- ٢- ملحقات القناة الهضمية (لا يمر فيها الطعام ولا تهضمه ولكن تساعد في عملية الهضم من خلال ماتفرزه من انزيمات)

التاريخ	الدرس العاشر	الجهاز الهضمي
رقم الصفحة في الكتاب	٤٥ الى ٤٨	خاص بالمعلم /

* مكونات الجهاز الهضمي

	<p>تتكون مما يلي:-</p> <ol style="list-style-type: none"> ١- الفم ٢- المريء ٣- المعدة ٤- الأمعاء الدقيقة ٥- الأمعاء الغليظة ٦- المستقيم 	<p>١- القناة الهضمية</p>
<p>٤- اللعاب</p> <p>٥- الكبد</p> <p>٦- البنكرياس</p>	<p>تتكون مما يلي:-</p> <ol style="list-style-type: none"> ١- الاسنان ٢- الغدد اللعابية ٣- الحويصلة الصفراوية 	<p>٧- ملحقات القناة الهضمية</p>

* مهمة ادائية :- أكمل الجدول في ورقة العمل التالية

س ١ :- أذكر تعريف و وظيفة كل مكون من مكونات القناة الهضمية ؟

التاريخ	الدرس الحادي عشر	تابع الجهاز الهضمي
رقم الصفحة في الكتاب	٤٦ الى ٤٨	خاص بالمعلم /

الوظيفة	الهضم	التعريف	مكونات القناة الهضمية
	ميكانيكي كيميائي		١- الفم
	لا يحدث هضم		٢- المرئ
	ميكانيكي كيميائي		٣- المعدة
	ميكانيكي كيميائي		٤- الأمعاء الدقيقة
	لا يحدث هضم		٥- الأمعاء الغليظة
	لا يحدث هضم		٦- المستقيم

التاريخ	الدرس الثاني عشر	الجهاز الهضمي
رقم الصفحة في الكتاب	٥٣-٤٨	خاص بالمعلم /

س ١ - يحتوي الطعام على ستة مجموعات غذائية هي :

١- البروتينات ٢- الكربوهيدرات	- تسمى المواد الغذائية العضوية لأنها تحتوي على <u>الكربون</u>
٣- الدهون ٤- الفيتامينات	- لا بد من هضمها قبل الامتصاص .
٥ - الماء ٦- الاملاح المعدنية	- تسمى المواد الغذائية غير العضوية لأنها لا تحتوي على <u>الكربون</u>
	- لا تحتاج إلى الهضم ويمتصها الدم مباشرة

س ٢ - أكمل الجدول التالي بالمناسب :

ملحوظات	المجموعة الغذائية
- تتكون من وحدات صغيرة تسمى <u>الاحماض الامينية</u> - أهميتها : * <u>النمو</u> * <u>تعويض الخلايا التالفة</u>	١- البروتينات
- هي المصدر الرئيس <u>للطاقة</u> - أنواعها : <u>السكريات و النشويات و الالياف</u>	٢- الكربوهيدرات
- فوائدها : * <u>تمد الجسم بالطاقة</u> * تساعد على امتصاص <u>الفيتامينات</u> - وسادة تتركز عليها الأعضاء الداخلية . - أنواعها : <u>مشبعة و غير مشبعة</u> - الدهون المشبعة لها علاقة بمستوى <u>الكوليسترول</u> والذي قد يسبب ارتفاعه أمراض القلب	٣- الدهون
- تعريفها : هي مواد غذائية عضوية يحتاج إليها بكميات قليلة للنمو وتنظيم وظائف الجسم و الوقاية من الأمراض - من فوائدها :: * <u>الوقاية من الأمراض</u> * <u>تنظيم وظائف الجسم</u> - أنواعها : ١- <u>الذائبة في الماء</u> (لا تخزن في الجسم ويجب تناولها يوميا) ٢- <u>الذائبة في الدهون</u> (تخزن في الجسم)	٤- الفيتامينات
- هي مواد غير عضوية <u>تنظم العديد من التفاعلات الكيميائية في الخلايا</u> - يحتاج الجسم <u>١٤</u> نوعا منها.	٥- الأملاح المعدنية
- يشكل الماء نسبة <u>٧٠ بالمائة</u> من كتلة الجسم . - الماء يذيب وينقل الغذاء داخل الجسم.	٦- الماء

س ٣ - توجد المواد الغذائية في خمس مجموعات من الطعام هي :

١ - الخبز ٢ - منتجات الحبوب ٣- الخضروات ٤- الفواكه ٥ - الحليب واللحوم

التاريخ	الدرس الثالث عشر	الجهاز التنفسي
رقم الصفحة في الكتاب	٥٥ الى ٥٧	خاص بالمعلم /

وظائف الجهاز التنفسي :-

١- امداد الجسم بالاكسجين من خلال عملية التنفس

٢- تخليص الجسم من ثاني أكسيد الكربون وبعض جزيئات الماء من خلال الزفير

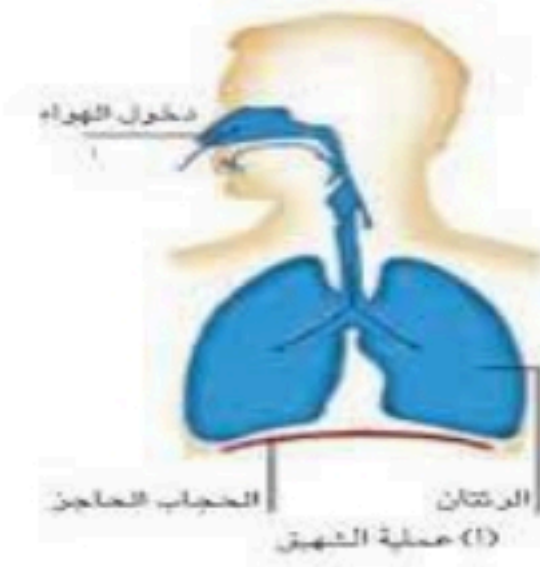
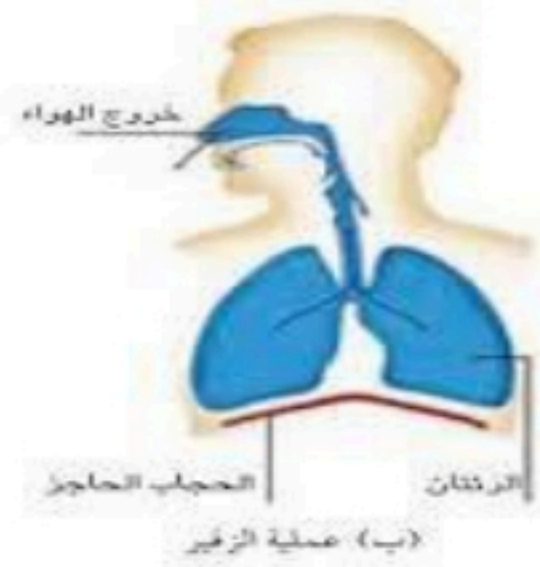
* - **التنفس الخلوي** : هي تفاعلات كيميائية تتم داخل الخلية في وجود الاوكسجين لإطلاق الطاقة

تركيب الجهاز التنفسي :-

الوظيفة	التعريف	أجزاء الجهاز التنفسي
تنقية الهواء وترطيبه وتدفئته	عضو غضروفي ذو فتحتين يمر خلالها الهواء	الانف
- ممر للهواء الاهداب و الشعيرات والمخاط - يوجد اخر البلعوم لسان المزمار والمسنول عن اغلاق ممر الهواء اثناء الطعام	أنبوب يمر من خلاله الهواء والسوائل	البلعوم
- ممر للهواء - تتصل الحنجرة بأربعة أزواج من الاورتار الصوتية	عضو غضروفي يلي البلعوم وتحوي على الحبال الصوتية	الحنجرة
- منع دخول الاجسام الغريبة للرنه (غبار - بكتيريا) - ممر للهواء	حلقات غضروفية غير مكتملة النمو على شكل حرف (C) ومبطنة بغشاء مخاطي واهداب تتصل بين الحنجرة والرئتين	القصبه الهوائية
- منع دخول الاجسام الغريبة للرنه (غبار - بكتيريا) - ممر للهواء	انبوبان قصيران يوجدان في الجزء السفلي من القصبه الهوائية يدخل كل منها الى الرئة	القصببتان الهوائيتان
- تحث بينها وبين الشعيرات الدموية تبادل الغازات () الاكسجين وثاني أكسيد (الكربون)	مجموعة أكياس ذات جدران رقيقة تشبه عناقيد العنب محاطة بشبكات من الشعيرات الدموية	الحويصلات الهوائية

التاريخ	الدرس الرابع عشر	الجهاز التنفسي وامراضه
رقم الصفحة في الكتاب	٩١-٥٨	خاص بالمعلم /


الشهيق	التعريف	
	كيف حدوثه	تحدث عملية الشهيق نتيجة انقباض لعضلة الحجاب الحاجز فينتقل الهواء من التركيز العالي في الخارج الى التركيز المنخفض في الرئتان
الزفير	التعريف	
	كيف حدوثه	تحدث عملية الزفير نتيجة انبساط لعضلة الحجاب الحاجز فيضغط على الرئتين فيندفع الهواء الى خارج الرئتين



امراض الجهاز التنفسي واسبابه :-

تهيج واحتقان مع وجود مخاط	الاعراض	التهاب القصيبات المزمن
زيادة حجم الحويصلات في الرئة	الاعراض	انتفاخ الرئة
التدخين واستنشاق القطران	سببه	سرطان الرئة
عدم القدرة على التنفس وكثرة السعال	الاعراض	الربو
استنشاق دواء يساعد على ارتخاء القصبات	العلاج	
احتقان البلعوم وتهيج القصبة الهوائية	الاعراض	الرشح

التاريخ	الدرس الخامس عشر	الجهاز الاخراجي
رقم الصفحة في الكتاب	٦١-٦٥	خاص بالمعلم /



وظيفة الجهاز الاخراجي :-

تخليص الجسم من الفضلات الضارة

أنواع أجهزة الاخراجي :-

- ١- الجهاز الهضمي
- ٢- الجهاز البولي
- ٣- الجهاز التنفسي
- ٤- الجلد

وظائف الجهاز البولي:-

١- التخلص الدم من الفضلات الناتجة من التنفس الخلوي....

٢- تنظيم مستوى الماء والاملاح المعدنية في الجسم للقيام بالانشطة الحيوية جميعها

تركيب الجهاز البولي :-

تنقية الدم من الفضلات التي جمعت من الخلايا	وظيفتها	١ - الكلية
تشبه حبة الفاصوليا	شكلها	
الجهة الخلفية من البطن على مستوى الخصر	موقعها	
تتركب من تراكيب صغيرة تسمى النفريدات...	تركيبها	
تعريف النفريدات : هي انايب ملتوية تشكل الوحدات البنائية والوظيفية للكلية من تركيب كاسي الشكل وتركيب انبوبي يسمى القناة		
هو أنبوب يصل المثانة بالكلية		٢ - الحالبان
هو عضو عضلي مرن يخزن البول الى حين إخراجة من الجسم (مستودع البول)		٣ - المثانة
هو قناة لاجراج البول من الجسم		٤ - الاحليل

** امراض الجهاز البولي :-

العلاج	الاعراض	السبب	المرض
الغسيل أو زراعة كلية	توقف الكلية عن العمل	تراكم الفضلات والسموم بالجسم	الفشل الكلوي

التاريخ	الدرس السادس عشر	الجلد والعضلات
رقم الصفحة في الكتاب	٨٤-٨٧	خاص بالمعلم /

الجلد أكبر أعضاء الجسم و أكبر أعضائه الحسية

س ١ / يتكون الجلد من ثلاث طبقات من الانسجة وهي :-

١- البشرة ٢- الطبقة الدهنية ٣- الأدمة

الطبقة	خصائصها
البشرة	الطبقة الخارجية الرقيقة من الجلد . وتتكون من خلايا ميتة
الادمة	طبقة اسف البشرة ز وتحتوي الاوعية الدموية والغدد العرقية والنهايات العصبية
الطبقة الدهنية	طبقة من الخلايا الدهنية وهي طبقة عازلة للجسم وتحتزن فيها الدهون

س ٢ - ماهو الميلانين هي صبغة كيميائية تحمي الجلد وتكسبه لونه

*ملاحظة هامة * وظيفة الجلد الأساسية هي الحماية

س ٣ - للجلد عدة وظائف منها :

١- الحماية ٢- الاستجابة ٣- تصنيع فيتامين د

٤- تخلص الجسم من الفضلات ٥- تنظيم حرارة الجسم

س ٤ - عدد وظائف الغدد العرقية :

١- تخلص الجسم من الفضلات ٢- تنظيم حرارة الجسم

س ٥- من إصابات الجلد : الكدم و الخدوش و الجروح و الحروق

ماهي الكدوم : هي سحق للاوعية الدموية تحت الجلد المتضرر

ملاحظة * سبب اللون الأحمر عند الكدوم هو تحرر صبغة الهيموجلوبين من مجرى الدم

التاريخ	الدرس ١٧	العضلات
رقم الصفحة في الكتاب	٨٧-٩٢	خاص بالمعلم /

س ١ - تساعد العضلات الجسم على الحركة من خلال عملية الانقباض و الانبساط

أنواع العضلات في جسم الإنسان

نوع العضلات	تعريفها	امثلة
العضلات الارادية	عضلات تتحرك بإرادتك	اليد - الرجل
العضلات اللارادية	عضلات تتحرك تلقائيا	القلب - الأمعاء - الاوعية

أنواع الانسجة العضلية

نوع الانسجة	تعريفها
١- الهيكلية	<ul style="list-style-type: none"> عضلات إرادية تحرك العظام وتشكل معظم كتلة عضلات الجسم تتصل بالعظام بواسطة نسيج رابط يسمى الوتر
٢- القلبية	عضلات لا ارادية توجد في القلب فقط
٣- الملساء	<ul style="list-style-type: none"> عضلات لا ارادية توجد في الأمعاء والمثانة و الاوعية الدموية

● تحتاج عضلات الجسم إلى **الطاقة** لتكون قادرة على الانقباض و الانبساط

ملاحظات

- الغذاء مصدر الطاقة ويزود العضلات بالطاقة الكيميائية التي تتحول إلى طاقة حرارية وحركية
- يزداد حجم العضلات بالاستعمال والتدريبات
- العضلة هي عضو قادر على الانقباض و الانبساط ويوفر قوة لتحريك العظام

التاريخ	الدرس ١٨	الجهاز الهيكلي
رقم الصفحة في الكتاب	٩٣-٩٤	خاص بالمعلم /

يتكون الجهاز الهيكلي من جميع العظام الموجودة في الجسم

س ١ / اذكر وظائف الجهاز الهيكلي :

- ١- يعطي الجسم الشكل والدعامة
- ٢- حماية الأعضاء الداخلية
- ٣- تتصل بالعضلات وتساعد على الحركة
- ٤- تتكون في خلايا الدم
- ٥- تخزن فيه مركبات الكالسيوم والفسفور والتي تكسب العظام الصلابة

س ٢ / العظم يتكون من عدد من الانسجة وهي : (راجع الشكل ١٠ ص ٩٣)

نوع النسيج	خصائصه
السمحاق	غشاء صلب يغلف سطح العظم
العظم الكثيف	يعطي العظم صلابة لأنه يحتوي على شبكة تترسب عليها أملاح الكالسيوم
العظم الاسفنجي	يحتوي على مسامات تجعل العظم اخف وزن
نخاع العظم	<ul style="list-style-type: none"> • نخاع اصفر (تتكون فيه مواد دهنية) • نخاع احمر (تنتج خلايا الدم)
الغضروف	<ul style="list-style-type: none"> • طبقة ناعمة لزجة سميكة تغلف أطراف العظم • يمتاز بمرونته ومهم للمفاصل في امتصاص الصدمات وسهولة الحركة

التاريخ	الدرس ١٩	المفاصل
رقم الصفحة في الكتاب	٩٤-٩٧	خاص بالمعلم /

س١ / **المفصل** : ملتقى عظمتين أو أكثر في الهيكل العظمي

س٢ / ترتبط العظام مع بعضها في المفصل بواسطة : **الاربطة**

س٣ / علل يغلف الغضروف في اطراف العظم عند المفاصل طبقة رقيقة ، كما يملأ تجويف المفصل سائل لزج ؟ **لتقليل الاحتكاك ويساعدها على الحركة**

س٤ / تصنف المفاصل إلى : **ثابتة و متحركة**

الشكل	مثال	نوع المفصل
	<p>مفاصل المجمعة</p> <p>مفاصل الحوض</p>	١- المفاصل الثابتة
	<p>عند حركة الرأس (العنق)</p>	المحوري
	<p>مفصل الكتف</p>	الكروي
	<p>مفصل الركبة والاصابع</p>	الرزي
<p>مفصل المعصم وفقرات الظهر</p>	الانزلاقي	
		٢- المفاصل المتحركة

التاريخ	الدرس ٢٠	الجهاز العصبي
رقم الصفحة في الكتاب	٩٨-١٠١	خاص بالمعلم /

**أجهزة التنظيم تعمل على المحافظة على الاتزان الداخلي
 ** من امثلة الاتزان الداخلي - تنظيم معدل التنفس ونبضات القلب والهضم
 ** المنبه كل تغير داخل الجسم او خارجه ويتطلب استجابته

س ١ / **العصبون (الخلية العصبية)** : هي وحدات وظيفية أساسية يتكون منها الجهاز العصبي

س ٢ / يتكون العصبون (الخلية العصبية) من الأجزاء الآتية : (راجع الشكل ١٥ ص ٩٩)

الاجزاء	رسمه الخلية
١- جسم الخلية	
٢- الشجيرات العصبية	
٣- المحور الاسطواني	

س ٣ / ينقل العصبون رسائل تسمى **السيال العصبي** والذي يتحرك في اتجاه واحد .

س ٤ / هناك ثلاث أنواع من العصبونات (الخلايا العصبية) هي :

١- الحسية ٢- الحركية ٣- الموصلة

س ٥ / **الشق التشابكي** / المسافة القصيرة الفاصلة بين كل عصبون والذي يليه

س ٦ / يتكون الجهاز العصبي من قسمين :

١- الجهاز العصبي **المركزي** يتركب من أ- **الدماغ** ب- **الحبل الشوكي**

٢- الجهاز العصبي **الطرفي** يشمل جميع الاعصاب الموجودة خارج الجهاز العصبي المركزي

يتكون من الاعصاب الدماغية والاعصاب الشوكية

** **الدماغ** هو مركز تنظيم جميع الأنشطة الحيوية

س ٦ / يتكون الجهاز العصبي الطرفي من قسمين :

١- الجهاز العصبي **الجسمي** ينظم الأفعال الإرادية

٢- الجهاز العصبي **الذاتي** ينظم الأفعال الإرادية

س ٧ / **رد الفعل المنعكس** : استجابة غير إرادية تلقائية سريعة للمنبه . لا يستطيع التحكم فيه

التاريخ	الدرس ٢١	الحواس
رقم الصفحة في الكتاب	١٠٦-١٠١	خاص بالمعلم /

*تستجيب الحواس للمؤثرات وتعمل معا للحفاظ على الاتزان الداخلي

س ١ / اكمل الفراغات في جدول الحواس :

الحاسة	خصائصها
١- الجلد	يحتوي على مستقبلات حسية (خلايا حسية) تستجيب للمؤثرات من حرارة وضغط
٢- العين (الابصار)	<ul style="list-style-type: none"> • القرنية هي مقطع شفاف في مقدمة العين ينفذ من خلاله الضوء فينكسر • الشبكية نسيج في مؤخرة العين يمتاز بحساسيته للطاقة الضوئية والصور <p>**تركب الشبكية من نوعين من الخلايا :</p> <p>أ- المخاريط ب- العصي</p> <p>**ملاحظة :- تكون الصورة المنقولة من الدماغ مقلوبة فيفسرها بصورتها الصحيحة</p> <p>(راجع الشكل ١٨ ص ١٠٢)</p>
٣- الاذن (السمع)	<p>- الاذن مقسمة الى أجزاء ثلاثة :</p> <p>١ - الاذن الخارجية ٢- الاذن الوسطى ٣- الاذن الداخلية</p> <p>- تتكون الاذن الوسطى من طبلة الاذن وثلاث عظام صغيرة هي :</p> <p>المطرقة و السندان و الركاب</p> <p>- تتكون الاذن الوسطى من :</p> <p>أ - القوقعة تستجيب للصوت</p> <p>ب- القنوات الهلالية لها دور في توازن الجسم</p> <p>(راجع الشكل ١٩ ص ١٠٣) (راجع الشكل ٢٠ ص ١٠٣)</p>
٤- الانف (الشم)	يحتوي على مستقبلات حسية (المستقبلات الشمية) تستجيب للرائحة
٥- التذوق (اللسان)	<p>- تشكل البزاعم الذوقية الموجودة على اللسان مستقبلات التذوق الرئيسية</p> <p>(راجع الشكل ٢١ ص ١٠٥)</p>

س ٢ / **المنبهات** هي مواد تسرع نشاط الجهاز العصبي المركزي

التاريخ	تقويم	أجهزة الدعامة والحركة والاستجابة
رقم الصفحة في الكتاب	١١٣-٨٤	خاص بالمعلم /

حدد الإجابة الصحيحة:-

1	A	السمحاق	B	العظم الكثيف	C	الغضروف	D	<u>نخاع العظم</u>
2	توجد المفاصل غير المتحركة في الانسان في							
A	المرفق	B	العنق	C	<u>الجمجمة</u>	D	لا شيء مما سبق	
3	أي الأجزاء التالية جزء من الاذن الوسطى							
A	المطرقة	B	السندان	C	الركاب	D	<u>جميع ما سبق</u>	
4	نسيج في مؤخرة العين يمتاز بحساسيته للطاقة الضوئي والصور هو							
A	القرنية	B	<u>الشبكية</u>	C	العدسة	D	الاذن	
5	المسافة القصيرة الفاصلة بين كل عصبون والذي يليه							
A	السيال العصبي	B	<u>الشق التشابكي</u>	C	الشجيرات العصبية	D	لا شيء مما سبق	
6	حزمة من الانسجة الصلبة تربط بين عظمتين							
A	الاورتار	B	<u>الاربطة</u>	C	المفاصل	D	لا شيء مما سبق	

س ٢ / يتكون الجلد من ثلاث طبقات اذكرها ؟

١- البشرة ٢- الادمة ٣- الخلايا الدهنية

س ٤ / اذكر أنواع العضلات في جسم الانسان ؟

١- إرادية
٢- لا إرادية

س ٥ / مما يتركب الجهاز العصبي ؟

١- العصبي المركزي
٢- العصبي الطرفي

س ٥ / ضع المصطلح العلمي المناسب امام كل جملة ؟

11	صبغة كيميائية تحمي الجلد وتكسبه لون	<u>الميلانين</u>
12	طبقة ناعمة لزجة سميقة تغلف اطراف العظم	<u>الغضروف</u>
13	غشاء صلب يغلف سطح العظم	<u>السمحاق</u>
14	الوحدة الوظيفية الأساسية في جسم الانسان	<u>الخلية العصبية</u>

التاريخ	الدرس ٢٢	التنظيم والتكاثر
رقم الصفحة في الكتاب	١١٨-١٠٦	خاص بالمعلم /

س ١ / أجهزة التنظيم والسيطرة في جسم الانسان هي :

أ - الجهاز العصبي ب - الجهاز الهرموني (الغدد الصماء)

وظائفه	الجهاز
يرسل رسائل كيميائية عبر الدم في انسجة الجسم . <u>الاستجابة غير سريعة</u>	الجهاز الهرموني (الغدد الصماء)
يرسل سيالات عصبية سريعة من والى الدماغ وتكون <u>الاستجابة سريعة</u>	الجهاز العصبي

س ٢ / **المهرمونات** هي رسائل كيميائية تنتج من الغدد الصماء الى الدم مباشرة وتؤثر في خلايا الدم

س ٣ / أنواع الغدد نوعان اذكرها :

نوع الغدة	تعريفها	مثال
الغدد القنوية	تصب إفرازها في انبوب	الغدد العرقية و اللعابية
الغدد غير قنوية (الصماء)	تصب إفرازها في الدم مباشر	النخامية و الكظرية

س ٤ / عدد وظائف الغدد الصماء ؟

١- تنظيم البيئة الداخلية في الجسم

٢- تشجع النمو

٣- التكيف مع الضغط النفسي

٤- تنظيم عمل الجهاز الدوراني و الهضمي

التاريخ	الدرس ٢٣	الغدد الصماء
رقم الصفحة في الكتاب	١١٨-١٢٢	خاص بالمعلم /

س ١ / ضع الغدة المناسبة أمام عملها :

الغدة	عملها
<u>الصنوبرية</u>	تنظيم عملية النوم
<u>النخامية</u>	تنظيم نشاط الغدد الصماء الأخرى والنشاطات الحيوية في الجسم
<u>الزعترية</u>	تحفز تصنيع خلايا تقاوم الالتهاب
<u>الخصيتان</u>	مسؤولة عن الصفات الجنسية الذكرية ولها دور في إنتاج الحيوانات المنوية
<u>الدرقية</u>	تتحكم في ايونات الكالسيوم وتعزز نمو الجهاز العصبي
<u>جارات الدرقية</u>	تنظم مستوى الكالسيوم ولها دور في نقل السيالات العصبية
<u>الكظرية</u>	لها دور في تكيف الجسم مع الحالات الطارئة
<u>البنكرياس</u>	تسمى غدد لانجر هانز ولها دور في تنظيم مستوى السكر في الدم
<u>المبايض</u>	مسؤولة عن الصفات الجنسية الانثوية . وتنظم الدورة التكاثرية لدى الانثى

س ٢ / تعتبر الغدة النخامية اهم الغدد الصماء علل ؟

لانها تنظم نشاط الغدد الصماء الأخرى والنشاطات الحيوية الأخرى

س ٣ / نظام التغذية الراجعة السلبي هي نظام يتحكم في مستوى الهرمونات في الدم من خلال الرسائل

الكيميائية التي ترسلها الغدد الصماء والتي تدور في حلقة مغلقة

ومن امثلتها عملية تنظيم مستوى السكر في الدم

التاريخ	الدرس ٢٤	التكاثر و الغدد الصماء
رقم الصفحة في الكتاب	١٢٢ - ١٢٤	خاص بالمعلم /

- س١ / **التكاثر** عملية مستمرة تحافظ على بقاء الحياة على الأرض واستمرارها
- س٢ / تعمل هرمونات الغدة **النخامية** على إنتاج البويضة والحيوانات المنوية
- س٣ / البويضة والحيوانات المنوية لها دور في نقل **المادة الوراثية** من جيل الى اخر

س٤ / يتكون الجهاز التناسلي الذكري من :

- أ - أعضاء خارجية وهي : **القضيب و الصفن** (يحتوي على خصيتين)
- ب - أعضاء داخلية وهي : **القناة المنوية و الحويصلات المنوية** و غدة البروستات

س٥ / **الحيوان المنوي** : يتكون من رأس و ذيل ويحتوي الرأس على المادة الوراثية في النواة وهي **الخلايا التناسلية الذكرية** .

س٦ / **السائل المنوي** : هي خليط من الحيوانات المنوية والسائل .

س٧ / **الحويصلة المنوية** : توفر سائل للحيوانات المنوية ويزودها بالطاقة الضرورية لحركتها .

س٨ / يخرج البول والسائل المنوي عبر قناة الاحليل ومع ذلك لا يختلطان ؟ علل

بسبب وجود عضلات خلف المثانة تمنع خروج البول اثناء خروج السائل المنوي

س٩ / انظر الشكل التوضيحي للحيوان المنوي في الرسمة التالية :



التاريخ	الدرس ٢٥	التكاثر و الغدد الصماء
رقم الصفحة في الكتاب	١٢٥-١٣٠	خاص بالمعلم /

*المبيضان هما الأعضاء الجنسية الانثوية ، وينتجان بويضة كل شهر بالتناوب

س ١ / ضع المصطلح أمام التعريف المناسب :

المصطلح	التعريف
البويضة	الخلية التناسلية الانثوية
الاباضة	دورة شهرية تنضج خلالها البويضة ، لتخرج من المبيض إلى قناة البيض
الرحم	كيس عضلي كمثري الشكل في الانثى
الدورة الشهرية	التغيرات الشهرية التي تحدث في الجهاز التناسلي الانثوي ، ومدتها ٢٨ يوم
المهبل	قناة الولادة (التي يخرج منها المولود)
سن اليأس	مرحلة توقف الاباضة والدورة الشهرية عند المرأة
الحيض	تدفق الدم مرة كل شهر ، ويحتوي على خلايا ناتجة عن زيادة سماكة بطانة الرحم

ملاحظة * تحدث الاباضة بعد ١٤ يوم من بدء الدورة

س ٢ / متى يحصل تمزق بطانة الرحم (الحيض) ؟

يحدث اذا لم يحصل تخصيب للبويضة

س ٣ / أطوار التغيرات التي تحدث في الدورة الشهرية :-	
يحدث فيه تدفق الدم وتحطم الخلايا التي زادت من سماكة جدار الرحم (الحيض)	الطور الاول
المهرمونات تزيد من سمك الرحم وتحدث فيه عملية الاباضة والتلقيح	الطور الثاني
استمرار زيادة الرحم ويكون الرحم جاهزا لحماية الجنين وتغذيته	الطور الثالث

راجع الشكل رقم ٧ صفحة ١٢٧

التاريخ	الدرس ٢٦	مراحل حياة الانسان
رقم الصفحة في الكتاب	١٣٢-١٣٥	خاص بالمعلم /

س ١ / **الإخصاب** عملية اتحاد الحيوان المنوي مع البويضة ويحدث في قناة البيض

س ٢ / الزيغوت (البويضة المخصبة) هي خلية ناتجة عن اتحاد الحيوان المنوي مع البويضة

س ٣ / قارن بين مايلي ؟		
وجه المقارنة	التوائم المتماثلة	التوائم غير المتماثلة
كيف يحدث بإذن الله ؟	اتحاد حيوان منوي واحد مع بويضة واحدة ينتج عنه بويضة مخصبة واحدة ثم تنقسم وتنفصل الى خليتين كل خلية تمثل جنين	اتحاد حيوانان منويان مختلفين مع بويضتين مختلفتين ينتج عنه بويضتين مخصبتين كل منها تمثل جنين
المادة الوراثية فيه	نفسها	مختلفة

س ٤ / في التوائم المتماثلة يكون نوع الجنس واحد (ذكور أو إناث) علل ؟

لان اصلهم بويضة مخصبة واحدة ناتجة من اتحاد حيوان منوي مع بويضة

س ٥ / **الحمل** : الفترة الواقعة بين إخصاب البويضة حتى الولادة ، وتتراوح فترته **٣٨ - ٣٩** اسبوع

س ٦ / تلتصق البويضة المخصبة بجدار الرحم بعد مرور **٧ أيام** ، تشعر الام بحركة الجنين في الشهر **الثالث** ،

يبدأ القلب ينبض خلال اول شهرين ، يمكن تحديد جنس الجنين في الشهر **الرابع**

س ٧ / **الكيس الامنيوني (الرهلي)** : غشاء رقيق يتشكل حول الجنين ويحميه من الأسبوع الثالث .

س ٨ / **الطلق** هي عملية انقباض عضلات الرحم عند قرب الولادة

س ٩ / العملية القيصرية هي **عملية جراحية في جدار بطن الام لاستخراج الجنين**

س ١٠ / **السرة** : هي مكان او اثر اتصال الحبل السري بجسم الجنين

التاريخ	الدرس ٢٧	مراحل الحياه بعد الولادة
رقم الصفحة في الكتاب	١٣٦-١٣٩	خاص بالمعلم /

س٣ / حدد المراحل العمرية التي يمر بها الانسان بعد الولادة ؟

المرحلة	العمر	التغيرات التي تحدث
الطفولة المبكرة	اول ١٨ شهر	يحتاج الى من يرعاه ، وينمو بسرعة ، ويتضاعف وزنه
الطفولة	الى ١٢ عام	يستطيع التحكم بالاجراج ، ونطق بعض الجمل
المراهقة	من ١٢ الى ١٨ عام	تسمى مرحلة البلوغ الجنسي ، وظهور الصفات الجنسية ونمو الشعر في الوجه و زيادة حجم الثديين لدى الاناث ، ونمو العضلات ، ويكون قادر على التكاثر
الشباب	من ١٨ الى ٤٥ عام	آخر مراحل التطور ، ويتوقف نمو العضلات والهيكل العظمي
متوسط العمر	من ٤٥ الى ٦٠ عام	تقل فاعلية بعض أجهزة الجسم كالجهاز التنفسي وجهاز الدوران
الشيخوخة	أكبر من ٦٠ عام	تضعف فاعلية بعض أجهزة الجسم وتصاب العظام بالهشاشة ويضعف السمع والبصر

ختاماً الحمد لله رب العالمين

التاريخ	تقويم	التنظيم والتكاثر
رقم الصفحة في الكتاب	١١٨-١٤٥	خاص بالمعلم /

حدد الإجابة الصحيحة:-

1	اين تحدث عملية الاخصاب	A	<u>قناة البيض</u>	B	الرحم	C	المبيض	D	المهبل
2	اين ينمو الجنين ويتطور	A	المهبل	B	<u>الرحم</u>	C	المعدة	D	قناة البيض
3	ماذا يسمى اتحاد الحيوان المنوي والبويضة	A	<u>الاخصاب</u>	B	الاباضة	C	البلوغ	D	دورة الحيض
4	في أي شهر يتم معرفة جنس الجنين	A	الاول	B	الثاني	C	الثالث	D	<u>الرابع</u>
5	الخلية التناسلية الذكرية	A	الصفن	B	البويضة	C	<u>الحيوان المنوي</u>	D	لا شيء مما سبق

س٢ / اذكر اربع من الغدد الصماء؟

- ٢- النخامية ٢- الكظرية ٣- الصنوبرية
٤- البنكرياس

س٣ / كيف يحدث التوائم المتماثلة ؟

اتحاد حيوان منوي واحد مع بويضة واحدة ينتج عنه بويضة مخصبة واحدة ثم تنقسم وتنفصل الى خليتين كل خلية تمثل جنين

س٤ / ضع المصطلح العلمي المناسب امام كل جملة ؟

1	عملية مستمرة تحافظ على بقاء الحياة على الارض	<u>التكاثر</u>
2	تصب افرازتها في الدم مباشرة	<u>الغدد الصماء</u>
3	الفترة الواقعة بين اخصاب البويضة حتى الولادة	<u>الحمل</u>
4	خليط من الحيوانات المنوية والسائل	<u>السائل المنوي</u>

مع تمنياتي لك بالتوفيق والنجاح