

تم تحميل وعرض المادة من منصة

# حقيبتك

[www.haqibati.net](http://www.haqibati.net)



منصة حقيبتك التعليمية

منصة حقيبتك هو موقع تعليمي يعمل على تسهيل العملية التعليمية بطريقة بسيطة وسهلة وتوفير كل ما يحتاجه المعلم والطالب لكافة الصفوف الدراسية كما يحتوي الموقع على حلول جميع المواد مع الشروح المتنوعة للمعلمين.



قررت وزارة التعليم تدريس  
هذا الكتاب وطبعه على نفقتها



وزارة التعليم  
Ministry of Education

المملكة العربية السعودية

# الدراسات الاجتماعية

## الصف الخامس الابتدائي

### الفصول الدراسية الثلاثة

قام بالتأليف والمراجعة  
فريق من المتخصصين

الاسم: .....

الصف: .....

المدرسة: .....

يوزع مجاناً ولا يباع

١٤٤٦هـ / ٢٠٢٤م



وزارة التعليم  
Ministry of Education  
2024 - 1446

© وزارة التعليم ، ١٤٤٤ هـ

فهرسة مكتبة الملك فهد الوطنية أثناء النشر

وزارة التعليم

الدراسات الاجتماعية: الصف الخامس الابتدائي

- التعليم العام. / وزارة التعليم. - الرياض ، ١٤٤٤ هـ

١٨٤ ص : ٢١ X ٢٥ سم

ردمك: ٩٧٨-٦٠٣-٥٠٨-٧٩٦-٤

١- العلوم الاجتماعية - تعليم - السعودية

٢- التعليم الابتدائي - السعودية - العنوان

ديوي ٣٧٢,٨٣ ١٤٤١/٨٦٣٩ هـ

رقم الإيداع: ١٤٤١/٨٦٣٩

ردمك: ٩٧٨-٦٠٣-٥٠٨-٧٩٦-٤

## صورة الجبل الأبيض في حرة خيبر بمنطقة المدينة المنورة



© الرسوم

دارة الملك عبدالعزيز.

© الخرائط

دارة الملك عبدالعزيز، وهيئة المساحة الجيولوجية.

طُبِعَ هذا الكتاب لأغراض التعليم، ولا يحق نسخ أي جزء منه أو استعماله أو استعمال الرسوم، أو الصور، أو الخرائط، أو المحتوى بأي شكل من الأشكال، أو بأي وسيلة من الوسائل التصويرية، أو الإلكترونية، أو الميكانيكية، أو غيرها مما يستحدث مستقبلاً إلا بإذن من الناشر.

مواد إثرائية وداعمة على "منصة عين الإثرائية"



ien.edu.sa

أعضاءنا المعلمين والمعلمات، والطلاب والطالبات، وأولياء الأمور، وكل مهتم بالتربية والتعليم؛  
يسعدنا تواصلكم؛ لتطوير الكتاب المدرسي، ومقترحاتكم محل اهتمامنا.



fb.ien.edu.sa



بِسْمِ اللّٰهِ الرَّحْمٰنِ الرَّحِیْمِ









رؤية  
VISION  
2030  
المملكة العربية السعودية  
KINGDOM OF SAUDI ARABIA

## ركائز القوة



قوة استثمارية  
رائدة



محور ربط  
القارات الثلاث



العمق الإسلامي والعربي  
بلادنا قبلة المسلمين

## محاور الرؤية



وطن طموح  
حكومته فاعلة  
مواطنه مسؤول



اقتصاد مزدهر  
فرصه مثمرة  
تنافسيته جاذبة  
استثماره فاعل  
موقعه مُستغل



مجتمع حيوي  
قيمه راسخة  
بيئته عامرة  
بنيانه متين



لَا إِلَهَ إِلَّا اللَّهُ مُحَمَّدٌ عَبْدُهُ وَرَسُولُهُ



صاحب السمو الملكي  
الأمير محمد بن سلمان بن عبدالعزيز آل سعود  
ولي العهد، رئيس مجلس الوزراء



خادم الحرمين الشريفين  
الملك سلمان بن عبدالعزيز آل سعود  
ملك المملكة العربية السعودية





# هذا الكتاب

تقوم الدراسات الاجتماعية على التخصصات المتعددة، فيُدرس فيها التاريخ لإثراء ذاكرتنا وتعزيزها، والجغرافيا لفهم العمليات التي تؤثر في عالمنا، والاقتصاد والحكومة لمعرفة كيفية إدارة الدولة واتخاذ القرارات فيها، وعلم الاجتماع والتربية المدنية لتعزيز ثقافة المواطن المسؤول وتحقيق المصلحة العامة.

وترمي الدراسات الاجتماعية إلى شرح الأحداث التاريخية والثقافية والاقتصادية وتفسيرها ومعرفة تأثير الماضي في الحاضر وفي بناء المستقبل، وإيجاد شعور عميق يربط المواطنين بوطنهم.

كما ترمي إلى تعزيز الشخصية الوطنية وبناء الكفاءة المدنية المتمثلة في المعارف والمهارات، وتعلم القيم والمبادئ التي يقوم عليها وطننا، ومساعدة الطلبة على تطوير مهارات التفكير العليا؛ مثل: الفهم والتطبيق والتحليل والتقويم والإبداع، وتحديد أوجه التشابه والاختلاف، وإقامة روابط بين المفاهيم والأفكار والموارد ذات الصلة، وتعزيز الخبرات المناسبة، وفهم الروابط القائمة بين الأفكار والنظريات وتحليلها وتقويمها، وتنمية القدرات من أجل المشاركة في المجتمع بكفاءة وفاعلية.

## مفاتيح الكتاب

- أهداف الوحدة**  لتحديد ما يجب تعلمه من أجل توضيحه وتيسير تحقيقه
- محتويات الوحدة**  لتوضيح ما بداخلها من مكونات
- أسئلة استهلاكية تحفيزية**  لجذب انتباه الطلاب لموضوع الدرس
- مخطط توضيحي**  لتلخيص المعارف وتسهيلها
- أنشطة معرفية ومهارية**  لتطبيق ما جرى تعلمه
- للاطلاع**  للتوسع في المعارف وتعميق الفهم
- صور ورسومات وخرائط داعمة**  لزيادة الإيضاح وتوسيع دائرة فهم المعارف
- تقويم الوحدة**  لقياس مدى استيعاب ما جرى تعلمه في دروس الوحدة
- الدرس الرقمي**  للوصول إلى الدرس والمزيد من المعارف رقمياً

## وحدات الكتاب

يتكون هذا الكتاب من ثمان وحدات، هي:

- الخلفاء الراشدون
- التاريخ الإسلامي
- الأمن الوطني
- جغرافية وطني المملكة العربية السعودية
- مؤسسات الدولة
- الخرائط والسكان
- الموارد الاقتصادية
- الأنشطة الاقتصادية

ويقوم الكتاب على مجموعة من الغايات التربوية: للمحافظة على قيم الإسلام والمجتمع السعودي، والاستفادة من معطيات الثقافات الأخرى ومنجزاتها، فيصنع متعلماً يعتز بدينه ومليكه وثقافته، ويفخر بانتمائه لوطنه، وينافس الآخرين في مجالات التفوق والتميز.





# الفصل الدراسي الثاني





# محتويات

## الفصل الدراسي الثاني

### الوحدة الرابعة: جغرافية وطني المملكة العربية السعودية ..... ٦٤

- ٦٦ ..... الدرس الحادي عشر: الموقع والحدود
- ٦٩ ..... الدرس الثاني عشر: مظاهر السطح
- ٧٥ ..... الدرس الثالث عشر: المناطق الرملية
- ٧٨ ..... الدرس الرابع عشر: الأودية
- ٨٢ ..... الدرس الخامس عشر: المناطق الساحلية والجُزر
- ٨٥ ..... الدرس السادس عشر: المناطق الإدارية
- ٩٩ ..... تقويم الوحدة الرابعة

### الوحدة الخامسة: مؤسّسات الدولة ..... ١٠٤

- ١٠٦ ..... الدرس السابع عشر: مفهوم مؤسّسات الدولة
- ١٠٩ ..... الدرس الثامن عشر: الخدّمات الحكومية
- ١١٢ ..... الدرس التاسع عشر: الحماية الاجتماعية والصحية
- ١١٥ ..... تقويم الوحدة الخامسة






# الوحدة الرابعة

## جغرافية وطني المملكة العربية السعودية



- ◆ الدرس الحادي عشر: الموقع والحدود
- ◆ الدرس الثاني عشر: مظاهر السطح
- ◆ الدرس الثالث عشر: المناطق الرملية
- ◆ الدرس الرابع عشر: الأودية
- ◆ الدرس الخامس عشر: المناطق الساحلية والجُزُر
- ◆ الدرس السادس عشر: المناطق الإدارية






## سوف أتعلم في هذه الوحدة

◆ موقع وطني وحدوده.

◆ الأشكال الطبيعية لأرض وطني.

◆ مناطق وطني ومحافظاتها.







لموقع المملكة العربية السعودية أهمية كبرى تميزها عن غيرها من دول العالم، فأين تقع المملكة العربية السعودية؟ وما أهمية موقعها؟



تقع المملكة العربية السعودية في الجنوب الغربي لقارة آسيا، وتشغل أكثر من ثلثي مساحة شبه الجزيرة العربية التي تربط بين ثلاث قارات، هي: آسيا وأوروبا وإفريقيا.



ما أهمية موقع وطني المملكة العربية السعودية؟

- ◆ يحوي الموقع قبلة المسلمين.
- ◆ يربط الموقع بين قارات متعددة.
- ◆ يتوسط الموقع دول العالم.





ينظر الطلبة إلى الخريطة الآتية، ويجيبون عن الأسئلة:



- أ- المقدسات الإسلامية في وطني هي: .....، و .....
- ب- يطل وطني على مسطحين مائيين مهمين، هما: .....، و .....
- ج- تحيط بوطني حدود مشتركة مع دول عربية شقيقة، هي: .....
- .....

تقدر مساحة وطني المملكة العربية السعودية بنحو مليوني كم<sup>٢</sup> (٢,٠٠٠,٠٠٠ كم<sup>٢</sup>) وتمثل هذه المساحة ٧٠% من مساحة شبه الجزيرة العربية

يحدّ وطني المملكة العربية السعودية:

- أ- من الشمال ← الكويت، والعراق، والمملكة الأردنية.  
ب- من الشرق ← الإمارات العربية المتحدة، ومملكة البحرين، ودولة قطر، والخليج العربي.  
ج- من الجنوب ← سلطنة عمان، والجمهورية اليمنية.  
د- من الغرب ← البحر الأحمر.



٢

نشاط



ينظر الطلبة إلى الخريطة، ويحدّدون مواقع الأماكن الآتية بالرجوع إلى مصادر التعلم:

- أ- خليج العقبة ب- جُزُر فرسان ج- الخفّجي د- موقع مشروع نيوم





تتنوع مظاهر السطح في المملكة العربية السعودية وتضفي شكلاً طبيعياً متنوعاً، فما أهم الجبال؟ وما سماتها؟ وما أهم الحرات والهضاب؟



## الجبال:

هي المناطق الشديدة الارتفاع ذات القمم العالية، وتضفي السلاسل الجبلية شكلاً طبيعياً رائعاً داخل وطني المملكة العربية السعودية، ومن أبرز تلك الجبال:

### ١ جبال الحجاز

سلسلة جبال موازية للبحر الأحمر، وهي أكثر الجبال امتداداً وارتفاعاً في شبه الجزيرة العربية، إذ يراوح عرضها بين ٤٠ و ١٤٠ كم، وسميت بهذا الاسم؛ لأنها تحجز بين هضبة نجد وسهول تهامة.



### للاطلاع

تتكون سلسلة جبال الحجاز من الجبال الآتية:

- ◆ جبال مَدِين: في الجهة الشمالية بمحاذاة العقبة والبحر الأحمر.
- ◆ جبال الحجاز الوسطى: تبدأ من النهاية الجنوبية لجبال مَدِين بمحاذاة سهول تهامة.
- ◆ جبال السُرّوات: تبدأ من جنوب مكة حتى باب المُنْدَب جنوب غربي اليمن.



### ارتفاعات بعض الجبال في وطني:

ارتفاع القمم الجبلية فيه يصل إلى نحو ٣٠١٥ م عن مستوى سطح البحر

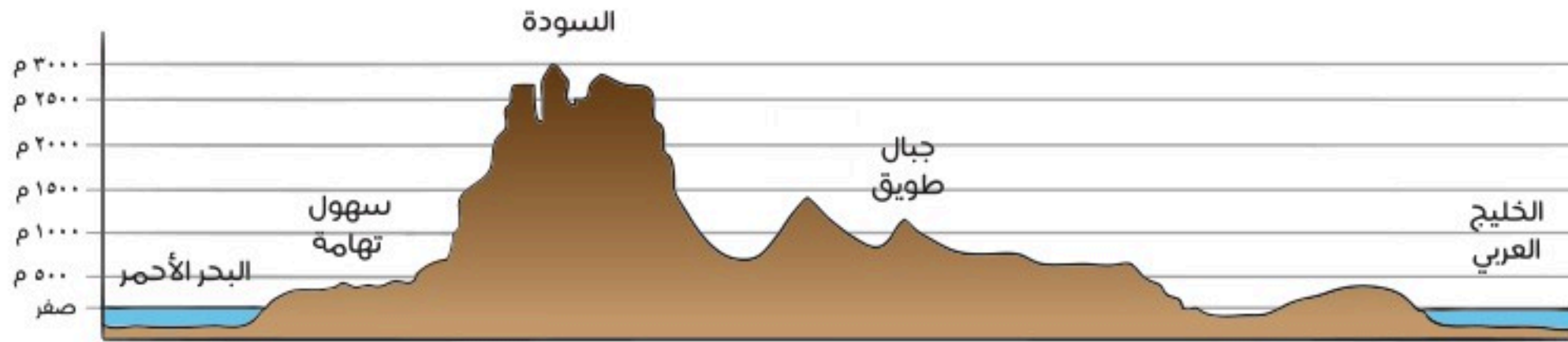
جبل السُّودَة قرب أبها

ارتفاع القمم الجبلية فيها يصل إلى نحو ٢٥٠٠ م عن مستوى سطح البحر

الجبال القريبة من مكة المكرمة

ارتفاع القمم الجبلية فيها يصل إلى نحو ٢٠٠٠ م عن مستوى سطح البحر

الجبال القريبة من المدينة المنورة




رسم توضيحي يبين ارتفاعات الجبال

## ٢ جبال طُويُق

تقع جبال طويق في منطقة نَجْد، وتُسمَّى أيضاً جبال العارض أو اليمامة.

### للاطلاع

تمتد جبال طويق ٨٠٠ كم تقريباً من جنوبي القصيم إلى مشارف وادي الدواسر ومنطقة الربع الخالي جنوباً على شكل طُوق أو قوس يتجه طرفاه إلى الغرب، ويُراوح عرضه في الوسط بين ١٠ كم و٢٠ كم عند الأطراف الشمالية والجنوبية.



جبال طويق



### ٣ الجبال المنفردة



جبل أحد

مثل: جبلي **أَجَأَ وَسَلَّمِي** في حائل، وجبل **أُحُد** في المدينة المنورة الذي يبلغ طوله من الشرق إلى الغرب نحو سبعة كيلومترات.

ولهذا الجبل مكانته التاريخية في سيرة نبينا محمد ﷺ حيث دارت عنده أحداث معركة أحد، وقال فيه النبي ﷺ: **«إِنَّ أُحُدًا جَبَلٌ يَجْبُنَا وَنَجِبُهُ»** رواه مسلم.

### ◀ الحَرَّات:

تنتشر في **غرب المملكة العربية السعودية**، ومن أشهرها: **حَرَّةُ البَرِّك**، و**حرة الرِّحَا**، و**حرة خَيْبَر**، و**حرة كُشْب**، و**حرة رُهَاط**، و**حرة واقِم**.

### ؟ ما الحَرَّات؟

الحَرَّات هي **سطوح لابيئة سوداء** نتجت عن **تدفقات بركانية** قديمة. واللابة هي كتل سائلة منصهرة تحولت إلى حجارة سوداء على سطح الأرض.

### للاطلاع

الحررات في وطني مواقع طبيعية رائعة، وتعد من الثروات الطبيعية التي تجب المحافظة عليها.



فوهة الجبل الأبيض البركاني في خيبر





١

نشاط

قال الشاعر عَمْرُو بن كَلْثُوم:

فَأَعْرَضَتِ الْيَمَامَةُ وَأَشْمَخَرَّتْ كَأَسْيَافِ بَأْيَدِي مُصَلِّتِينَا

يتحدث هذا الشاعر عن جبال مهمة في وطني، فما هي (بالاستعانة بالصورة أسفل الصفحة)؟



◀ الهضاب:

هي الأرض المرتفعة والمسطحة.

تعدّ الهضاب من أكثر التضاريس اتساعاً في المملكة العربية السعودية:



## ومن أبرز الهضاب:

### ١ هَضْبَةُ عَسِيرٍ وَنَجْرَانَ:

تقع جنوب المملكة العربية السعودية، ويبلغ ارتفاعها بين ٩٠٠ و ١٧٠٠ متر.

### ٢ هَضْبَةُ حِسْمَى:

تقع شمال غربي المملكة العربية السعودية، وهي متوسطة الارتفاع.

### ٣ هَضْبَةُ نَجْد:

تمتد وسط شبه الجزيرة العربية، وهي أكبر الهضاب فيها، وتقع فيها مدينة الرياض عاصمة وطني.

### ٤ هَضْبَةُ الصُّمَّان:

وهي هضبة صخرية شرق المملكة العربية السعودية.



هضبة نجران



هضبة نجد





٢

نشاط



حرة رهاط

حرة رهاط تقع على بعد ١٩ كم جنوب شرقي المدينة المنورة وتمتد إلى مكة المكرمة.

يصف الطلبة المعالم التضاريسية لهذا المكان.

١- .....

٢- .....

٣- .....





يتميز وطني المملكة العربية السعودية بأن فيه مناطق رملية واسعة، فما أبرز تلك المناطق الرملية؟



### للاطلاع

- أسباب التصحر المناخية:
- ◆ تغير المناخ، مثل قلة الأمطار.
  - ◆ ارتفاع درجة الحرارة.
  - ◆ ارتفاع المياه الجوفية المالحة.
  - ◆ انجراف التربة.
- أسباب التصحر البشرية:
- ◆ قطع الأشجار والنباتات.
  - ◆ الرعي الجائر للإبل والأغنام.
  - ◆ إتلاف التربة الطبيعية بالسيارات وغيرها.

في وطني المملكة العربية السعودية مناطق رملية واسعة تغطي نحو **ثلث مساحته**.

من أبرز هذه المناطق الرملية:

- ◆ النفود الكبير.
- ◆ الدهناء.
- ◆ الربع الخالي.

### كيف تكونت هذه الرمال العظيمة؟

نشأت هذه الرمال منذ أكثر من ١٧ ألف سنة، وساعدت **الرياح** على تجمعها.

### ١ رمال الربع الخالي:



الربع الخالي

◆ تقع جنوب المملكة العربية السعودية، وتعد من **أكبر الصحاري الرملية** في العالم، ويقع الجزء الأعظم منها داخل الأراضي السعودية. وجزء من الربع الخالي يتبع المنطقة الشرقية، والجزء الآخر يتبع منطقة نجران.

◆ يمثل الربع الخالي **موطناً للحضارات القديمة** التي اندثر أغلبها وغمرتها الرمال، ولم تتوان الحكومة السعودية في البحث والتنقيب فيها، وإجراء دراسات لاكتشاف أسرارها.





حقل الشيبة

❖ في هذه الرمال كثير من المعادن النفيسة، والآثار القديمة المطمورة، إضافة إلى بعض الواحات والأشكال الجاذبة للسياحة.

❖ من إنجازات وطني اليوم استخراج النفط في الربع الخالي من موقع حقل الشَّيْبَة الذي بدأت فيه شركة أرامكو السعودية في عام ١٤١٩هـ.



النفود الكبير

## ٢ النفود الكبير:

منطقة رملية على شكل مثلث وتغطي أجزاء كبيرة من نجد، وتمتد شمالاً.



١

نشاط



بالرجوع إلى مصادر التعلم يحدد الطلبة موقع الربع الخالي، وموقع النفود الكبير على الخريطة.





استخراج عظام الكتف والعضد لأحد الفيلة المنقرضة في رواسب البحيرات القديمة في صحراء النفود

### للاطلاع

وُجد في صحراء النفود الأحافير، وهي بقايا المخلوقات الحيوانية والنباتية التي حُفظت داخل الطبقات الرسوبية عبر الأزمنة الجيولوجية القديمة لوطني.



الدهناء

### ٣ رمال الدهناء:

تمتد على شكل قوسٍ تصل بين النفود الكبير في الشمال، والربع الخالي، وهي تمثل الجزء الأوسط من المناطق الرملية في المملكة العربية السعودية.



٢

### نشاط

يذكر الطلبة أسماء الصحاري الرملية وفقاً للوصف الآتي:

- أ- أكبر صحراء رملية في المملكة العربية السعودية: .....
- ب- منطقة رملية كبيرة على شكل قوس: .....
- ج- منطقة رملية على شكل مثلث في نجد: .....





ليس في المملكة العربية السعودية أنهار، ولكن فيها عدد كبير من الأودية التي تجري فيها المياه وقت تساقط الأمطار، فما أشهر الأودية في المملكة العربية السعودية؟ وما سماتها؟ وما أبرز السدود التي أنشأتها الحكومة السعودية؟



في وطني المملكة العربية السعودية عدد كبير من الأودية، ومن أشهرها:

### ١ وادي الرُّمَّة:



وادي الرمة

وادي الرُّمَّة: من أهم الظواهر الطبيعية، فهو أطول وادٍ في وطني، يصل طوله إلى نحو ١٠٠٠ كم، ويَعْبُرُ المملكة من الغرب إلى الشرق، ويبتدئ من جبال المدينة المنورة، مخترقاً منطقة القصيم.

### ٢ وادي حَنيفة:



وادي حنيفة

يقع وادي حنيفة وسط مدينة الرياض، وينحدر من الشمال إلى الجنوب. سُمي وادي حنيفة نسبةً إلى القبيلة التي سكنته وهي (بنو حنيفة)، وعلى ضفافه تقع الدَّرْعِيَّة عاصمة الدولة السعودية الأولى.



ناقش سبب تفضيل السكان العيش في المناطق التي تتوفر فيها المياه ؟





وادي الدواسر

### ٣ وادي الدَّوَّاسِر:

يقع في جنوب نجد، وينتهي عند أول الربع الخالي.



وادي تثليث

### ٤ وادي تَثْلِيث:

يبدأ من جبال عَسِير الجنوبية في سَرَاة قَحْطَان، ويتجه نحو الشمال باتجاه وادي الدَّوَّاسِر.



وادي العقيق

### ٥ وادي العَقِيق:

يبدأ من منطقة العقيق جنوب المدينة المنورة، ويمتد شمالاً حتى ينتهي في وادي قناة، وهو من أشهر أودية المدينة المنورة.



وادي السرحان

### ٦ وادي السَّرْحَان:

يمتد من جنوب غربي الجوف إلى الأردن.





وادي بيشة

## ٧ وادي بيشة:

وادي ضخم يقع جنوب غربي المملكة العربية السعودية، ويمتد من جبال الحجاز إلى وادي الدواسر.

## للاطلاع



وادي حلي

## أودية البحر الأحمر:

تبدأ من السفوح الغربية، وتتجه نحو البحر الأحمر وتهامة غرباً، ومنها: وادي جازان، ووادي بيش، ووادي حلي، ووادي عتود، ووادي رابغ، ووادي الصفراء بالقرب من المدينة المنورة.



## ٢ نشاط

يتصرف بعض المواطنين تصرفاً غير سليم عند جريان الأودية.  
ما التصرفات السليمة وغير السليمة؟

التصرف غير السليم	التصرف السليم
١- .....	١- .....
٢- .....	٢- .....
٣- .....	٣- .....





سد الملك فهد بن عبدالعزيز في بيشة

### ومن أبرز السدود في وطني:

- ١- سد الملك فهد بن عبدالعزيز في وادي بيشة.
- ٢- سد وادي نجران.
- ٣- سد وادي جازان.



٣

نشاط

بالرجوع إلى مصادر التعلم يكتب الطلبة عن السبب في إقامة السدود على الأودية.

.....

• .....





## المناطق الساحلية والجزر

في الخليج العربي والبحر الأحمر عدد من الجزر السعودية الجميلة؛ لذلك قررت حكومة وطني ضمن رؤية ٢٠٣٠ إنشاء مشروع كبير لاستثمار هذه الجزر والاستفادة منها، فما أشهر تلك الجزر؟ وما أهم سماتها؟



### أهم الجزر السعودية:

#### ١- جزر فرسان:

تقع في جنوب شرقي الجزء الجنوبي من البحر الأحمر، وتبعد عن سواحل جازان نحو ٤٠ كم. ومن أهم هذه الجزر: فرسان الكبرى، والسقيد، وقمّاح، وفيها سكان مقيمون. جزيرة فرسان الكبرى يبلغ طولها نحو ٦٦ كم، وعرضها بين ٥ و ٨ كم.

#### ٢- جزيرة أم القماري:

تقع في البحر الأحمر جنوب مدينة القنفة، وتبعد عنها نحو ١٩ كم.

#### ٣- جزيرة جنا:

تقع في الخليج العربي شرق المملكة العربية السعودية.

### للاطلاع

أكثر من ١٣٤٠ جزيرة سعودية في البحر الأحمر والخليج العربي.

أكثر من ١٢٠٠ نوع من الأسماك في البحر الأحمر والخليج العربي.

يكثر عدد العاملين بمهنة صيد الأسماك في الجزر المأهولة بالسكان؛ لتوفر الأسماك بشكل كبير، وتجذب هذه الجزر عدداً أكبر من السياح لزيارتها.





جزيرتا تيران وصنافر

#### ٤- جزيرتا تيران وصنافر:

تقعان شمال البحر الأحمر عند مدخل خليج العقبة.

#### ٥- جزيرة كُران:

تقع في الخليج العربي شرق المملكة العربية السعودية.

#### للاطلاع



مهرجان الحريد السياحي في جزر فرسان

#### مهرجان الحريد السياحي في جزر فرسان:

من المهرجانات المحلية، وهو تقليد قديم يكون في نهاية شهر مارس ومطلع شهر أبريل سنوياً، عندما تتجمع أسماك الحريد بأعداد كبيرة على سواحل الجزر، يصيد الصيادون والأهالي كثيراً منها بسهولة.



الشعب المرجانية

في وطني المملكة العربية السعودية كنوز طبيعية بحرية عديدة، منها الشعب المرجانية.

#### ؟ فما الشعب المرجانية؟

الشعب المرجانية هي كائنات حية تتكون في المياه الضحلة، وتحقق التوازن البيئي البحري.





١

نشاط

بالرجوع إلى مصادر التعلم يذكر الطلبة بعضاً من فوائد الجُزُر في المملكة العربية السعودية التي اعتنت بها رؤية وطني ٢٠٣٠:

١- الاستثمار الاقتصادي.

٢- .....

٣- .....



٢

نشاط

جزيرة سعودية يسكن فيها نحو ٢٣ ألف مواطن، وتبعد عن جازان نحو ٤٠ كم، فما هي؟

.....







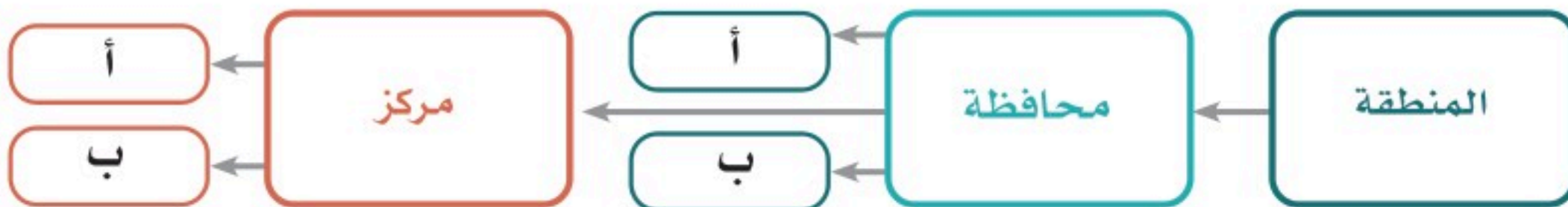
## المناطق الإدارية

يعد وطني المملكة العربية السعودية أكبر دول الخليج العربي مساحة؛ حيث تغطي مساحته ثلثي شبه الجزيرة العربية، ويعد ثاني أكبر الدول العربية مساحة، وبسبب ذلك يتكون وطني من مناطق إدارية، فكم عددها؟ وما نظام المناطق الإدارية؟ وبماذا تختص كل منطقة؟



يتكون وطني المملكة العربية السعودية من **ثلاث عشرة** منطقة إدارية.

يرأس كل منطقة إدارية **أمير** المنطقة، وتتكون من **محافظات** من فئتي (أ) و(ب)، وكل محافظة يتبعها **مراكز** من فئتي (أ) و (ب).





## منطقة الرياض مقر الإمارة: مدينة الرياض



مدينة الرياض



### للاطلاع

من أكبر محافظات منطقة الرياض:  
الدَّرْعِيَّة، الخَرْج، الدوادمي، المَجْمَعَة،  
القُوَيْعِيَّة، الأفلاج، وادي الدواسر،  
الزُّلْفِي، شَقْرَاء، حوطة بني تميم،  
عَفِيف، الغاط.

### الموقع:

تقع في وسط المملكة العربية السعودية.

### الخصائص:

- فيها العاصمة مدينة الرياض.
- فيها مقر الدولة والأجهزة الحكومية.
- هي منطلق توحيد المملكة العربية السعودية.



١

نشاط

ما المدينة التاريخية في منطقة الرياض التي كانت عاصمة الدولة السعودية الأولى؟



## منطقة مكة المكرمة

مقر الإمارة: مدينة مكة المكرمة

٢



المسجد الحرام بمكة المكرمة



### الموقع:

تقع منطقة مكة المكرمة في غرب المملكة العربية السعودية.

### الخصائص:

- هي مهبط الوحي.
- تضم المقدسات الإسلامية، منها: المسجد الحرام، والكعبة المشرفة، ومشاعر الحج، مثل: (عَرَفَات ومُزْدَلِفَة ومِنَى).
- وقوعها على ساحل البحر الأحمر.

### للاطلاع

من أكبر محافظات منطقة مكة المكرمة:  
جُدَّة، الطائف، القنْفُذَة، اللَّيْث،  
رابع، خَلِيس، الحُرْمَة، رَنِيَّة،  
تُرَيَّة.

٢

نشاط

ما الميناء الرئيس في منطقة مكة المكرمة؟



## منطقة المدينة المنورة

مقر الإمارة: مدينة المدينة المنورة

٣



المسجد النبوي بالمدينة المنورة



### الموقع:

تقع في غرب المملكة العربية السعودية.

### الخصائص:

- فيها المسجد النبوي.
- تطل بعض مدنها على ساحل البحر الأحمر.
- فيها المعالم والآثار الإسلامية، مثل: مسجد قُبَاء، وجبل أُحُد، وموقع بدر.

### للاطلاع

من أكبر محافظات منطقة  
المدينة المنورة:  
يَبُوع، العُلا، مَهْد الذَّهَب،  
الحناكية.

٣

نشاط

ما المدينة التاريخية السياحية التي فيها آثار الحِجْر في منطقة المدينة المنورة؟



## منطقة القصيم مقر الإمارة: مدينة بريدة

٤



مدينة بريدة



### الموقع:

تقع في وسط المملكة العربية السعودية تقريباً.

### الخصائص:

- تمتاز بثرواتها الزراعية، ومن أشهر محاصيلها الزراعية: التمور.
- فيها وادي الرّمة وروافده.
- فيها مواقع أثرية موهلة في القَدَم.

### للاطلاع

من أكبر محافظات منطقة  
القصيم:  
عُنَيْزَة، الرّس، المَدَنب، البُكَيْرِيَّة،  
البَدَائِع.

٤

نشاط

ما أبرز منتجات منطقة القصيم الزراعية؟



## المنطقة الشرقية مقر الإمارة: مدينة الدمام

٥



المتنزه البحري بمدينة الدمام



### الموقع:

تقع في الجزء الشرقي من المملكة العربية السعودية.

### الخصائص:

- تُعدّ من أغنى مناطق المملكة العربية السعودية بالنفط، وفيها أكبر حقول النفط في العالم، وتحتوي مزارع نخيل كثيرة.
- فيها مواقع تاريخية لحضارات قديمة.
- تطل على ساحل الخليج العربي.

### للاطلاع

من أكبر محافظات المنطقة الشرقية:  
الأحساء، حَفْر الباطن، الجُبَيْل،  
القَطيف، الخُبْر، العَدَيّد، الخَفْجِي.


### نشاط ٥

أين يقع أول مسجد أقيمت فيه صلاة الجمعة بعد المسجد النبوي في عهد النبي ﷺ؟



## منطقة عسير مقر الإمارة: مدينة أبها

٦



### الموقع:

تقع في جنوب غربي المملكة العربية السعودية.

### الخصائص:

- تتمتع بموقع جغرافي فريد بتضاريسه المتنوعة.
- تُعدُّ من المناطق السياحية المتميزة؛ لِمَا تتمتع به من مناخ معتدل وجمالٍ طبيعة.
- تتميّز بتراثها الاجتماعي العريق.

### للاطلاع

من أكبر محافظات منطقة عسير:  
خَميس مَشَيْط، بِيَشَة، النَّمَّاص،  
مَحَايِل، ظَهْران الجَنُوب، تَثْلِيث.

٦

نشاط

لماذا يرتاد السائحون من الداخل والخارج منطقة عسير؟



## منطقة تبوك مقر الإمارة: مدينة تبوك



مدينة تبوك



### الموقع:

تقع في الجهة الشمالية الغربية من المملكة العربية السعودية.

### الخصائص:

- تمتاز بالآثار التاريخية الإسلامية والقديمة.
- تتمتع بنهضة زراعية كبيرة.
- تطل بعض مدنها على البحر الأحمر.

### للاطلاع

من أكبر محافظات منطقة  
تبوك:  
الوَجْه، ضِبَاء، تَيْمَاء، أُمْلُج.

٧

نشاط

ما المدينة التي فيها بئر هَدَاج في منطقة تبوك؟



## منطقة حائل

مقر الإمارة: مدينة حائل



مدينة حائل



### الموقع:

تقع في شمال المملكة العربية السعودية.

### الخصائص:

- تمتاز بتنوع تضاريسها بين سهول، وجبال، وتكوينات رملية.
- منطقة زراعية ورعوية؛ لوفرة مصادر المياه فيها.
- تشتهر بجبلي أجاً وسلّمي.

### تلاطلاع

من أكبر محافظات منطقة حائل: بَقعاء.



### نشاط

ما أشهر جبال منطقة حائل؟



## منطقة الحدود الشمالية

مقر الإمارة: مدينة عرعر

٩



مدينة عرعر



### الموقع:

تقع في أقصى الشمال من المملكة العربية السعودية.

### الخصائص:

- تعد من أكبر المناطق في مجال الثروة الحيوانية في وطني.
- منطقة غنية بالمعادن، مثل: الفوسفات.
- فيها مناطق أثرية وتاريخية.

### تلاطلاع

من أكبر محافظات منطقة الحدود الشمالية: رَفْحَاء، طُرَيْف.

### نشاط ٩

اشتهرت منطقة الحدود الشمالية بمشروع نفطي كبير كان يربط بين شرق المملكة والبحر المتوسط، فما هو؟



## منطقة جازان مقر الإمارة: مدينة جازان



مدينة جازان



### الموقع:

تقع في أقصى الجنوب الغربي من المملكة العربية السعودية.

### الخصائص:

- تمتاز بخصوبة التربة، وكثرة الأودية.
- تشتهر بالزراعة، واستزراع الروبيان والأسماك وصيدها.
- تشتهر بالجزر البحرية الجميلة.

### للاطلاع

من أكبر محافظات منطقة جازان:  
صَبِيَاء، أبو عَرِيش، صامطة،  
الدَّرَب، بَيْش.

### للاطلاع

تعد منطقة جازان من أكبر المناطق الإدارية من حيث الكثافة السكانية نسبة إلى مساحتها.


### نشاط ١٠

ما أشهر جزيرة تابعة لمنطقة جازان؟



## منطقة نجران

مقر الإمارة: مدينة نجران



مدينة نجران



### الموقع:

تقع في جنوب المملكة العربية السعودية.

### الخصائص:

- تمتاز بكثير من الآثار التاريخية القديمة.
- تشتهر بمنتجاتها الزراعية.
- تشتهر بتضاريسها المتنوعة.

### تلاطلاع

من أكبر محافظات منطقة نجران:  
شُوررة.

### نشاط ١١

وقعت في منطقة نجران قصة أصحاب الأخدود، ما الآية القرآنية التي ذكّرتُها؟



## منطقة الباحة

مقر الإمارة: مدينة الباحة

١٢



مدينة الباحة



### الموقع:

تقع في الجنوب الغربي من المملكة العربية السعودية.

### الخصائص:

- جمال الطبيعة، واعتدال المناخ.
- منطقة جذب للسياح.
- بها غابات طبيعية.

### للاطلاع

من أكبر محافظات منطقة الباحة:  
بَلْجَرَشِي، المَنْدَق، المَخَوَاة، قِلْوَة.

### نشاط ١٢


من الصحابي المشهور في رواية الحديث النبوي الذي قَدِمَ من منطقة الباحة؟



## منطقة الجوف

مقر الإمارة: مدينة سكاكا

١٣



مدينة سكاكا



### الموقع:

تقع في الجزء الشمالي من المملكة العربية السعودية.

### الخصائص:

- تمتاز بوفرة مياهها وعذوبتها.
- تعدّ أرضها من أخصب الأراضي الزراعية.
- فيها مواقع تاريخية عريقة.

### للاطلاع

من أهم محافظات منطقة الجوف: القرّيات، دُوْمَة الجَنْدَل.

### نشاط ١٣

مدينة في منطقة الجوف كانت تعرف قديماً باسم (أدوماتو)، فما هي؟

### للاطلاع

تتميز بعض المدن بمساحتها الكبيرة، وزيادة عدد سكانها وتوفر الفرص الوظيفية المتنوعة بها؛ مما أدى إلى انتقال عدد من السكان للعيش بها، مثل الرياض وجدة والدمام.

### نشاط ١٤

فسر انتقال السكان للعيش في المدن الكبيرة؟





# تقويم الوحدة الرابعة





١ يختار الطلبة الخيار الصحيح فيما يأتي:

أ- يجري وادي الرُّمَّة في منطقة:

○ جازان      ○ الحدود الشمالية      ○ القصيم

ب- تقع جُزُرُ فَرَسَان في:

○ الخليج العربي      ○ البحر المتوسط      ○ البحر الأحمر

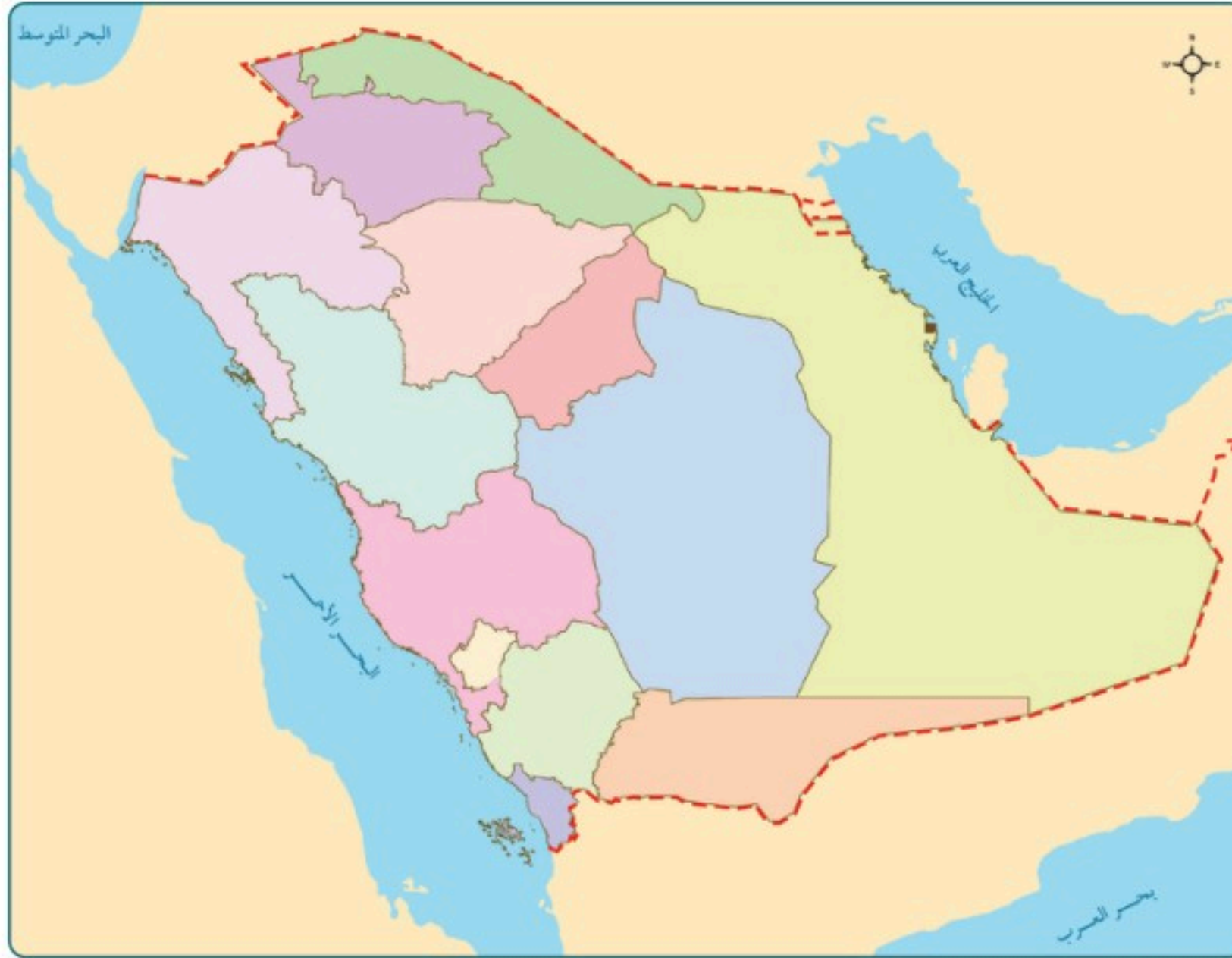
ج- يقع جبل أُحُد في:

○ مكة المكرمة      ○ المدينة المنورة      ○ الرياض

د- يقع وادي حنيفة في:

○ القصيم      ○ تبوك      ○ الرياض

٢ يحدّد الطلبة على الخريطة المنطقة الإدارية التي فيها مدرستهم:





٣ يضع الطلبة المحافظات الآتية وفق مناطقها الإدارية في الجدول:

الخرج - ينبع - جدة - الطائف - ضياء - دُومَة الجَنَدَل - مهد الذهب - الدرعية - القُرَيَّات - بلَجُرَشِي - الجبيل - المَحْوَاة - صَبِيَاء - أبو عَرِيش - الأحساء - بِيَشَّة - خميس مشيط - تَيِّمَاء

منطقة الرياض	منطقة مكة المكرمة	منطقة المدينة المنورة
.....	.....	.....
.....	.....	.....

المنطقة الشرقية	منطقة عسير	منطقة تبوك
.....	.....	.....
.....	.....	.....

منطقة الجوف	منطقة جازان	منطقة الباحة
.....	.....	.....
.....	.....	.....



## تقويم الوحدة الرابعة

٤ يضع الطلبة علامة (✓) أمام العبارة الصحيحة، وعلامة (x) أمام العبارة غير الصحيحة:

- أ- جَبَلًا أَجَا وَسَلَّمَى من الجبال المنفردة.
- ب- جبال الحِجَاز هي أقل الجبال امتداداً وارتفاعاً.
- ج- الحَرَّات هي سطوح لابيَّة سوداء.
- د- هَضْبَة عَسِير وَنَجْرَان هي أكبر الهضاب في وطني.
- هـ- رِمَال الرُّبْع الخالي هي أكبر صحراء رملية في وطني.
- و- رِمَال النُّفُود الكبير تمتد على شكل قوس.
- ز- يُسْتَخْرَج النفط في الرُّبْع الخالي.
- ح- لا يُعَدُّ الربع الخالي موطناً للحضارات القديمة.

٥ يكمل الطلبة الفراغات الآتية بالكلمات الصحيحة:

(الخليج العربي - المرتفعات - المسجد النبوي - البحر الأحمر - المنخفضات - ثلثي - المسجد الحرام)

أ- تُعَدُّ الجبال والهضاب من .....

ب- تُعَدُّ الأودية من .....

ج- مكة المكرمة والمدينة المنورة فيهما .....

و .....

د- يطل وطني على مسطَّحَيْنِ مائيين هما: .....

و .....

هـ- تشغل مساحة المملكة العربية السعودية: ..... مساحة شبه الجزيرة العربية.



٦ يضع الطلبة الجزر الآتية وفق موقعها في الجدول:  
جزيرة كُرَّان - جزيرة أم القماري - جزيرة جَنَا - جزر فرَسَان

البحر الأحمر	الخليج العربي
.....	.....
.....	.....

٧ يذكر الطلبة أهمية موقع المملكة العربية السعودية.

.....

.....

.....

.....



# الوحدة الخامسة

## مؤسّسات الدولة



- ◆ الدرس السابع عشر: مفهوم مؤسّسات الدولة
- ◆ الدرس الثامن عشر: الخدّامات الحكومية
- ◆ الدرس التاسع عشر: الحماية الاجتماعية والصحية







## سوف أتعلم في هذه الوحدة

- ◆ أنواع المؤسسات الحكومية.
- ◆ وظائف المؤسسات الحكومية.
- ◆ الخدمات الحكومية.








## مفهوم مؤسّسات الدولة

تقوم الدولة على عدد من المؤسّسات التي تتوزع بينها المهام والمسؤوليات؛ لخدمة المواطنين والمقيمين، فما أبرز تلك المؤسّسات في المملكة العربية السعودية؟ وما وظائفها؟




هناك نوعان رئيسان للمؤسّسات، هما:

- ◆ مؤسّسات عامة: وهي المؤسّسات الحكومية (مؤسّسات الدولة).
  - ◆ مؤسّسات خاصة: وهي المؤسّسات التجارية.
- مؤسّسات الدولة هي الأجهزة الحكومية المكلفة بمهام لخدمة الوطن والمواطن.



وزارة الداخلية (مؤسسة عامة)



سوق تجاري (مؤسسة خاصة)





## من مؤسسات الدولة:

 <p>وزارة الثقافة Ministry of Culture</p>	 <p>وزارة الحج والعمرة MINISTRY OF HAJJ AND UMRAH</p>	 <p>رئاسة أمن الدولة</p>	 <p>وزارة الداخلية</p>
 <p>وزارة العدل</p>	 <p>وزارة الدفاع MINISTRY OF DEFENSE</p>	 <p>وزارة الصحة Ministry of Health</p>	 <p>وزارة التعليم Ministry of Education</p>
 <p>وزارة الشؤون البلدية والقروية والإسكان Ministry of Municipal Affairs &amp; Housing</p>	 <p>وزارة البيئة والمياه والزراعة Ministry of Environment Water &amp; Agriculture Kingdom of Saudi Arabia المملكة العربية السعودية</p>	 <p>وزارة الموارد البشرية والتنمية الاجتماعية</p>	 <p>وزارة الاقتصاد والتخطيط MINISTRY OF ECONOMY &amp; PLANNING</p>





١

نشاط

يحدّد الطلبة المؤسسات العامة والمؤسسات الخاصة في الجدول الآتي:  
(شركة سابك - وزارة الداخلية - الهيئة العامة للغذاء والدواء - شركة سيارات)

المؤسسات الخاصة	المؤسسات العامة
..... .....	..... .....

### وظائف مؤسسات الدولة

تقوم مؤسسات الدولة بوظائف متعددة لخدمة المواطنين والاقتصاد، والمجتمع عموماً،  
ومن أبرز تلك الوظائف:

- الحماية والأمن.
- تنظيم العمل.
- تشديد الطرق وصيانتها.
- تطوير الاقتصاد.
- توفير الخدمات العامة.
- توفير الإسكان.
- تنمية المجتمع.
- تنظيم أنشطة الترفيه والرياضة.



٢

نشاط

يستنتج الطلبة اسم المؤسسة الحكومية التي تؤدي المهام الآتية:

.....

افتتاح المدارس

.....

الحماية والأمن

.....

تجهيز الجيش

.....

علاج المرضى





تقدم الحكومة في المملكة العربية السعودية كثيراً من الخدمات للمواطنين والمقيمين، وذلك من خلال عدد من الأجهزة الحكومية، فما أبرز تلك الخدمات؟



مركز خدمات العملاء - وزارة الموارد البشرية والتنمية الاجتماعية

### الخدمات الحكومية

هي الأعمال التي تقوم بها الدولة من خلال مؤسساتها لمصلحة المجتمع وأفراد داخل الوطن. ومن مؤسسات الدولة: وزارة الشؤون البلدية والقروية، ووزارة النقل، ووزارة الداخلية، وإمارات المناطق.

في أنحاء وطني المملكة العربية السعودية يرأس كل إمارة منطقة أمير يستقبل المواطنين، ويسمع إلى طلباتهم واحتياجاتهم، ويتولى مسؤولية إدارة شؤون المنطقة.



### نشاط ١

أ- مَنْ هو أمير منطقتك؟

.....

ب- أين يقع مقر إمارة منطقتك؟

.....





تُنظَّم المدرسة للطلبة زيارةً لمجلس أمير المنطقة ويصفون ما يشاهدونه.

.....

.....

.....

.....

.....

### ◀ وزارة الداخلية

تقوم الوزارة بعددٍ من الأعمال **والمهام** ضمن مؤسَّسات الدولة، منها: تحقيق الأمن والاستقرار، وتأمين **سلامة حُجَّاج** بيت الله الحرام، وخدمة المواطنين، ومنع الجريمة، ومكافحة **المخدرات**، وتنفيذ العقوبات المقررة.



[www.moi.gov.sa](http://www.moi.gov.sa)





## ◀ بعض الأجهزة في وزارة الداخلية

- ◈ الشُّرْطَة: تتولى المحافظة على الأمن وتطبيق الأنظمة.
- ◈ القوات الخاصة لأمن الطرق: تتولى المحافظة على سلامة الناس في الطرق بين المناطق والمدن، ومساعدة المسافرين.
- ◈ الإدارة العامة للمرور: تتولى تنظيم السير وسلامة السائقين والرُّكَّاب داخل المدن.
- ◈ المديرية العامة لمكافحة المخدرات: تتولى حماية الوطن من ترويج السموم والمخدرات، وتوعية المواطنين بأخطارها على الصحة والوطن.
- ◈ المديرية العامة للدفاع المدني: تتولى تنفيذ إجراءات السلامة وإطفاء الحرائق وإنقاذ المواطنين والمقيمين.
- ◈ المديرية العامة لحرس الحدود: تتولى حماية حدود الوطن ومساعدة العابرين.
- ◈ المديرية العامة للجوازات: تتولى إصدار الجوازات للمواطنين ومتابعتها وشؤون المقيمين.
- ◈ المديرية العامة للسجون: تتولى الإشراف على السجون وملاحظتها.
- ◈ وكالة الوزارة للأحوال المدنية: تتولى إصدار بطاقة الهوية الوطنية وتسجيل المواليد وغير ذلك.







## الحماية الاجتماعية والصحية

تعد حماية المجتمع وصحة المواطنين والمقيمين من أولويات الحكومة في المملكة العربية السعودية، لذا يعمل عدد من الأجهزة الحكومية لتقديم الحماية الاجتماعية والصحية، فما أبرز تلك الجهود والأجهزة الحكومية التي تقوم بها؟



### ◀ وزارة الموارد البشرية والتنمية الاجتماعية

الموارد البشرية  
والتنمية الاجتماعية



تقدم الوزارة خدمات الحماية الاجتماعية من خلال عدد من الأعمال، منها:

- ◀ حماية النساء والأطفال الذين ينالهم العنف والإيذاء.
- ◀ توفير دور الملاحظة والرعاية لصغار السن الذين يصدر نحوهم عقوبات.
- ◀ متابعة أحوال المواطنين والمواطنات الذين يحتاجون إلى المساعدة، وإرشادهم.
- ◀ مكافحة التسول ونشر الوعي بمخاطره النفسية والاجتماعية والاقتصادية والأمنية.

وزارة الصحة

الحماية الصحية

وزارة الموارد البشرية  
والتنمية الاجتماعية

الحماية الاجتماعية

### للاطلاع

من أبرز أعمال وزارة الموارد البشرية والتنمية الاجتماعية في مجال الحماية الاجتماعية ما يأتي:

- ◀ إنشاء وحدات الحماية الاجتماعية ولجانها في المناطق، و١٧ دار ملاحظة اجتماعية ترعى النزلاء (من ١٢ إلى ١٨ سنة)، و٥ دور للتوجيه الاجتماعي للنزلاء (من ٧ إلى ١٨ سنة).
- ◀ إنشاء مركز لتلقي بلاغات العنف والإيذاء.
- ◀ إنشاء مؤسسة لرعاية الفتيات (أقل من ٣٠ سنة).
- ◀ إدارة مكافحة التسول.





تقدّم مؤسسات الدولة خدمات الحماية الاجتماعية؛ لحفظ حقوق أفراد المجتمع الذين تحدّث لهم المشكلات داخل الوطن، أو يكونون في أوضاع لا يستطيعون فيها حماية أنفسهم، فتقدّم لهم الحماية، أو الذين يخالفون النظام وهم صغار السنّ، فيتابعون ويلاحظون.



١

نشاط

ما العمل في حال التعرض لإيذاء جسدي أو تحرش؟

### ◀ وزارة الصحة



تقدّم الوزارة خدمات عديدة للمحافظة على صحة المواطنين والمقيمين، من خلال مراكز الرعاية الصحية الأولية، والمستشفيات، والبرامج الصحية لتوعية المواطنين.

❓ ما مراكز الرعاية الصحية الأولية؟

هي مراكز صحية تُنشأ في الأحياء؛ لتقديم الخدمات الصحية والوقائية في مستوى عام، ثم يُحال من يحتاج إلى رعاية متقدّمة إلى المستشفيات. في وطني (المملكة العربية السعودية) منشآت طبية كبيرة تُسمّى المدن الطبية، وهي مستشفيات كبيرة لعلاج المرضى.




## من أبرز المدن الطبية السعودية



مدينة الملك  
عبدالله الطبية  
بمكة المكرمة



مدينة الملك  
فهد الطبية  
بالرياض



مدينة الملك  
فيصل الطبية في  
عسير



مدينة الملك  
سعود الطبية  
بالرياض

### للاطلاع

لطلب الإسعاف  
اتصل بالرقم **٩٩٧**



### هيئة الهلال الأحمر السعودي

تقدّم الهيئة الخدمات الطبية الإسعافية الطارئة والعاجلة للمواطنين والمقيمين والزائرين، وخدمات نقل المرضى والمصابين في أنحاء وطني المملكة العربية السعودية.





# تقويم الوحدة الخامسة





١ ما اسم الهيئة التي تقدم لنا خدمات إسعافية؟

.....

٢ يحدّد الطلبة مهام وزارة الصحة في الخيارات الآتية:

- إنشاء المستشفيات.  إنشاء مراكز لإيواء الأيتام.
- إنشاء مراكز لرعاية المسنّين.  إنشاء المراكز الصحية.

٣ يحدّد الطلبة نوع المؤسسات الآتية:

أ- وزارة الداخلية:

- مؤسسة عامة.  مؤسسة خاصة.

ب- مستشفى الملك فيصل التخصّصي.

- مؤسسة عامة.  مؤسسة خاصة.

ج- شركة سيارات:

- مؤسسة عامة.  مؤسسة خاصة.

د- فندق:

- مؤسسة عامة.  مؤسسة خاصة.

٤ يذكر الطلبة ثلاث مؤسسات حكومية.

١- .....

٢- .....

٣- .....



٥ يضع الطلبة علامة (✓) أمام العبارة الصحيحة، وعلامة (x) أمام العبارة غير الصحيحة فيما يأتي:

أ- الحماية والأمن من وظائف مؤسَّسات الدولة.

ب- إيواء المسافرين من خِدْمات وزارة الموارد البشرية والتنمية الاجتماعية.

ج- تقوم وزارة الداخلية بمهام سلامة الحجاج.

د- تقدم الدولة الحماية الاجتماعية للمواطنين والمقيمين.

هـ- المدن الطبية هي مستشفيات صغيرة.

و- تقدم هيئة الهلال الأحمر السعودي خِدْمات الإسعاف.

٦ يكتب الطلبة أسباب تقديم الدولة خِدْمات الحماية الاجتماعية.

.....

.....

.....





# الفصل الدراسي الثالث





# محتويات

## الفصل الدراسي الثالث

### الوحدة السادسة: الخرائط والسُّكَّان ..... ١٢٠

- الدرس العشرون: تاريخ الخرائط وتطوُّرها ..... ١٢٢
- الدرس الحادي والعشرون: السكان ..... ١٢٦
- الدرس الثاني والعشرون: توزيع السكان (العوامل الطبيعية: التضاريس والمياه) ..... ١٣٠
- الدرس الثالث والعشرون: توزيع السكان (العوامل الطبيعية: المناخ والموارد) ..... ١٣٤
- الدرس الرابع والعشرون: توزيع السكان (العوامل البَشَريَّة) ..... ١٣٨
- تقويم الوحدة السادسة ..... ١٤١

### الوحدة السابعة: المَوارِد الاقتصادية ..... ١٤٤

- الدرس الخامس والعشرون: المياه ..... ١٤٦
- الدرس السادس والعشرون: النبات الطبيعي ..... ١٤٩
- الدرس السابع والعشرون: الثروة الحيوانية ..... ١٥٣
- الدرس الثامن والعشرون: النفط والمعادن ..... ١٥٦
- تقويم الوحدة السابعة ..... ١٦٢

### الوحدة الثامنة: الأنشطة الاقتصادية ..... ١٦٦

- الدرس التاسع والعشرون: الزراعة والرعي ..... ١٦٨
- الدرس الثلاثون: الصناعة والتجارة والخدمات ..... ١٧٢
- تقويم الوحدة الثامنة ..... ١٧٨





# الوحدة السادسة

## الخرائط والسُّكَّان



- الدرس العشرون: تاريخ الخرائط وتطورها
- الدرس الحادي والعشرون: السُّكَّان
- الدرس الثاني والعشرون: توزيع السُّكَّان (العوامل الطبيعية: التضاريس والمياه)
- الدرس الثالث والعشرون: توزيع السُّكَّان (العوامل الطبيعية: المناخ والموارد)
- الدرس الرابع والعشرون: توزيع السُّكَّان (العوامل البَشَرِيَّة)







## سوف أتعلم في هذه الوحدة

- ◆ تاريخ الخرائط وتطورها.
- ◆ مفهوم السكان والعوامل المؤثرة في توزيعهم.
- ◆ دور المَوارِد الطبيعية في جذب السكان.







## تاريخ الخرائط وتطورها

يرتبط تاريخ الخرائط وصناعتها بتاريخ الإنسان وتطور حضارته على سطح الأرض. فمتى كان ابتداء معرفة الخرائط؟ وكيف تطوّرت؟



## الخريطة

رسم توضيحي مصغّر لسطح الأرض أو لجزءٍ منه، يوضح الظواهر الطبيعية، مثل: الأنهار والجبال والسّهول والغابات، أو الظواهر البشريّة، مثل: توزيع السُّكّان والمدن والقرى والطرق.

## تاريخ الخريطة

يذكر المؤرخون أن الإنسان عرف الخرائط قبل معرفته الكتابة، التي أخذ ينقشها على ألواح من الطين والخشب وعلى جلود الحيوانات؛ ليسهل عليه نقلها وحفظها، واستعمالها وقت الحاجة. كان البابليّون في العراق والفراعنة في مصر من أوائل من رسم الخرائط. وقد عرف العرب رسم الخرائط قديماً، حيث تذكرُ كتب التاريخ أن الحجاج بن يوسف الثَّقَفي أمرَ القائد قُتَيْبَةَ بن مسلم الباهليّ (فاتح بلاد ما وراء النهر) أن يرسل له صورة للمنطقة التي طال حصارها في نحو عام ٨٧ هـ.

## للاطلاع

## خريطة بطليموس:

من أقدم خرائط العالم، وهي في عام ١٥٠م، ثم أعيد رسمها بالشكل الحالي عام ١٢٩٥م.



شبه الجزيرة العربية (تشكل المملكة العربية السعودية اليوم معظمها) في خريطة بطليموس



### للاطلاع

نُفذَ الإدريسي أول مجسّم للكرة الأرضية عندما طبق معلومات الخرائط على كرة فضية وأهداها إلى الملك الصّقلي. ويعد مجسّم الكرة الأرضية هذا هو الأول من نوعه.

### خريطة الإدريسي:

في عام ٥٤٩هـ، أنشأ العالم المسلم محمد الإدريسي القرشي أول خريطة عالمية صحيحة مبنية وفق الأصول العلمية والحقائق الدقيقة التي لا تختلف كثيراً عما هو معروف في الوقت الحاضر، وقدمها في كتابه (نزهة المشتاق في اختراق الآفاق)، وقد استعملت خرائطه ثلاثة قرون لدقتها.

### نشاط



خريطة الإدريسي



خريطة حديثة

ما المشاكل التي واجهها الناس قديماً في خرائطهم؟

.....

.....

.....





## نُظْم المعلومات الجغرافية

هي استعمال البرامج التقنية الحاسوبية لجمع المعلومات الجغرافية وتخزينها وعرضها من خلال تطبيقات رقمية عديدة على هيئة خريطة رقمية.

مميزات الخرائط الرقمية:

- 1- استعمال الخريطة الرقمية والحصول عليها أسهل من الخريطة الورقية.
- 2- الخرائط الرقمية تُحدَّث بسهولة.
- 3- الخرائط الرقمية يمكن التحكم فيها وإظهار تمثيلها الحقيقي للواقع.





## تصميم الخرائط في وطني

خريطة وطني المملكة العربية السعودية تركّز في المعلومات والبيانات الجغرافية داخل المملكة العربية السعودية فقط.



تتولى الهيئة العامة للمساحة والمعلومات الجيومكانية إنتاج الخرائط الرقمية لوطني (المملكة العربية السعودية).

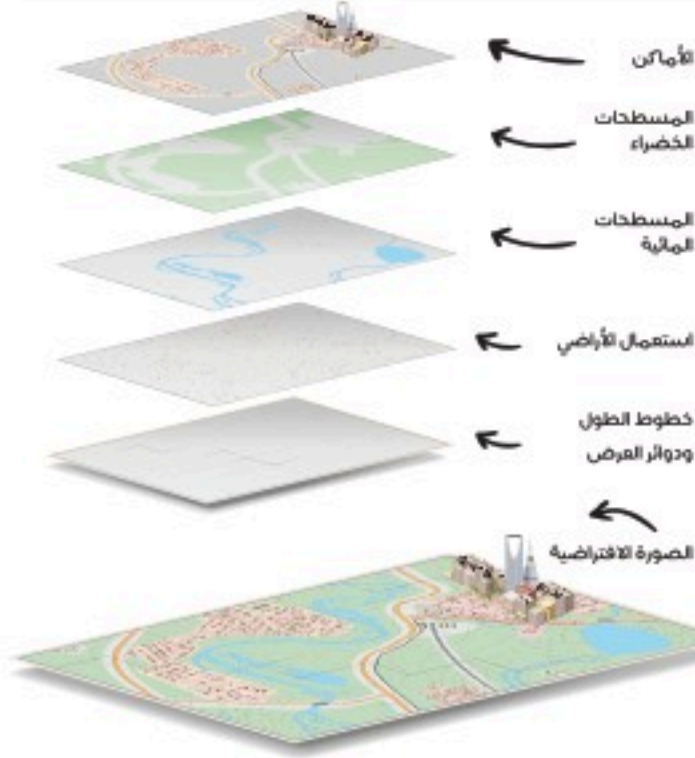
وتتولى هيئة المساحة الجيولوجية السعودية إنتاج الخرائط الجيولوجية (طبقات الأرض) الرقمية لوطني المملكة العربية السعودية.



هيئة المساحة الجيولوجية السعودية  
SAUDI GEOLOGICAL SURVEY  
www.sgs.org.sa

### تلاطلاع

#### طبقات الخريطة الرقمية



المملكة العربية السعودية





يتوزع السُّكَّان على سطح الأرض توزيعاً متفاوتاً من مكان إلى آخر، فما مفهوم السُّكَّان؟ وما العوامل المؤثرة في توزيعهم؟



توزيع سُكَّان العالم ليس منتظماً، بل يتفاوت بين الدول والمدن ومن قارة إلى أخرى، ويسكن قارة آسيا نحو ٦٠٪ بينما قارة استراليا تشكل ما يقارب ١٪ من سُكَّان العالم، وتشهد قارة إفريقيا نمواً سكانياً متزايداً.

❓ لماذا نعتني بتوزيع السُّكَّان؟

يُعْتَنَى بتوزيع السُّكَّان من أجل توزيع الخِدْمَات عليهم، والتخطيط للتنمية لتحقيقها.

### للاطلاع

عدد سُكَّان الأرض نحو سبعة مليارات وستمئة وسبعين مليون نسمة

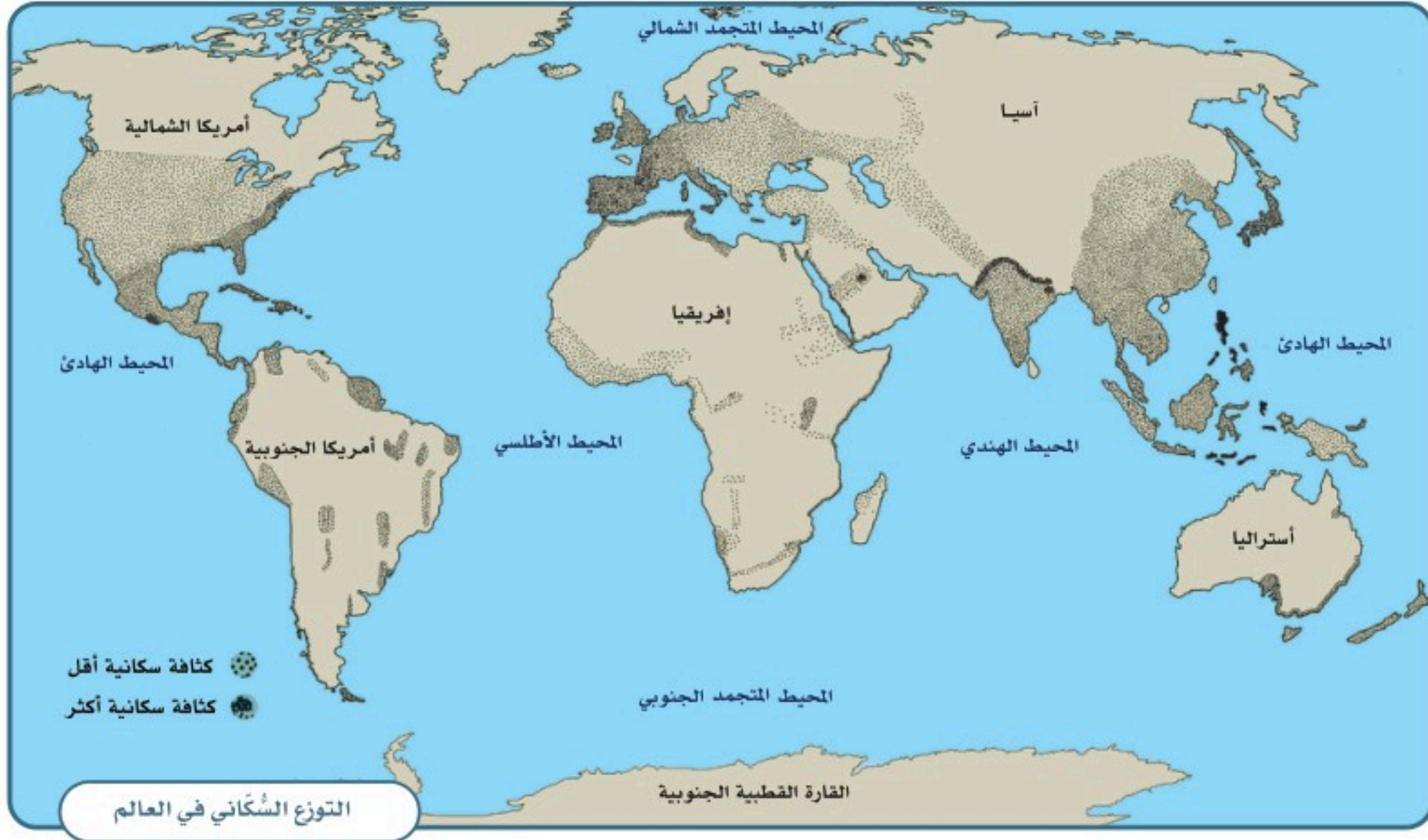
مساحة الأرض خمسمئة وعشرة ملايين ومئة ألف كيلومتر مربع

تَشْغَل اليابسة نحو مئة وثمانية وأربعين مليوناً وتسعمئة ألف كيلومتر مربع (٢٩٪ من الأرض)

يَشْغَل الماء نحو ثلاثمئة وواحد وستين مليوناً ومئتي ألف كيلومتر مربع (٧١٪ من الأرض)







## نشاط ١

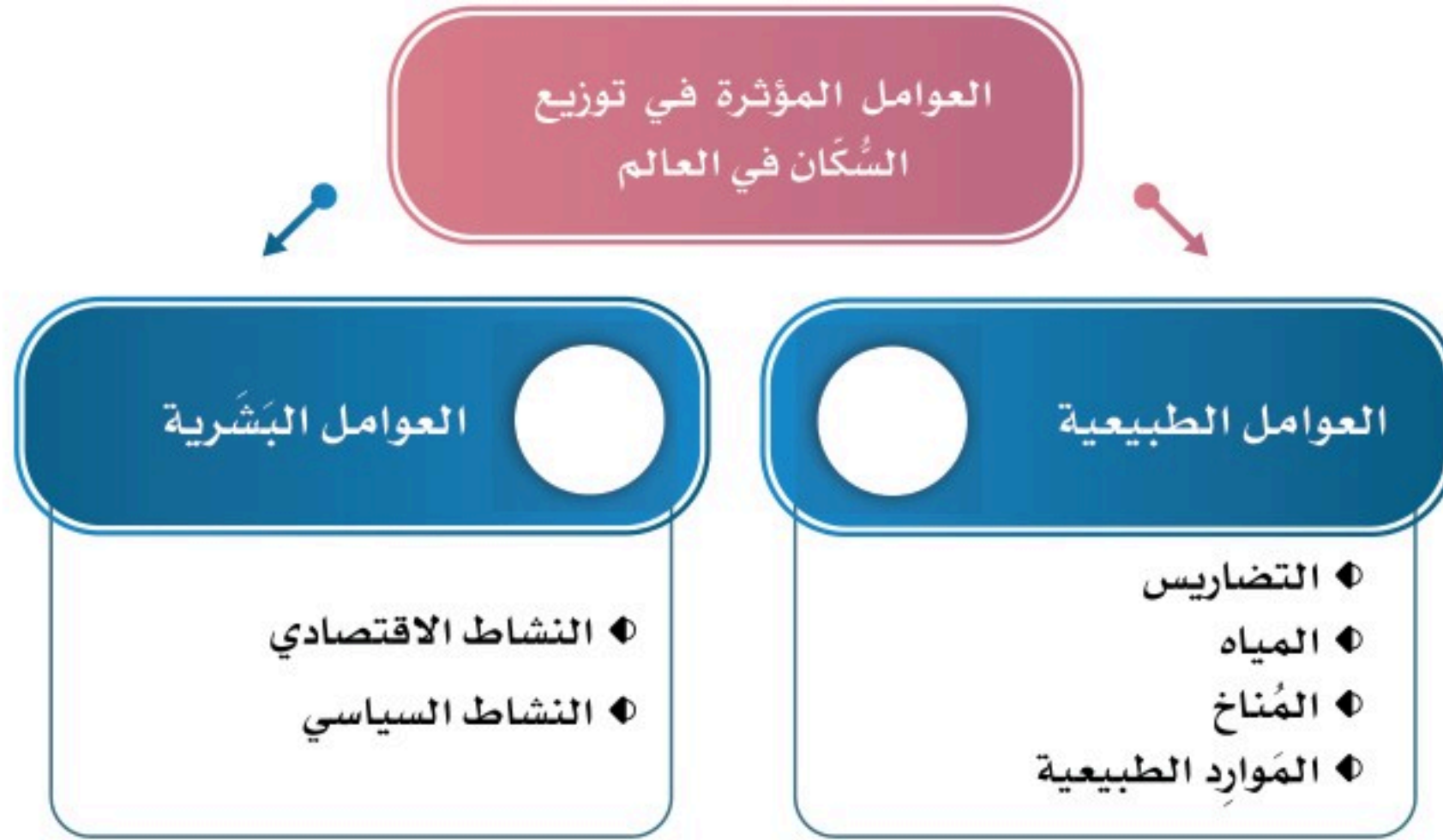
**يضع الطلبة خطأً تحت الخيار الصحيح من بين الأقواس في النص الآتي:**

يقترب عدد سُكَّان العالم في الوقت الحالي من ٨ مليارات نسمة، وتوزيع سُكَّان العالم (مُنْتَظَم / ليس منتظماً)، وتعد المساحات المأهولة بالسُّكَّان من اليابسة (كثيرة/ قليلة) بالنظر إلى مساحتها، ويتركز السُّكَّان في قارة (آسيا/ القارة المتجمدة الجنوبية)، ويقل عددهم في قارة (أمريكا الشمالية/ أستراليا).









تلاطلاع

يمكن معرفة الكثافة السكانية في أي موقع سكاني من خلال هذه الطريقة الحسابية

$$\text{الكثافة السُّكَّانية} = \frac{\text{عدد السُّكَّان}}{\text{المساحة}}$$

نشاط ٣

أ- يعلِّ الطلبة ارتفاع الكثافة السُّكَّانية في المدن الآتية:

١- الرياض: .....

٢- مكة المكرمة: .....

ب- يستنتج الطلبة كيف تؤثر التضاريس في توزيع السُّكَّان.

.....





## توزيع السُّكَّان (العوامل الطبيعية: التضاريس والمياه)

تتنوع التضاريس على سطح الأرض ويتفاوت توزُّع السُّكَّان فيها؛ فما أنواع هذه التضاريس؟ وما أشكالها؟ وكيف يتوزُّع السُّكَّان فيها؟



## التضاريس

يكثر السُّكَّان في السهول والهضاب غير الوعرة، في حين يقل وجود السُّكَّان كلما زاد ارتفاع التضاريس وزادت وعورتها؛ ولهذا نجد أن أعالي الجبال الشاهقة تخلو من السُّكَّان.



جبال الطائف

## للاطلاع

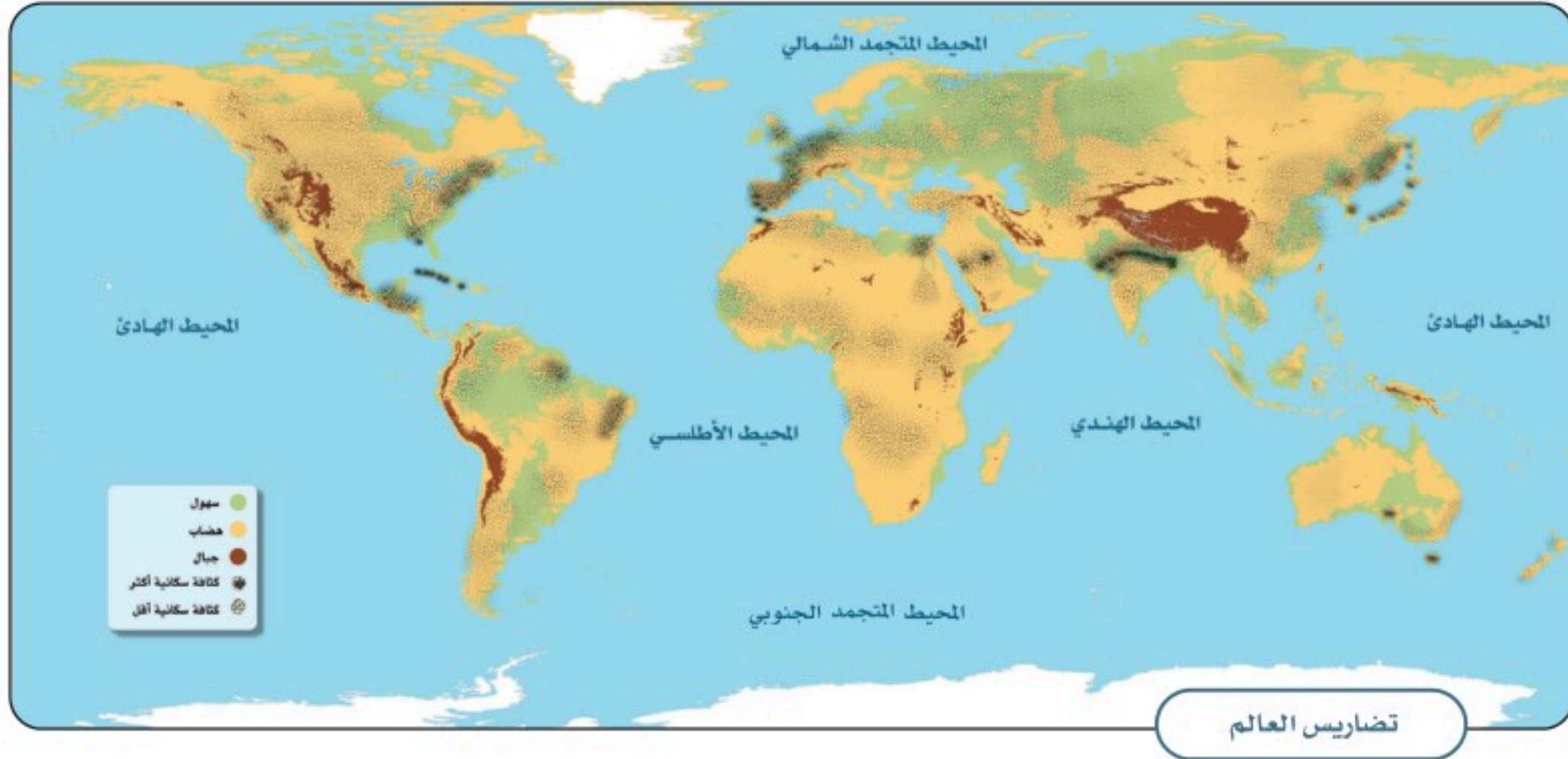
يتأثر توزيع السكان بتوفر الموارد الاقتصادية التي تلبي احتياجاتهم الأساسية مثل المياه والمحصولات الزراعية وغيرها، ويقل عدد السكان في الجبال والمناطق الصحراوية لندرة هذه الموارد. وهذا يعني أن السكان يميلون إلى العيش في المناطق التي توفر لهم فرصاً اقتصادية أكبر وتسهم في تحسين جودة حياتهم.





١

نشاط



أ- ما أشكال التضاريس في القارات الآتية، وما تأثيرها في توزيع السُكَّان؟

١- آسيا: ..... التأثير: .....

٢- إفريقيا: ..... التأثير: .....

٣- أمريكا الشمالية: ..... التأثير: .....

ب- لماذا لا يفضل السكان العيش في صحراء الربع الخالي؟

.....



## المياه



تتعدَّد مصادر المياه على سطح الأرض، وتُعدُّ عاملاً أساسياً في توزيع السُّكَّان عليه، وتنقسم مصادر المياه إلى قسمين:

◆ المياه العذبة، ومصادرها: الأنهار، والينابيع، والبحيرات العذبة، والمياه الجوفية، والأمطار، والثلوج، والجليد.

◆ المياه المالحة، ومصادرها: المحيطات، والبحار، والبحيرات المالحة.

ترتفع الكثافة السُّكَّانية في السواحل البحرية، وقُرب الأنهار، وضيْف البحيرات؛ للأسباب الآتية:

١- للزراعة وصيد السمك.

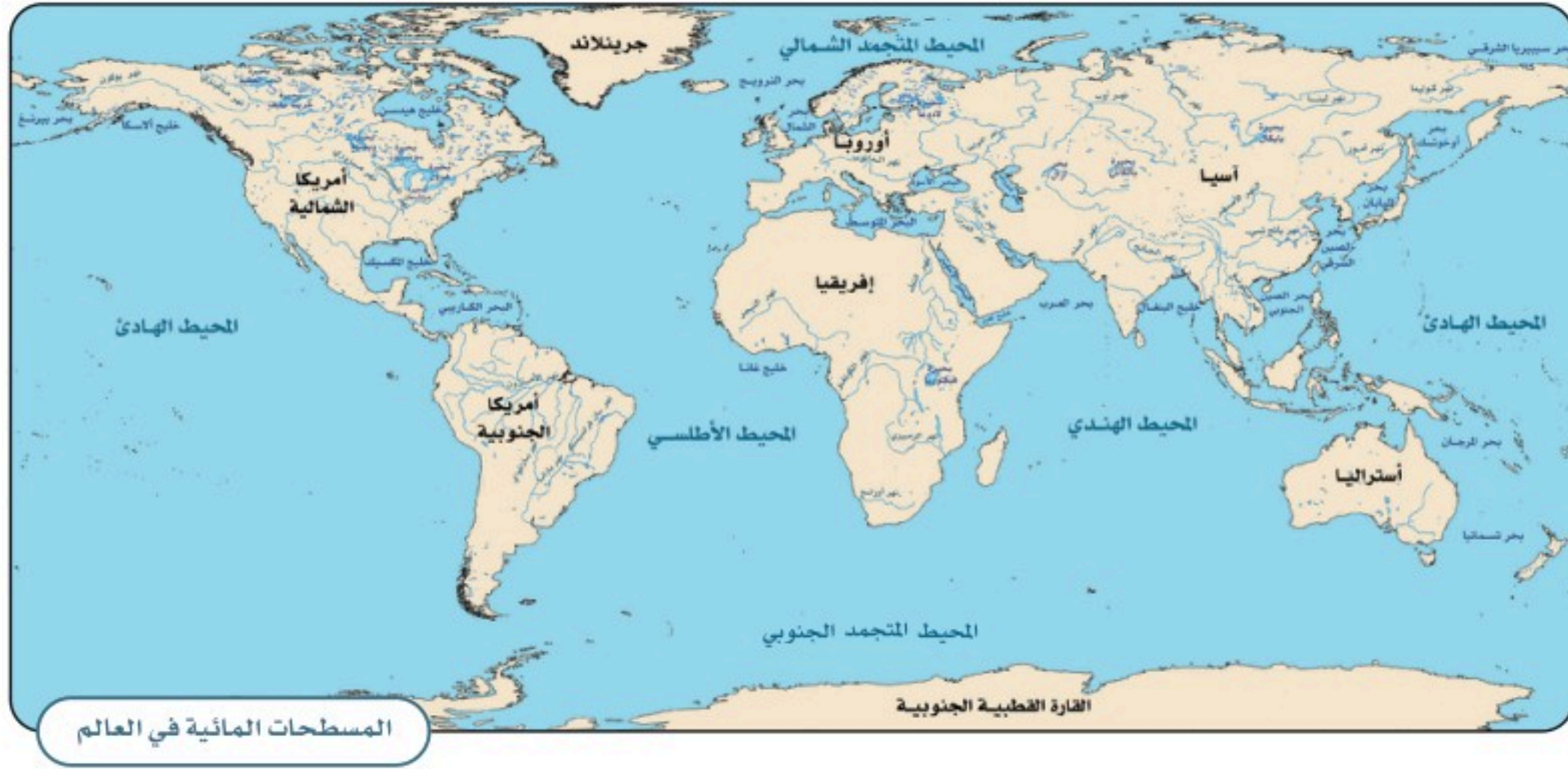
٢- للعمل في الموانئ والمواصلات البحرية.

٣- للعمل في محطات توليد الطاقة والسُّدود.

### للاطلاع

تقل كثافة السُّكَّان في المحيط المتجمد الجنوبي؛ وذلك بسبب تجمُّده وصعوبة وصول الخدمات إليه.





المسطحات المائية في العالم



٢

نشاط

أ- يحدد الطلبة المدن القريبة من المناطق المائية الجاذبة للسكان في وطني المملكة العربية السعودية؟

ب- يحدد الطلبة من المجموعة (أ) ما يناسبها من المجموعة (ب) باستعمال الأرقام:

ب	أ
<input type="radio"/> تقع قُرْبَ البحر الأحمر؛ لتكون مركزاً لاستقبال الحجاج.	١- نيويورك
<input type="radio"/> تقع على نهر دجلة؛ حيث وَفَرَةُ المياه العذبة.	٢- جدة
<input type="radio"/> تقع غرب المحيط الأطلسي؛ لتكون مركزاً تجارياً عالمياً.	٣- بغداد





## توزيع السكان (العوامل الطبيعية: المناخ والموارد)

يختلف المناخ من منطقة إلى أخرى؛ لذلك يختلف توزع السكان، فما أهم المناطق المناخية؟ وما أثر ذلك فيها؟



## المناخ

أسباب ارتفاع كثافة السكان في المناطق ذات المناخ المعتدل:

قلة الأمطار وقلّة المحاصيل الزراعية

أنها مكلفة اقتصادياً ( الحاجة للتبريد والتدفئة )

صعوبة التكيف معها ( ارتفاع الحرارة أو شدة البرودة )

سهولة التكيف معها

أنها غير مكلفة اقتصادياً

تنوع المحاصيل الزراعية فيها

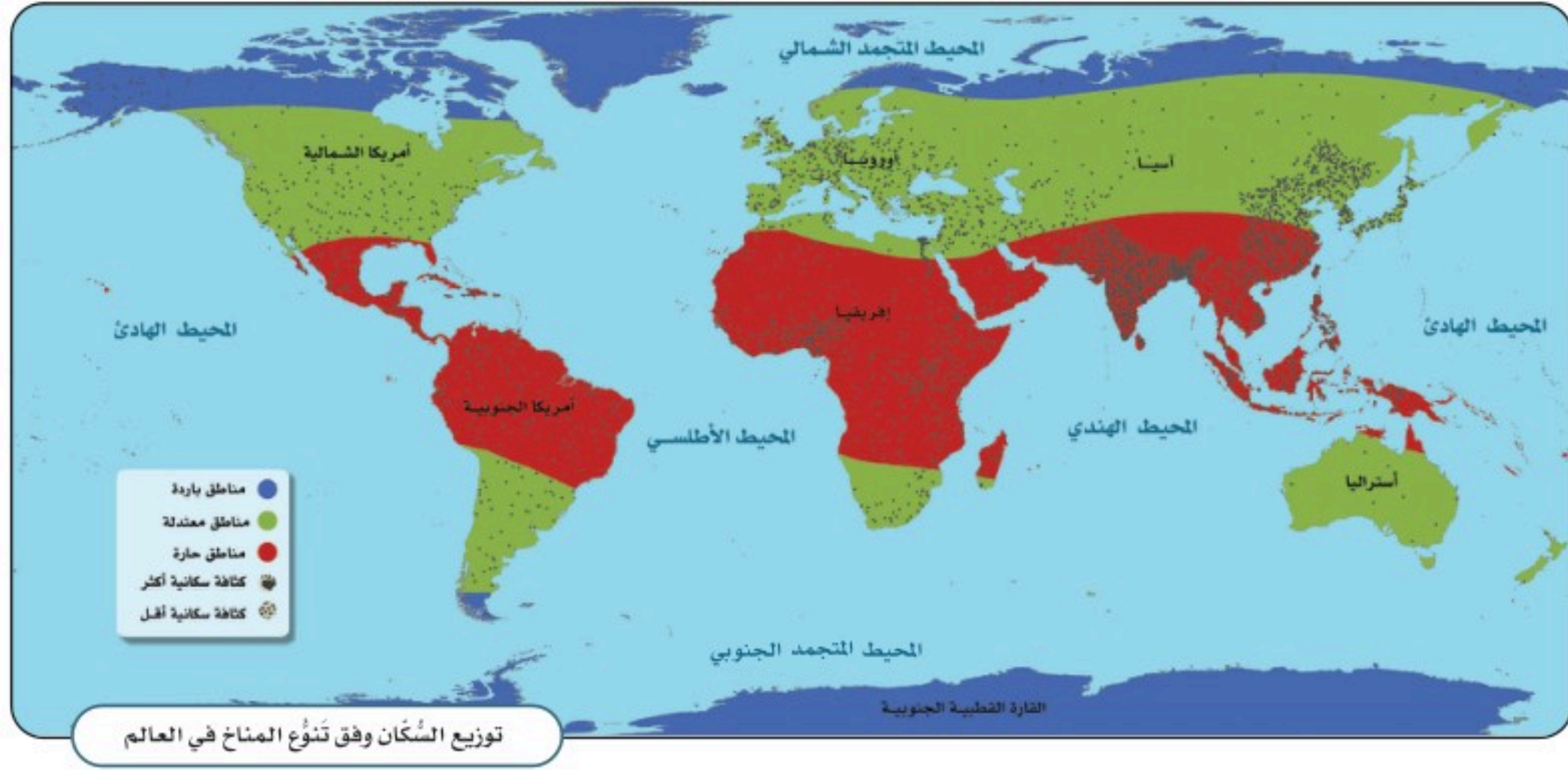
أسباب انخفاض كثافة السكان في المناطق ذات المناخ القاسي:

- تتنوع المناطق المناخية على سطح الأرض بين حارة ومعتدلة وباردة.
- تزداد الكثافة السكانية في المناطق ذات المناخ المعتدل، فإذا نظرنا إلى المناطق الصحراوية، فإننا نلاحظ انخفاض الكثافة السكانية فيها بسبب قلة الأمطار، في حين يتركز السكان في المناطق المعتدلة والمطيرة.
- يسكن أكثر من ٨٠٪ من سكان العالم في المناطق التي تكون فيها درجتا الحرارة والرطوبة معتدلتين، والتي تكثر فيها الأمطار.

## للاطلاع

تقل كثافة السكان في المناطق الاستوائية الحارة ذات الرطوبة العالية.





١

نشاط

أ- يضع الطلبة علامة (✓) أمام العبارة الصحيحة، وعلامة (X) أمام العبارة غير الصحيحة فيما يأتي:

١- تزداد الكثافة السُّكَّانية في المناطق القُطبية.

٢- تقل الكثافة السُّكَّانية في الصحاري الحارة.

٣- يبتعد الإنسان عن المناطق الاستوائية بسبب ارتفاع رطوبة الجو.

ب- يربط الطلبة بين توزيع السُّكَّان وفقاً للتضاريس والعوامل الطبيعية من حيث جودة الحياة.

١- الأفضل: .....

٢- الأسوأ: .....



## الموارد الطبيعية

الموارد الطبيعية هي كل ما أودعه الله - سبحانه وتعالى - في الطبيعة من مخزون؛ لتلبية احتياجات الإنسان وبناء حضارته.

وتُقسّم الموارد الطبيعية إلى نوعين:

١- الموارد الطبيعية المتجددة: وتتضمن الموارد التي تتجدد ذاتياً بتدبير الله، ومنها: ضوء الشمس والنباتات والحيوانات والرياح. وهي موارد لا تنتهي إذا استعملها الإنسان باعتدال.

٢- الموارد الطبيعية غير المتجددة: وتتضمن الموارد الموجودة في الطبيعة بمقادير ثابتة، وما يُؤخذ منها لا يُعوّض، ومنها: الحديد والنفط والفحم الحجري.



### للاطلاع

تزداد الكثافة السكانية في بعض المناطق مع قسوة مناخها عند توافر الموارد الطبيعية فيها، ومنها: جزء من صحراء الربع الخالي بسبب توافر الزيت (النفط).





٢

نشاط

أ- يفكر الطلبة في تعليل ما يأتي:

١- قلة السكّان في منطقة شمال ألاسكا.

٢- زيادة أعداد الوافدين لمدينة الظهران في المملكة العربية السعودية.

٣- زيادة كثافة السكّان في المناطق ذات التربة الخصبة.

ب- يقدم الطلبة مقترحاً للإفادة من الموارد الطبيعية المتجددة في مدينتهم:





## توزيع السكان (العوامل البشرية)

تؤثر الأنشطة الاقتصادية في جذب السُّكَّان، فما أنواع الأنشطة الاقتصادية؟  
وما تأثيرها في توزيع السكان؟



## النشاط الاقتصادي

هو الأعمال والمجهودات التي يؤديها الإنسان؛ لتلبية احتياجاته الأساسية وتأمين معيشته.  
ويعد النشاط الاقتصادي من أهم العوامل الجاذبة للسُّكَّان.

## أنواع النشاط الاقتصادي







## نشاط ١

أ- يُسمَّى الطلبة دولة واحدة تكثر فيها الزراعة في كلِّ من القارات الآتية:

- ١- آسيا: .....
- ٢- أمريكا الجنوبية: .....
- ٣- أمريكا الشمالية: .....

ب- إلى أيِّ نشاط تنتمي الصور الآتية (زراعي - صناعي - تجاري)؟



نشاط .....



نشاط .....



نشاط .....





أحد مخيمات اللاجئين بسبب الحروب

## النزاعات السياسية

تعد النزاعات والحروب أحد أهم العوامل المؤثرة في توزيع السُّكَّان من خلال الهجرة أو الإقامة في الملاجئ، فالأمن سبب رئيس في استقرار السُّكَّان وجذبهم.



٢

نشاط



يراجع الطلبة الموقع الإلكتروني لمركز الملك سلمان للإغاثة والأعمال الإنسانية، ويكتبون وصفاً موجزاً لرؤية المركز.



[www.ksrelief.org](http://www.ksrelief.org)



لاجئون في مخيمات الأمم المتحدة

للاطلاع

- حسب إحصاءات الأمم المتحدة، بلغ عدد السُّكَّان النازحين من أوطانهم بسبب الأوضاع السياسية غير المستقرة في نهاية عام ١٤٤٢هـ نحو (٨٢,٤٠٠,٠٠٠) اثنان وثمانون مليوناً وأربعمائة ألف شخص.
- الدول التي تكثرت فيها النزاعات السياسية والحروب ترتفع فيها نسبة البطالة ويقل نشاطها الاقتصادي .





# تقويم الوحدة السادسة





١ ما أنواع التضاريس والأنشطة في الصور الآتية؟



جدة - المملكة العربية السعودية

نوع التضاريس: .....

نوع النشاط: .....



جازان - المملكة العربية السعودية

نوع التضاريس: .....

نوع النشاط: .....



الربع الخالي - المملكة العربية السعودية

نوع التضاريس: .....

نوع النشاط: .....



كوريا الجنوبية

نوع التضاريس: .....

نوع النشاط: .....

٢ يذكر الطلبة أهم مميزات السكن في السهول.

.....

٣ يصف الطلبة الخريطة الرقمية في جملة قصيرة:

.....

.....



٤ يصنّف الطلبة المَوارِد الطبيعيّة الآتية في الجدول الآتي:

الحيوانات	النفط	الحديد	النباتات	الرياح
-----------	-------	--------	----------	--------

موارد طبيعية متجددة	موارد طبيعية غير متجددة

٥ يُعلّل الطلبة تفاوت توزيع السُّكّان على سطح الكرة الأرضية.

.....

.....

.....

٦ يضع الطلبة علامة (✓) أمام العبارة الصحيحة، وعلامة (x) أمام العبارة غير الصحيحة فيما يأتي:

- ١- تزداد الكثافة السُّكّانية في الجبال الشاهقة والصحاري الجافة.
- ٢- تعد مَوارِد المياه العذبة (الأنهار، الأمطار) عاملَ طردٍ للسُّكّان.
- ٣- تُركّز رؤية المملكة ٢٠٣٠ على استثمار الموارد البشرية.
- ٤- تعد المناطق الجبليّة في جنوب المملكة العربية السعودية عاملَ جذبٍ سياحيّ.

٧ بماذا تعنى هيئة المساحة الجيولوجية السعودية؟

.....

.....



# الوحدة السابعة

## الموارد الاقتصادية



- ◆ الدرس الخامس والعشرون: المياه
- ◆ الدرس السادس والعشرون: النبات الطبيعي
- ◆ الدرس السابع والعشرون: الثروة الحيوانية
- ◆ الدرس الثامن والعشرون: النفط والمعادن







## سوف أتعلم في هذه الوحدة

- الموارد الطبيعية والاقتصادية في المملكة العربية السعودية.
- أهمية الموارد الطبيعية.
- الإسهام في المحافظة على الموارد وترشيدها.
- أنشطة السُّكَّان في المملكة العربية السعودية.







يخلو وطني المملكة العربية السعودية من المسطحات المائية العذبة، مثل: الأنهار والبحيرات، كما تقل الأمطار في معظم أجزائه، وقد حرصت حكومة وطني على توفير موارد بديلة، فما أهم تلك الموارد؟



### مَوارِد المياه

يقع وطني (المملكة العربية السعودية) ضمن المنطقة التي يَتَّسِمُ مُناخُها **بالجفاف**، عدا المرتفعات الجبليّة في جنوبها الغربي؛ لذا يَسُوْدُ فيها المناخ شبه الجاف؛ وهو ما تسبّب في شُحِّ موارد المياه فيها.

#### من موارد المياه في وطني

##### المحلاة مياه البحر

هي مياه البحر المُنقّاة من الأملاح والشوائب

##### مثال

محطات التحلية في الساحلين الشرقي والغربي من المملكة

##### المياه الجوفية

هي المياه التي تخزنت في باطن الأرض وتحتاج إلى جهد لاستخراجها

##### مثال

آبار المدينة المنورة، وآبار عسير

##### المياه السطحية

هي المياه التي تعلو سطح الأرض ولا تحتاج إلى جهد لاستخراجها

##### مثال

العيون، ومنها عيون الأحساء، والأودية، ومنها وادي نجران

#### تلاطلاع

كانت بعض المناطق في المملكة العربية السعودية - ومنها الأحساء، والأفلاج، والخرج - تحوي كثيراً من العيون، ولكن لكثرة استنزاف المياه واستهلاكها في السنوات الأخيرة جفّت المياه في أغلبها، وأصبح الماء يُستخرج من باقيها بمضخات.



## مياه الصَّرْف الصحي المُعالِجَة:



محطة معالجة مياه الصرف الصحي

هي **مورد جديد** يدعم موارد المياه الأخرى، ولقلة المياه الجوفية والسطحية في المملكة العربية السعودية، جاء التفكير في كيفية الاستفادة من مياه الصرف الصحي بعد معالجتها؛ لاستعمالها في بعض المجالات، منها: **ريّ الحدائق والمنتزهات**، وبعض الأغراض الصناعية.

## تحلية المياه المالحة:



محطة تحلية

تقوم المملكة العربية السعودية بتحلية مياه **البحر المالحة** وتحويلها إلى مياه **عذبة** صالحة للشرب، وقد **تصدّرت دول العالم** في تحلية المياه، وتُغطّي المملكة ٧٠٪ من احتياجاتها لمياه الشرب من تحلية مياه البحر.



١

نشاط

أ- لماذا لجأت حكومة وطني إلى تحلية مياه البحر؟

.....

ب- يقترح الطلبة حلولاً للتغلب على شح المياه؟

.....

ج- ماذا نتعلم من فكرة معالجة مياه الصرف الصحي؟

.....





عيون الأحساء

## «المحافظة على الثروة المائية»

تكون المحافظة على الثروة المائية ومواردها باتباع السلوك الصحيح في استعمالها، ومن أهم ذلك:

- ◆ تجنب رمي النفايات في العيون والأودية والآبار.
- ◆ الاقتصاد في استهلاك المياه وفق احتياجاتنا.

◆ **توعية الآخرين** بأهمية الماء؛ حيث يعد الماء العنصر الأساسي للحياة على سطح الأرض، ولا تمكن الحياة من دونه. قال الله تعالى:

﴿وَجَعَلْنَا مِنَ الْمَاءِ كُلَّ شَيْءٍ حَيٍّ أَفَلَا يُؤْمِنُونَ﴾ [سورة الأنبياء].



٢

نشاط



أشهر الأودية في المملكة العربية السعودية

تنقسم الأودية في وطني المملكة العربية السعودية من حيث تصريف المياه إلى قسمين: أودية داخلية، وأودية ذات تصريف خارجي تصب في البحر.

**يتأمل الطلبة الخريطة، ثم يذكرون ما يأتي:**

أ- ثلاثة أودية داخلية:

١- .....

٢- .....

٣- .....

ب- ثلاثة أودية ذات تصريف خارجي:

١- ..... ٢- ..... ٣- .....





## النبات الطبيعي

تتنوع أشكال النباتات الطبيعية في وطني المملكة العربية السعودية متأثرة بعوامل مختلفة، فما أنواع النباتات الطبيعية؟ وما العوامل المؤثرة فيها؟



## « أنواع النباتات الطبيعية في وطني المملكة العربية السعودية

تتأثر النباتات الطبيعية في وطني المملكة العربية السعودية بأحواله المناخية؛ لذا تتنوع إلى:

- ◆ نباتات حَوْلِيَّة. ◆ نباتات مُعَمَّرَة.

## أ - النباتات الحَوْلِيَّة (المَوْسِمِيَّة):

نباتات تثبت عَقِبَ موسم سقوط الأمطار، وتتغذى عليها الحيوانات، وتنتهي مع نهاية الموسم، منها: الحُوَاء، والرُّبْلَة، والثُّمَام، والسَّمْح، والأَقْحُوَان.



الرُّبْلَة



الحُوَاء



الأقحوان



السَّمْح



الثُّمَام




## ب- النباتات المُعمَّرة (الدائمة):

هي إحدى أهم مقوّمات الحياة، ومن صفاتها **مقاومة الجفاف**، منها: الأثل، والسّمُر، والعَرَعَر، والطلّح، والغضّا.



العَرَعَر




السّمُر



الأثل



الغضّا



الطلّح

## العوامل المؤثرة في نموّ النبات الطبيعي

### ١- المُناخ:

الأمطار: هي أهم العناصر المناخية المؤثرة في نوع النبات وكثافته.  
الحرارة: تؤثر درجات الحرارة في **نمو النباتات**، فهناك نباتات تنمو في المناطق الحارة، وأخرى تنمو في المناطق المعتدلة.



للاطلاع

- ◆ أنشأت حكومة وطني المملكة العربية السعودية في عام ١٤٤٠هـ المركز الوطني لتنمية الغطاء النباتي، الذي يسعى إلى حماية مختلف أنماط الحياة النباتية وتنميتها في أنحاء الوطن.
- ◆ تحظر الأنظمة الإضرار بالأشجار والنباتات بأنواعها في أراضي المراعي، والغابات، والمنتزهات الطبيعية، سواءً أكان الإضرار بالقطع أو بالحرق أو بأي وسائل أخرى.

٢- التُّربة:

تعمل لتثبيت النباتات، وتُمدُّها بالعناصر الغذائية اللازمة لنموها.

٣- التضاريس:

يُسهّم تنوُّع التضاريس في اختلاف الغطاء النباتي، فعلى سبيل المثال: مرتفعات عَسير ينمو فيها غطاء نباتي كثيف؛ بسبب زيادة الأمطار، بخلاف المناطق المنخفضة القليلة الأمطار.



اخضرار الأرض في إحدى الروضات




شجر القرظ

﴿ توزيع النباتات الطبيعية في وطني

المملكة العربية السعودية

تختلف أنواع النباتات الطبيعية في وطني المملكة العربية السعودية باختلاف خصائص البيئة التي تنمو فيها.





البيئات النباتية في وطني المملكة العربية السعودية	
أمثلة على أبرز النباتات	نوع البيئة
الطَّلْح، الزيتون البرِّي، التين الشُّوكي	البيئة الجبليَّة
الطَّلْح، السَّمُر، الأثل	بيئة الأودية
الأرطى، الأثل، الغضا	بيئة الرَّمال
الطَّلْح، الدَّوم، العرْفَج	بيئة السهول الساحلية



١

نشاط

أ- لماذا نحتاج إلى تحديد المحميات الطبيعية في وطننا؟

.....

ب- ما النتائج المحتملة بعد زوال النباتات المعمرة؟

.....

ج- يذكر الطلبة ثلاث مدن سعودية تمثل البيئة الجبلية؟

.....

د- ماذا يعني لنا النبات الطبيعي في بيئتنا؟

.....





## الثروة الحيوانية

تعد الحيوانات مورداً مهماً من موارد الثروة في وطني، فما أنواعها؟ وأين تتوافر بكثرة؟ وما أسباب قلة بعضها؟



تعد الثروة الحيوانية من الموارد الاقتصادية المهمة في وطني المملكة العربية السعودية، بما تُنتجه من لحوم ومشتقات الحليب التي تُعدّ مصدراً غذائياً، والصوف والجلود مصدراً صناعياً.

وفي وطني طرائق حديثة للعناية بالثروة الحيوانية، حيث أنشئت مزارع للدواجن والمواشي، وفي وطني أكبر مزارع للأبقار في العالم، وهي معدة لإنتاج الحليب ومشتقاته.



صناعة الحليب ومشتقاته



مزرعة أبقار



إعداد الدواجن للاستهلاك



مزرعة دواجن





## نشاط ١

أ- يضع الطلبة عنواناً للخريطة.

ب- أين تكثُر مزارع تربية الأبقار؟

.....

.....


.....

ج- يُسجّل الطلبة في الجدول الآتي مناطق تركُّز الثروة الحيوانية، اعتماداً على الخريطة السابقة:

الحيوانات	مناطق تركُّزها	أسباب تركُّزها
الإبل		ملاءمة الخصائص الجغرافية في هذه المناطق لتربية الإبل
الأبقار		إقامة مشروعات لإنتاج الحليب ومشتقاته
الضأن والماعز		نموُّ الأعشاب في المنطقة، حيث تستطيع أن تعيش على الأعشاب القليلة
الدواجن		إقامة مشروعات الدواجن، واستيراد أجهزة التفقيس والأعلاف
الأسماك		وجود الخُلجان والأخوار

## « قلة الثروة الحيوانية وتنميتها

يعاني وطني (المملكة العربية السعودية) قلة الثروة الحيوانية، ولأهميتها تسعى الدولة لتنميتها؛ لتحقيق **الاكتفاء الذاتي** لكيلا نستورد من الخارج، وحتى لا نواجه ندرة وقلة في هذا المورد الاقتصادي في المستقبل.



الجمال



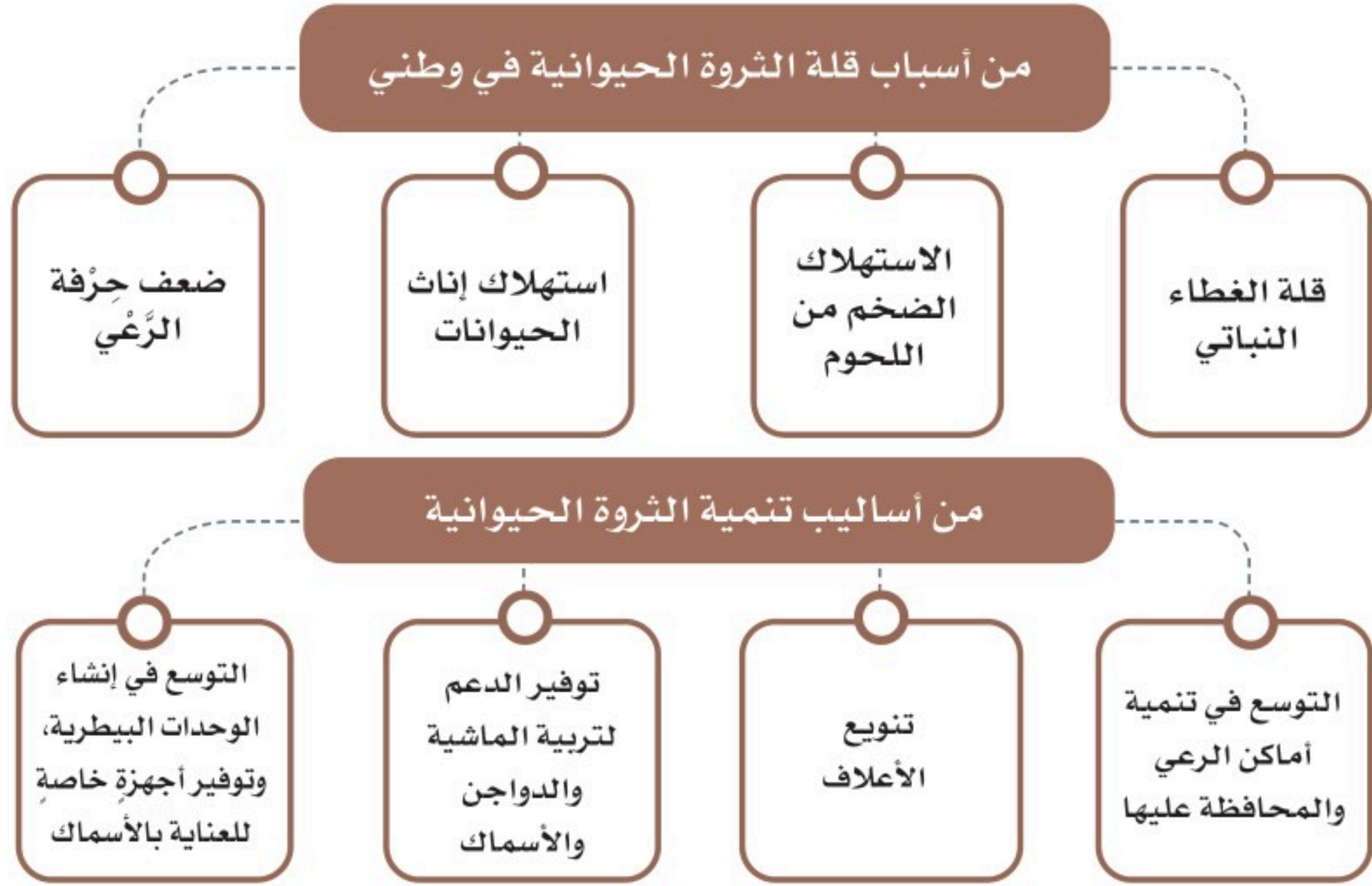
الضأن

### للاطلاع

تقررت تسمية عام ٢٠٢٤م بعام الإبل اعترافاً بالقيمة الثقافية والحضارية للإبل، وللتعريف بمكانتها في وجدان المجتمع السعودي، وعلاقتها الراسخة بإنسان الجزيرة العربية عبر التاريخ.







مَنَحْل عسل

### « تربية النحل

تنتشر تربية النحل في عدة مناطق في وطني المملكة العربية السعودية، وقد أطلقت وزارة البيئة والمياه والزراعة (في برنامج التَّحَوُّل الوطني ضمن رؤية المملكة ٢٠٣٠) مبادرات تُسهم في تطوير قطاع النحل؛ لرفع مستوى الجودة والإنتاج، وابتكار حلولٍ للعوائق والتحديات التي تعترض هذا القطاع.





تكثر حقول النّفْط ومناجم المعادن في المملكة العربية السعودية، فأين مواقعها؟ وما أهم المعادن فيها؟



### للاطلاع

◆ بدأ التنقيب عن النفط في عهد الملك عبدالعزيز بن عبدالرحمن آل سعود، ثم اكتُشف بكميات تجارية في عام ١٣٥٧هـ/١٩٣٨م، وحُفرت أول بئر للنفط بالقرب من مدينة الدمام.

◆ النفط: سائل أسود مكوّن من مزيج من المواد، أهمها الكربون والهيدروجين، ويصاحب النفط الخام بعض الأملاح والغازات الحامضة والماء وشوائب أخرى. وهو مادة أساسية في كثير من الصناعات، منها: صناعة الأسمدة والبلاستيك والمطاط الصناعي.

◆ الغاز الطبيعي: من أهم الموارد الطبيعية، فهو لا يحتاج إلى تكرير كالنفط، بل يستعمل وقوداً. وتأتي المملكة العربية السعودية في المرتبة التاسعة عالمياً في إنتاجه، أما الاحتياطي منه فهي في المرتبة السادسة عالمياً.

### النَّفْط

هو من أهم المَوارِد في وطني المملكة العربية السعودية، فوطنِي يأتي في المركز الثاني عالمياً في الاحتياطي منه، وكذلك في إنتاجه.

وحقول النفط في وطني كثيرة، على اليابسة وتُسمّى حقولاً برية، أو مغمورة في المياه وتُسمّى حقولاً بحرية.

الغَوَار أكبر حقل نفطي بَرِّي في العالم

السَّفَانِيَّة أكبر حقل نفطي بحري في العالم



حقل السَّفَانِيَّة



المراحل التي تمر بها صناعة النفط





أرامكو السعودية  
saudi aramco



شركة أرامكو السعودية

شركة سعودية تعمل في مجال النفط، وأفتخرُ بها:

شركة عريقة أُسست في عهد الملك عبدالعزيز بن عبدالرحمن آل سعود،  
عام ١٣٥٢هـ / ١٩٣٣م.

تعمل في مجالات النفط والغاز الطبيعي والبتروكيماويات.

من أعمالها: التنقيب والإنتاج والتصنيع والتسويق والشحن.

مقرها الرئيس: الظَّهران بالمنطقة الشرقية.

هي أضخم شركة نفطٍ في العالم.

يبلغ عدد موظفيها نحو ٦٧ ألف موظف وموظفة.

### رؤية وطنية:

عندما بدأت المفاوضات في عام ١٣٥٢هـ، بين الملك عبدالعزيز ورئيس شركة الزيت الأمريكية التي أصبحت فيما بعد أرامكو؛ من أجل أن تحصل تلك الشركة على امتياز التنقيب عن النفط، طلب الملك عبدالعزيز إضافة مادةٍ للاتفاقية تُلزم الشركة الأمريكية بتوظيف السعوديين، وتعجَّب رئيس الشركة الأمريكي في ذلك الوقت من هذا الطلب؛ لقلة السعوديين المختصين. واليوم نجد أن رؤية الملك عبدالعزيز تحققت حيث أصبحت شركة أرامكو سعوديةً إدارةً وموظفين، وأصبحت أكبر شركة نفطٍ في العالم.





١

## نشاط

يسجّل الطلبة في الجدول اثنين من حقول النفط البرية، واثنين من الحقول البحرية غير ما ذكر في الكتاب، اعتماداً على الخريطة الآتية:



حقول بحرية	حقول برية
.....	.....
.....	.....
.....	.....



تحظى شركة أرامكو السعودية بعناية قادة وطني منذ نشأتها



تدشين خادم الحرمين الشريفين الملك سلمان بن عبدالعزيز آل سعود مشروعات أرامكو السعودية

١٤٣٨ هـ



تدشين الملك عبدالعزيز آل سعود أول شحنة نفط من ميناء رأس تنورة

١٣٥٨ هـ

أكثر من ٨٠ سنة من العناية باقتصاد النفط

## المعادن

المعادن من أهم الموارد في وطني المملكة العربية السعودية؛ لذا قامت وزارة الصناعة والثروة المعدنية بالكشف والتقيب عنها، وفي وطني المملكة العربية السعودية أنواع مختلفة من المعادن تدخل في الصناعات.



٢

نشاط



٤



٣



٢



١

أ- ما نوع المعدن في كل صورة؟

١- ..... ٢- ..... ٣- ..... ٤- .....

ب- لماذا لا يمكن الاعتماد على النفط والمعادن مدى الحياة؟

.....



## أهم المعادن في الوطن:

تتوافر المعادن في عدة أماكن في وطني المملكة العربية السعودية، بخاصة في الجهات الغربية والوسطى.

مثل: الذهب، والفضة، والحديد، والنحاس، والرصاص، والزنك، والفوسفات، والبوكسايت.



أهم مواقع المعادن في المملكة العربية السعودية

تلاطلاع



www.maaden.com.sa

**معادن MA'ADEN**  
Saudi Arabian Mining Company شركة التعدين العربية السعودية

شركة معادن من الشركات الوطنية التي أفخرُ بها؛ لأنها تسهم في تنمية صناعة المعادن في وطني.





# تقويم الوحدة السابعة





١ يكتب الطلبة شرحاً يسيراً لكل من:

أ- المياه السطحية: .....

.....

ب- المياه الجوفية: .....

.....

ج- مياه البحر المحلاة: .....

.....

٢ يكمل الطلبة الفراغات الآتية بما يناسبها:

أ- تنقسم مصادِر المياه في وطني المملكة العربية السعودية إلى عدة أقسام، هي:

..... و ..... و .....

..... و .....

ب- أكبر حقل نفطي بحري في العالم هو حقل .....

٣ في رأيك، لماذا؟

أ- تُعدُّ المملكة العربية السعودية من الدول قليلة المياه.

.....

ب- يتنوعُ الغطاء النباتي في المملكة العربية السعودية.

.....

ج- تقلُّ الثروة الحيوانية في المملكة العربية السعودية.

.....



٤ يختار الطلبة الخيار الصحيح مما يأتي:

أ - لتسرّب المياه إلى باطن الأرض أثر كبير في ارتفاع منسوب:

○ مياه البحر ○ مياه الأودية ○ المياه الجوفية

ب - تُستعمل مياه الصّرف الصحيّ المُعالِجة في:

○ المياه السطحية ○ الشرب ○ ريّ المتنزهات

ج - ينمو نبات الأرطى في:

○ الأودية ○ الرمال ○ الجبال

د - معظم حقول النفط في وطني المملكة العربية السعودية هي في المنطقة:

○ الشرقية ○ الغربية ○ الشمالية

هـ - أكبر حقول النفط في اليابسة مساحةً وإنتاجاً في العالم هو:

○ السّفانيّة ○ الغوّار ○ منيفّة

٥ يصنّف الطلبة في الجدول الآتي النباتات الطبيعية الآتية حسب بيئاتها:

الزيتون البرّي، الأثل، السّمُر، الأراك، التّين الشّوكي

الأودية	الرمال	السهول	البيئة الجبلية



٦ يصنّف الطلبة في الجدول الآتي حقول النفط الآتية في مكانها المناسب:  
الخفّجي - الخرسانية - الجبيل - بقيق - منيفّة - رأس تنورة - السفّانيّة

موانئ تصدير	حقول نفطية بحرية	حقول نفطية برية

٧ يضع الطلبة علامة (✓) أمام العبارة الصحيحة، وعلامة (x) أمام العبارة غير الصحيحة فيما يأتي:

- أ- تأتي المملكة العربية السعودية في المركز الأول عالمياً في احتياطي النفط.
- ب- أُسّست شركة (أرامكو السعودية) للعناية بالزراعة.
- ج- قلّة المياه تُعدّ من المشكلات الوطنية.

٨ يذكر الطلبة ثلاثة أساليب للمحافظة على الثروة المائية.

- ١- .....
- ٢- .....
- ٣- .....



# الوحدة الثامنة

## الأنشطة الاقتصادية



- ◆ الدرس التاسع والعشرون: الزراعة والرعي
- ◆ الدرس الثلاثون: الصناعة والتجارة والخدمات







## سوف أتعلم في هذه الوحدة

- ◆ الأنشطة الاقتصادية في وطني.
- ◆ مجالات النشاط الصناعي.
- ◆ مجالات النشاط التجاري.







كان الاعتماد الاقتصادي للسكان في المملكة العربية السعودية قائماً على التجارة والزراعة، ثم بدأ النفط يأخذ الصدارة، وبعد إطلاق رؤية المملكة ٢٠٣٠ أصبح النشاط الاقتصادي متنوعاً، فما أهم الأنشطة الاقتصادية في وطننا قديماً وحديثاً؟



يمارس السُّكَّانُ أعمالاً أو حِرَفاً في حياتهم اليومية، حيث كانت حرفتي الزراعة والرعي من المهن الأساسية التي يمارسها سكان العالم؛ لإنتاج المحاصيل الزراعية والحيوانية كأحد الموارد الاقتصادية لسد احتياجات السكان. وللبيئة تأثيرٌ في تحديد نوع النشاط الذي يمارسه السُّكَّان، ولكل نشاطٍ عوامل تساعد على ازدهاره أو ضعفه.





## الزراعة

### للاطلاع

أُنشئت وزارة الزراعة عام ١٣٧٣هـ، ثم تحولت بعد ذلك إلى وزارة البيئة والمياه والزراعة في عام ١٤٣٧هـ، وهي تسعى إلى تحقيق الاكتفاء الذاتي من بعض المحاصيل، وتنمية محاصيل أخرى، والعمل لزيادة الإنتاج.

تأتي الزراعة في صدارة الأنشطة الاقتصادية للسُّكَّان، وذلك قبل اكتشاف النفط، وقد اعتنى وطني المملكة العربية السعودية بهذه المهنة؛ لكونها المصدر **الغذائي** للسُّكَّان، وقديماً كان معظم السُّكَّان يعملون فيها، إلا أنه في السنوات الأخيرة **انخفض** عددهم انخفاضاً كبيراً، وذلك بعد ظهور **الزراعة الحديثة** (المتقدمة) التي اعتمدت الأساليب العلمية، والآلات الحديثة، في إعداد الأرض، والرِّي.



١

### نشاط

أ- ما نتائج العناية بالزراعة في وطني المملكة العربية السعودية؟

- ١- .....
- ٢- .....

ب- يقرأ الطلبة العبارة الآتية، ثم يُجيبون عن السؤالين:

«من عوامل نجاح الزراعة: الأراضي الصالحة للزراعة، وتوافر المياه، ووجود الآلات الزراعية المتنوعة والمتطورة، والأيدي العاملة المدربة.»

١- ما أهم مشكلة تواجه الزراعة في وطني المملكة العربية السعودية؟

.....

٢- في رأيك، كيف تُعالج المشكلة؟

.....





## نشاط ٢

أ- يتأمل الطلبة الخريطة ويشاركون في كتابة المعلومات الآتية:



١- أهم المحاصيل الزراعية في وطني المملكة العربية السعودية.

٢- المناطق التي تتوفر فيها محاصيل كثيرة في وطني المملكة العربية السعودية.

٣- يضع الطلبة عنواناً للخريطة ومفتاحاً لها.



ب- أي من الصورتين تمثل النمط التقليدي للزراعة؟

ج- أي النمطين في الصورتين يُعطي إنتاجاً وافراً؟



## الرعي

ما زالت حِرْفَة الرّعي بمفهومها القديم (الانتقال والتّرحال بحثاً عن الماء والعشب) قائمةً، ولكنها آخذةٌ في التراجع؛ بسبب تدهور المَراعي الطبيعية (الغطاء النباتي)، واستقرار السُّكّان في المدن، وظهور أنشطةٍ سُكّانيةٍ أخرى أكثر ربحاً منها.

يحرص وطني المملكة العربية السعودية على تحسين بيئة الإنتاج الحيواني وفق الشروط البيطرية والصحية من خلال الرّعي التجاري الذي تقوم به الشركات الزراعية.



٣

نشاط



أ- أي من الصورتين تُمثّل النمط التقليدي لتربية الحيوانات؟

.....

ب- أي النمطين يعطي إنتاجاً وافراً؟

.....





## الصناعة والتجارة والخدمات

تعد الصناعة والتجارة والخدمات من أسس الاقتصاد الوطني، ومن المجالات التي يشارك الشباب في تنميتها، فما أهم فوائد هذه الأنشطة وأبرز أنواعها؟



### الصناعة

هي تحويل المادة الخام الموجودة في الطبيعة التي لا يمكن الاستفادة منها مباشرة (النفط - المعادن - الحديد) إلى منتج يلبي احتياجات الإنسان (سيارات - غذاء - دواء).

#### أهم فوائد الصناعة:

- ◆ توفير ما يحتاج إليه السُّكَّان من المواد المختلفة.
- ◆ توفير فُرص العمل لعدد كبير من السُّكَّان.
- ◆ الحصول على الأموال ببيع السلع وتسويقها.
- ◆ تحقيق تقدُّم اقتصادي للوطن من خلال الوصول إلى الاكتفاء الذاتي أو التصدير للخارج.

### للاطلاع



صاحب السمو الملكي الأمير محمد بن سلمان بن عبدالعزيز آل سعود يصافح الشباب السعودي العاملين في الشركة السعودية للصناعات العسكرية

#### توطين الصناعات:

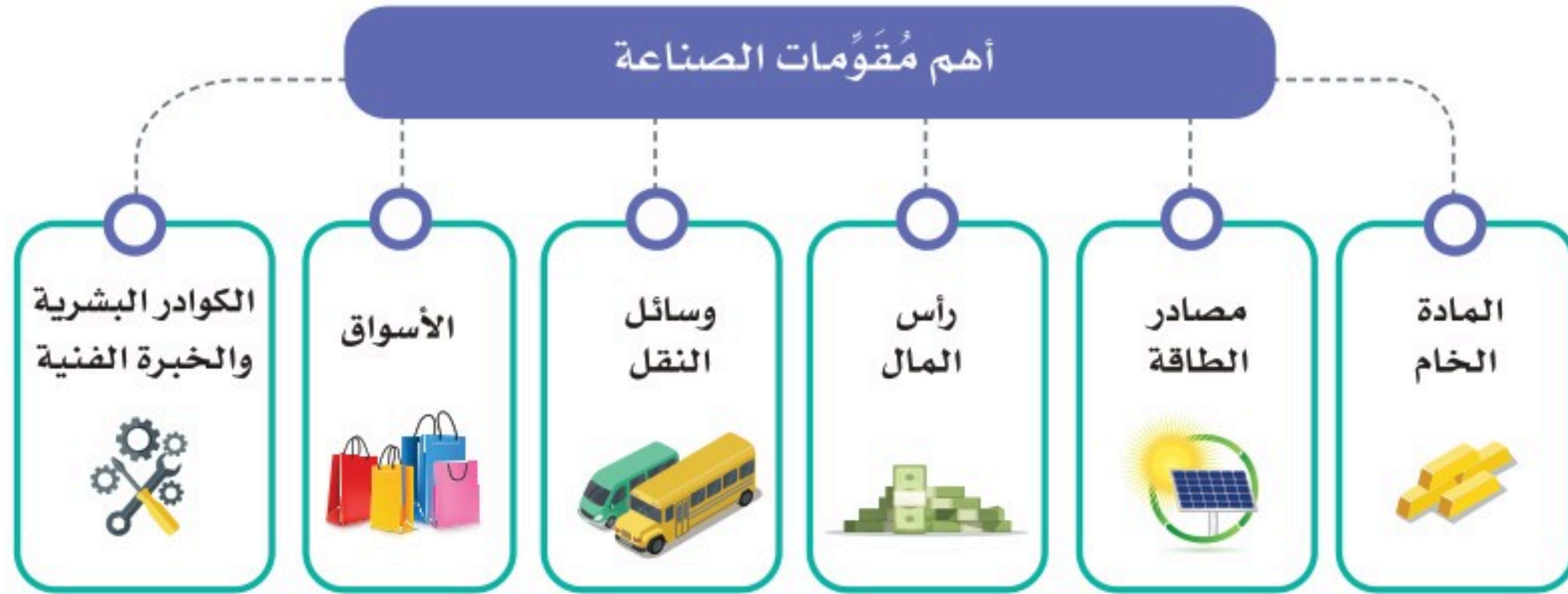
تعمل الحكومة لتوطين الصناعات المتقدمة في وطني المملكة العربية السعودية؛ بأن يكون تنفيذها بأيدي سعودية مدربة.

ومن أهداف رؤية المملكة ٢٠٣٠ توطين الصناعات العسكرية، ومن مظاهر ذلك تأسيس الشركة السعودية للصناعات العسكرية.



## مُقَوِّمَاتُ الصَّنَاعَةِ

لقيام الصناعة، لا بد من توافر مقومات عدة، منها:



### للاطلاع



طلبة سعوديون في مختبر مدرسي في محافظة شُوررة

يُشكّل الشباب (الذين هم أقل من ٣٠ عاماً) النسبة الكبرى من سُكّان وطني المملكة العربية السعودية، وهم الركيزة الأساسية للتحوّل الاقتصادي والمجتمعي، ومن أسس تحقيق ذلك:

- العمل في المصانع الوطنية، والتخطيط، والتسويق.
- مقومات الصناعة تعتبر مزيج من عناصر الإنتاج التي تساعد الإنسان ليصنع وينتج لسد حاجاته الإنسانية.





## نشاط ١



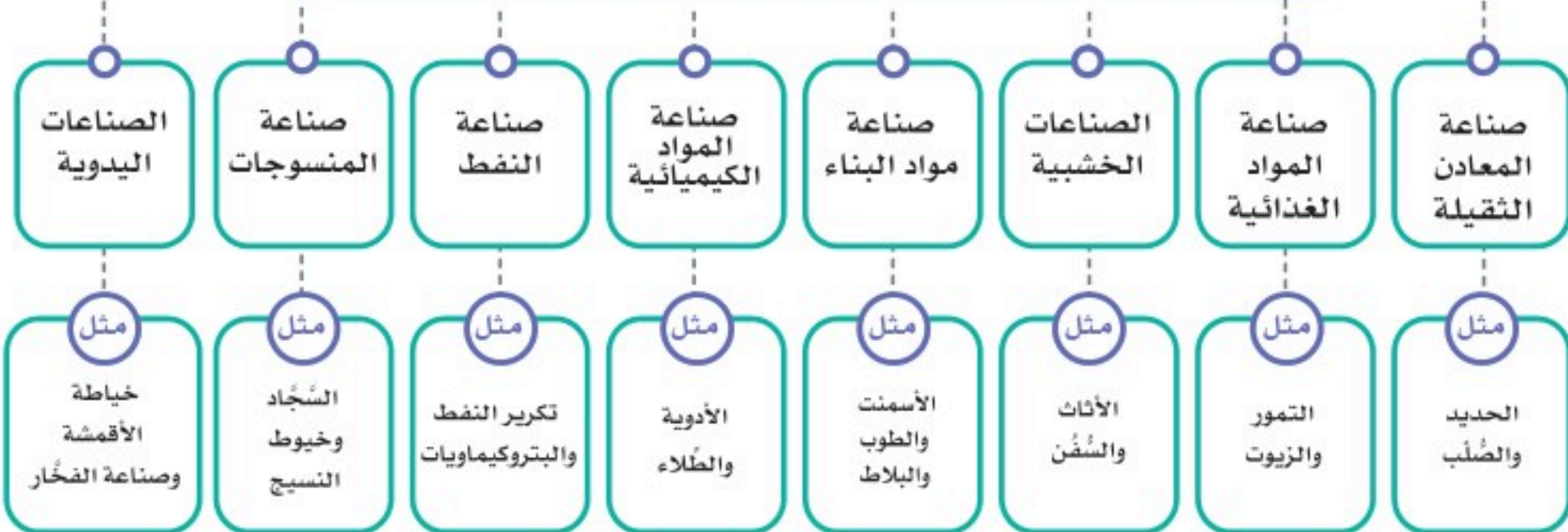
أ- أي من الصورتين تمثل النمط التقليدي للصناعة؟

ب- يضع الطلبة سؤالاً يمكن طرحه على وزير الصناعة بشأن أحد مقومات الصناعة؟

ج- يختار الطلبة نوع الصناعة المفضل في القائمة أدناه؟

## تلاطلاع

### أهم الصناعات في وطني





سابك  
sabic

الشركة السعودية  
للصناعات الأساسية

أُسِّسَتْ عام ١٣٩٦هـ؛ لتحويل المواد الخام من المعادن والمواد الهيدروكربونية إلى منتجات صناعية، وأصبحت واحدةً من أكبر عشر شركاتٍ عالميةٍ في الصناعات البتروكيمياوية.



www.sabic.com



الهيئة الملكية  
للجَبيل وينبَع

أُسِّسَتْ عام ١٣٩٥هـ؛ لتطوير مدينتي (الجَبيل وينبَع) الصناعيتين، ورأس الخير الصناعية، ومدينة جازان الاقتصادية، ولدى الهيئة أكثر من ٦٠٠ مصنع.



www.rcjy.gov.sa



٢

نشاط

يكمل الطلبة الفراغات بما يناسبها:

أ- لو كنت أملك مالاً لأنشأت مصنعاً أُسَمِّيهِ .....، ويُنتج هذا المصنع

.....؛ لِيُستفاد منه في .....

ب- أنا أحب .....، وآكل مما ..... في أرضه وألبس مما

..... في مصانعه.



## التجارة

التجارة هي حركة البيع والشراء لمُخْتَلَفِ أنواع السِّلَع المحلية والمستوردة.

### أنواع التجارة

#### التجارة الخارجية



بيع (تصدير) وشراء (استيراد) السِّلَع  
والبضائع بين الوطن ودولٍ أخرى

#### التجارة الداخلية



بيع السِّلَع والبضائع وشراؤها  
داخل الوطن

### للاطلاع

تعمل البنوك مع الشركات والمؤسسات التجارية لتوفير الخدمات المالية والتمويل اللازم لتسهيل الأعمال التجارية وتيسير عمليات الصادرات والواردات. وتعتبر هذه الخدمات أساسية لتعزيز النشاط التجاري وتعزيز التجارة الدولية.

### صادرات وطني المملكة العربية السعودية و وارداته:

- الصادرات: ومنها (النفط خاماً ومكرراً، والمنتجات البتروكيميائية التحويلية، والتمور، والمنتجات المحلية المختلفة).
- الواردات: ومنها (الآلات، ووسائل النقل، والأجهزة الكهربائية، والمواد الغذائية).
- الميزان التجاري: هو الفرق بين قيمة صادرات الدولة وقيمة وارداتها. وتحرص حكومة وطني المملكة العربية السعودية على أن تكون قيمة الصادرات أعلى من قيمة الواردات؛ ليصبح الميزان التجاري في مصلحة الوطن.





٣

نشاط

أ- يذكر الطلبة ثلاث سلع تُصنَّع في وطني المملكة العربية السعودية، وتُستعمل في الحياة اليومية:

١- ..... ٢- ..... ٣- .....

ب- يُكمل الطلبة الفراغ الآتي بما يناسبه:

أفضل السلع الوطنية بسبب .....

ج- يصف الطلبة العلاقة بين نمو الصناعة وزيادة الخدمات والتجارة:

.....

## الخدمات

تشمل الأنشطة في مجالات: التعليم، والصحة، والنقل، والترفيه، وخدمات الإقامة والطعام، والمعلومات والاتصالات، والإدارة.







# تقويم الوحدة الثامنة





١ يربط الطلبة بين المادة الخام في القائمة (أ) وما يناسبها من المنتج الصناعي في القائمة (ب) باستعمال الأرقام:

ب المنتج الصناعي

الحقائب

معلبات التونة

أواني الطبخ

الآيس كريم

أ المادة الخام

١- الأسماك

٢- النحاس

٣- الجلود

٤- الحليب

٢ يختار الطلبة الخيار الصحيح فيما يأتي:

أ- تأتي الزراعة في الصدارة بين الأنشطة:

الرياضية

السكانية

الاجتماعية

ب - من عوامل نجاح الزراعة:

التربة

البحار

الرمال

ج - من فوائد الصناعة:

توفير الأراضي

توفير المواد الخام

توفير فرص العمل

٣ يذكر الطلبة أربعة من أهم الأنشطة الاقتصادية التي يُزاولها السكان في المملكة العربية السعودية.

١- .....

٢- .....

٣- .....

٤- .....



٤ ما أبرز صادرات وطني المملكة العربية السعودية؟

- ١- .....
- ٢- .....
- ٣- .....

٥ يصل الطلبة ما في المجموعة (أ) بما يناسبه في المجموعة (ب) باستعمال الأرقام:

(ب)	(أ)
البيع والشراء <input type="checkbox"/>	١- التعليم
من الصادرات <input type="checkbox"/>	٢- المادة الخام
من مقومات الصناعة <input type="checkbox"/>	٣- التمور
من الخدمات <input type="checkbox"/>	٤- التجارة

٦ يملأ الطلبة الفراغات الآتية بالكلمات المناسبة:

- أ- بيع السلع والبضائع وشراؤها داخل الوطن يُسَمَّى .....
- ب- من فوائد الصناعة توفير .....
- ج- من أهم عوامل نجاح الزراعة .....



٧ يضع الطلبة علامة (✓) أمام العبارة الصحيحة، وعلامة (x) أمام العبارة غير الصحيحة فيما يأتي:

أ- كانت الزراعة في صَدَارَة الأنشطة الاقتصادية للسُّكَّان قديماً.

ب - تحرص حكومة وطني المملكة العربية السعودية على أن تكون قيمة الواردات أعلى من قيمة الصادرات.

ج - تراجعت حِرْفَة الرَّعْي بسبب تدهور المراعي الطبيعية.

د- الصناعة هي تحويل المادة الخام الأولية إلى مُنتَج أكثر فائدة للإنسان.