

تم تحميل وعرض المادة من منصة

حقيبتك

www.haqibati.net



منصة حقيبتك التعليمية

منصة حقيبتك هو موقع تعليمي يعمل على تسهيل العملية التعليمية بطريقة بسيطة وسهلة وتوفير كل ما يحتاجه المعلم والطالب لكافة الصفوف الدراسية كما يحتوي الموقع على حلول جميع المواد مع الشروح المتنوعة للمعلمين.

1444 - 2022

محمد القرني (اللهم اجعلها صدقة لوالدي رحمة الله عليهم)

العام الدراسي	1444 هـ	المادة	الدراسات الاجتماعية
الفصل الدراسي	الثاني	الزمن	
الدور		عدد الأوراق	4
الصف	الثالث المتوسط	عدد الأسئلة	3
الدرجة النهائية	40 درجة	عدد الفقرات	40 فقرة (كل فقرة بدرجة)

اسم الطالب	نموذج مقترح	الفصل
------------	-------------	-------

بيان تقدير الدرجات						
رقم السؤال	الدرجة المستحقة		المصحح		المراجع	
	رقماً	كتابة	الاسم	التوقيع	الاسم	التوقيع
1						
2						
3						
المجموع			جمعه:		راجعته:	
الدرجة بعد التدقيق				اسم المدقق وتوقيعه		

تعليمات هامة

- التوكل على الله وتذكر حديث نبينا محمد صلى الله عليه وسلم حيث قال (من غشنا فليس منا)
- اكتب اسمك الرباعي كاملاً في الصفحة الأولى وفصلك (أ أو ب) فقط
- تأكد من عدد الأسئلة انها أربعة أسئلة
- الكتابة تكون بالقلم الأزرق الجاف
- الالتزام بالهدوء في قاعة الاختبار
- تأكد من جوابك على جميع الأسئلة
- الخروج من قاعة الاختبار بعد مضي نصف الوقت

(أ) ضع علامة (√) أمام العبارة الصحيحة وعلامة (×) أمام العبارة الخاطئة فيما يلي ؟

1	جاءت رؤية المملكة 2030 لتحقيق التنمية تحقيقاً فاعلاً ودائماً ومستمرًا
2	يتخذ مجلس الشورى من مدينة جدة مقراً له
3	تمنح الأوسمة السعودية لرؤساء وملوك الدول وشخصيات مدنية وعسكرية تقديراً لجهودهم
4	صدر النظام الأساسي للحكم عام 1412هـ
5	تقدم حكومة المملكة العربية السعودية خدمات متكاملة لحجاج بيت الله الحرام

(ب) عزيزي الطالب من خلال دراستك صنف مايلي حسب الجدول ؟

وسام الملك سلمان - تطبيق صحتي - وظيفتك بعثتك - مجلس الشورى - الارشاد الأسري

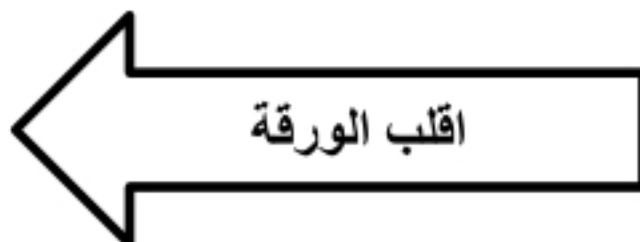
تنمية صحية	نظام أساسي	أوسمة	تنمية تعليمية	تنمية اجتماعية	تنمية بنية أساسية

(ج) مستعينا بالشكل المجاور ضع المصطلح أمام ما يناسبه من العبارات ؟

السلامة
التنمية
هيئة الخبراء
الأوسمة

- 1- () هي هيئة تمثل الجهاز الاستشاري لمجلس الوزراء .
- 2- () مجموعة الاجراءات التي تتخذ للوقاية من الوقوع في الاخطار والحوادث.
- 3- () التحسين المستمر في الوطن على المستوى الاقتصادي والاجتماعي والثقافي .

(د) صمم وارسم شكلا او مخططا لأهم الأسس والمبادئ التي تقوم عليها المملكة العربية السعودية ؟



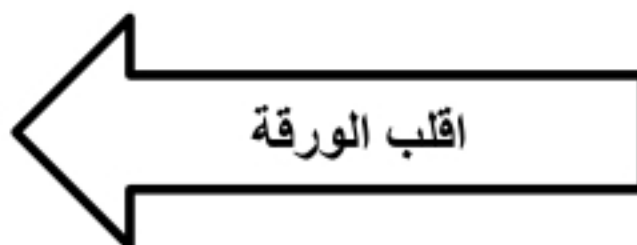
(أ) أختَر الإجابة الصحيحة وذلك بوضع دائرة حول الخيار المناسب فيما يأتي ؟

1	قلادة الملك عبد العزيز من أوسمة الدرجة :.....	أ	الاولى	ب	الثانية	ج	الثالثة	د	الرابعة
2	خيانة الوطن والفساد المالي والاداري تعتبر من :	أ	مقومات الهوية الوطنية	ب	التنمية التعليمية	ج	التنمية الاجتماعية	د	مهددات الهوية الوطنية
3	إقرار الميزانية العامة للدولة من اختصاصات :	أ	مجلس الشورى	ب	هيئة البيعة	ج	مجلس الوزراء	د	النظام الاساسي للحكم
4	مجلس القضاء الاعلى وجميع المحاكم تمثل في وطني السلطة :	أ	التنظيمية	ب	القضائية	ج	التنفيذية	د	التشريعية
5	نظام الحكم في المملكة العربية السعودية :	أ	ملكي	ب	برلماني	ج	جمهوري	د	حزبي

(ب) أذكر السبب لمايأتي (بم تفسر) ؟

- 1 - علم وطني لاينكس أبدا :
- 2 - الحوادث المرورية :

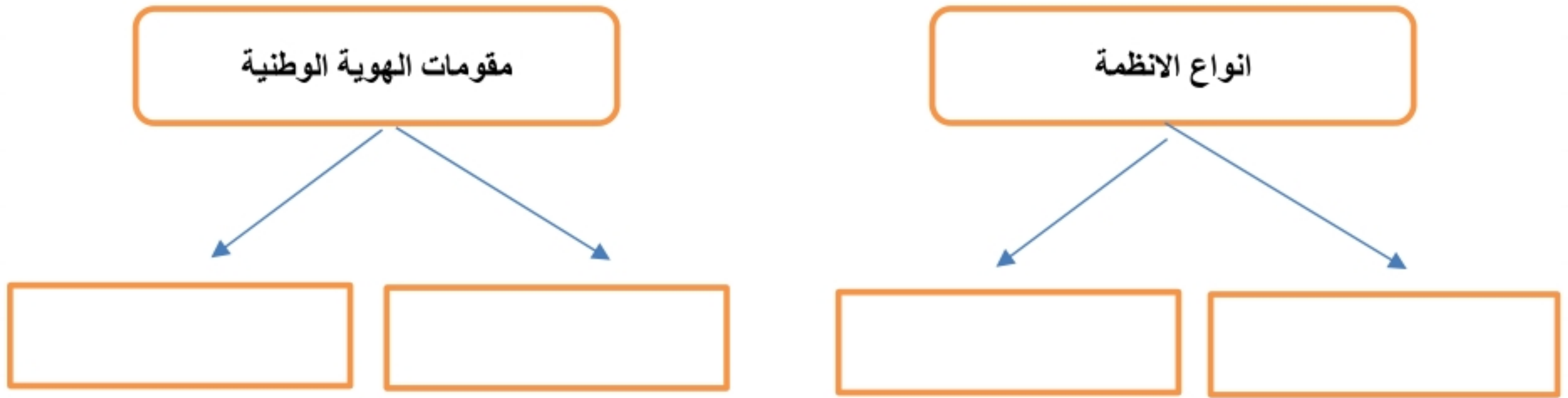
(ج) اكتب مذكرة تاريخية عن التطور التاريخي لنظام المناطق في وطني المملكة العربية السعودية ؟



(أ) اليوم الوطني ويوم التأسيس مناسبتين وطنيتين غالية علينا جميعا ، قارن بينهما وفق الجدول ادناه ؟

اليوم الوطني	وجه المقارنة	يوم التأسيس
	موعد الاحتفاء	
	سبب الاحتفاء	

(ب) أكمل خرائط المفاهيم التالية ؟



(ج) اكتب وعبر بأسلوبك ورأيك بإيجاز حول المواضيع التالية ؟

1 - جريمة التفحيط :

.....

2 - الممارسات والسلوكيات السلبية عند الاحتفاء بالمناسبات الوطنية :

.....

(د) صحح ماتحته خط في العبارات التالية ؟

م	العبرة	التصحيح
1	قسمت المملكة العربية السعودية إداريا الى 16 منطقة	
2	بناء السدود وخطوط الاتصالات من التنمية الاجتماعية في وطني	
3	يتولى مجلس الشورى توثيق الانظمة السعودية وحفظها واتاحتها	

انتهت الاسئلة
تمنياتي للجميع بالتوفيق والنجاح

مدير المدرسة :

معلم المادة :

محمد القرني (اللهم اجعلها صدقة لوالدي رحمة الله عليهم)

العام الدراسي	1444 هـ	المادة	الدراسات الاجتماعية
الفصل الدراسي	الثاني	الزمن	
الدور		عدد الأوراق	4
الصف	الثالث المتوسط	عدد الأسئلة	3
الدرجة النهائية	40 درجة	عدد الفقرات	40 فقرة (كل فقرة بدرجة)

اسم الطالب	نموذج مقترح (اجابة)	الفصل
------------	-----------------------	-------

بيان تقدير الدرجات						
رقم السؤال	الدرجة المستحقة		المصحح		المراجع	
	رقماً	كتابة	الاسم	التوقيع	الاسم	التوقيع
1						
2						
3						
المجموع			جمعه:		راجعته:	
الدرجة بعد التدقيق		_____		اسم المدقق وتوقيعه		

تعليمات هامة

- التوكل على الله وتذكر حديث نبينا محمد صلى الله عليه وسلم حيث قال (من غشنا فليس منا)
- اكتب اسمك الرباعي كاملاً في الصفحة الأولى وفصلك (أ أو ب) فقط
- تأكد من عدد الأسئلة انها أربعة أسئلة
- الكتابة تكون بالقلم الأزرق الجاف
- الالتزام بالهدوء في قاعة الاختبار
- تأكد من جوابك على جميع الأسئلة
- الخروج من قاعة الاختبار بعد مضي نصف الوقت

(أ) ضع علامة (√) أمام العبارة الصحيحة وعلامة (×) أمام العبارة الخاطئة فيما يلي ؟

√	جاءت رؤية المملكة 2030 لتحقيق التنمية تحقيقا فاعلا ودائما ومستمرًا	1
×	يتخذ مجلس الشورى من مدينة جدة مقرا له	2
√	تمنح الأوسمة السعودية لرؤساء وملوك الدول وشخصيات مدنية وعسكرية تقديرا لجهودهم	3
√	صدر النظام الاساسي للحكم عام 1412هـ	4
√	تقدم حكومة المملكة العربية السعودية خدمات متكاملة لحجاج بيت الله الحرام	5

(ب) عزيزي الطالب من خلال دراستك صنف مايلي حسب الجدول ؟

وسام الملك سلمان - تطبيق صحتي - وظيفتك بعثتك - مجلس الشورى - الارشاد الأسري

تنمية صحية	نظام أساسي	أوسمة	تنمية تعليمية	تنمية اجتماعية	تنمية بنية أساسية
تطبيق صحتي	مجلس الشورى	وسام الملك سلمان	وظيفتك بعثتك	الارشاد الأسري	

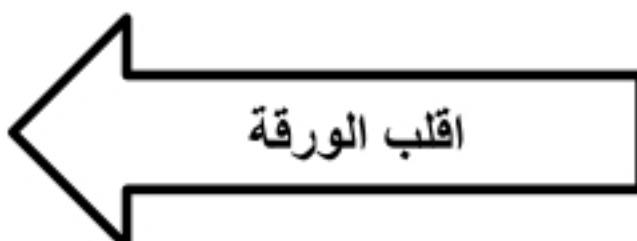
(ج) مستعينا بالشكل المجاور ضع المصطلح أمام ما يناسبه من العبارات ؟

السلامة
التنمية
هيئة الخبراء
الأوسمة

- 1- (هيئة الخبراء) هي هيئة تمثل الجهاز الاستشاري لمجلس الوزراء .
- 2- (السلامة) مجموعة الاجراءات التي تتخذ للوقاية من الوقوع في الاخطار والحوادث.
- 3- (التنمية) التحسين المستمر في الوطن على المستوى الاقتصادي والاجتماعي والثقافي .

(د) صمم وارسم شكلا او مخططا لأهم الأسس والمبادئ التي تقوم عليها المملكة العربية السعودية ؟

يرسم الطالب شكلا بأسلوبه (الاساس التنموي و الاساس التاريخي والاساس الديني)



(أ) أختَر الإجابة الصحيحة وذلك بوضع دائرة حول الخيار المناسب فيما يأتي ؟

1	قلادة الملك عبد العزيز من أوسمة الدرجة	أ	الاولى	ب	الثانية	ج	الثالثة	د	الرابعة
2	خيانة الوطن والفساد المالي والاداري تعتبر من	أ	مقومات الهوية الوطنية	ب	التنمية التعليمية	ج	التنمية الاجتماعية	د	مهددات الهوية الوطنية
3	إقرار الميزانية العامة للدولة من اختصاصات :	أ	مجلس الشورى	ب	هيئة البيعة	ج	مجلس الوزراء	د	النظام الاساسي للحكم
4	مجلس القضاء الاعلى وجميع المحاكم تمثل في وطني السلطة :	أ	التنظيمية	ب	القضائية	ج	التنفيذية	د	التشريعية
5	نظام الحكم في المملكة العربية السعودية :	أ	ملكي	ب	برلماني	ج	جمهوري	د	حزبي

(ب) أذكر السبب لمايأتي (بم تفسر) ؟

- 1 - علم وطني لاينكس أبدا : لأنه يحتوي على عبارة التوحيد .
- 2 - الحوادث المرورية : السرعة الزائدة و استخدام اجهزة الجوال اثناء القيادة .

(ج) اكتب مذكرة تاريخية عن التطور التاريخي لنظام المناطق في وطني المملكة العربية السعودية ؟

نظام المناطق احد الانظمة الاساسية في المملكة العربية السعودية ولقد مر بعدة مراحل هي :
في عام 1359هـ صدر نظام الامراء - في عام 1383هـ صدر نظام المقاطعات
وفي عام 1397هـ صدر نظام البلديات - وفي عام 1412هـ صدر نظام المناطق

(أ) اليوم الوطني ويوم التأسيس مناسبتين وطنيتين غالية علينا جميعا ، قارن بينهما وفق الجدول ادناه ؟

اليوم الوطني	وجه المقارنة	يوم التأسيس
23 سبتمبر من كل عام	موعد الاحتفاء	22 فبراير من كل عام
ذكرى توحيد المملكة عام 1351هـ	سبب الاحتفاء	ذكرى تأسيس الدولة السعودية الاولى عام 1139هـ

(ب) أكمل خرائط المفاهيم التالية ؟



(ج) اكتب وعبر بأسلوبك ورأيك بإيجاز حول المواضيع التالية ؟

- 1 - جريمة التفحيط :
هو جريمة وظاهرة خطيرة ومخالفة مرورية يعاقب النظام مرتكبيها وخطر على الفرد والمجتمع.
- 2 - الممارسات والسلوكيات السلبية عند الاحتفاء بالمناسبات الوطنية :

هو سلوك غير حضاري وسلبي لايمثل الشعب السعودي وهذه المناسبة الوطنية .

(د) صحح ماتحته خط في العبارات التالية ؟

م	العبارة	التصحيح
1	قسمت المملكة العربية السعودية إداريا الى 16 منطقة	13
2	بناء السدود وخطوط الاتصالات من التنمية الاجتماعية في وطني	البنية الاساسية
3	يتولى مجلس الشورى توثيق الانظمة السعودية وحفظها واتاحتها	المركز الوطني للوثائق والمحفوظات

انتهت الاسئلة
تمنياتي للجميع بالتوفيق والنجاح

مدير المدرسة :

معلم المادة :