

تم تحميل وعرض المادة من منصة

# حقيبتك

[www.haqibati.net](http://www.haqibati.net)



منصة حقيبتك التعليمية

منصة حقيبتك هو موقع تعليمي يعمل على تسهيل العملية التعليمية بطريقة بسيطة وسهلة وتوفير كل ما يحتاجه المعلم والطالب لكافة الصفوف الدراسية كما يحتوي الموقع على حلول جميع المواد مع الشروح المتنوعة للمعلمين.

1444 - 2022

اختبار عملي لمقرر علم البيئة 1-1 (مسارات)

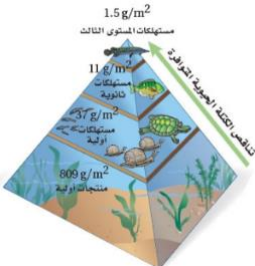
زمن الاختبار: 50 دقيقة

الفصل الدراسي الثاني


للعام الدراسي 1443 هـ


اسم الطالبة	رقم الجلوس	الشعبة
-------------	------------	--------

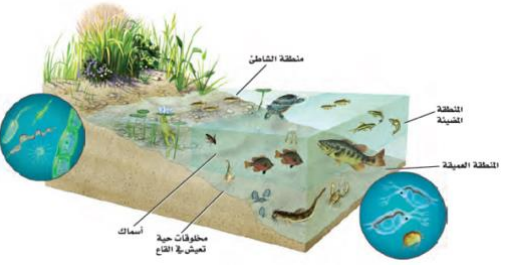
اجبني على الأسئلة التالية على حسب الشكل المجاور لها.	10	درجات فقط
--	----	-----------

	يمثل الهرم البيئي المقابل:	1
	A هرم الطاقة	
	B هرم الأعداد	
	C هرم الكتلة الحيوية	

	ماذا يمثل الرسم التالي؟	2
	A سلسلة غذائية	
	B شبكة غذائية	
	C هرم بيئي	

	يمثل نمط التوزيع التالي نمط توزيع:	3
	A الجمل	
	B الضب	
	C طائر الخرشنة	

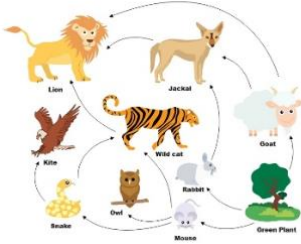
	ماذا يمثل الخط الافقي في هذا الشكل:	4
	A طور التسارع	
	B طور التباطؤ	
	C القدرة الاستيعابية	

	أي مناطق البحيرة قد تحوي تنوعا كبيرا من العوالق:	5
	A المضيئة	
	B العميقة	
	C المظلمة	

يتبع ←

-الورقة الأولى من ورقتان-

من خلال الصورة التي أمامك من نماذج انتقال الطاقة:



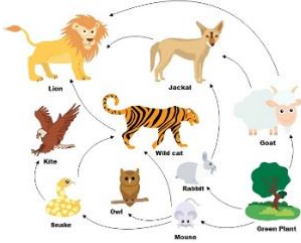
**A** شبكة غذائية

**B** سلسلة غذائية

**C** هرم بيئي

6

من خلال الصورة 2 حدي المخلوق المنتج:



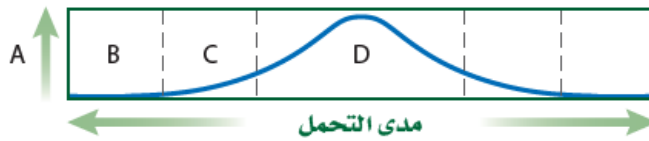
**A** الأرنب

**B** النبات

**C** الأفعى

7

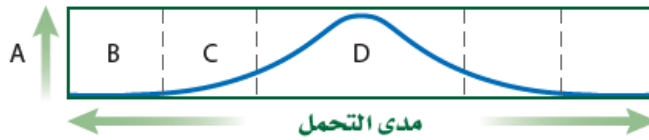
حدد على الرسم المقابل الحرف الذي يمثل منطقة عدم التحمل:



8

**A** **A** **B** **B** **C** **C**

من خلال الرسم السابق ماذا يمثل الحرف D في الرسم:



9

**A** منطقة عدم التحمل **B** منطقة الإجهاد الفسيولوجي **C** المدى الأمثل

الطاقة التي تنتقل من مستوى لآخر في هرم الطاقة البيئي :



**A** تزيد 90%

**B** تقل 90%

**C** لا تتغير

10

انتهت الأسئلة


معلم المادة: فيصل الجمعان


-الورقة الثانية من ورقتان-


اسم الطالب	رقم الجلوس	الشعبة
------------	------------	--------

درجات فقط	10	أجب على الأسئلة التالية حسب الشكل المجاور لها.
-----------	----	--

	مانوع السلوك في الشكل المجاور	1
	A سلوك السيادة	
	B سلوك الصراع	
C سلوك الحضانه		

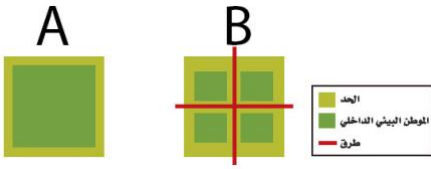
	ماذا يمثل الرسم التالي؟	2
	A سلسلة غذائية	
	B شبكة غذائية	
C هرم بيئي		

	يمثل نمط التوزيع التالي نمط توزيع:	3
	A الجمل	
	B الضب	
C طائر الخرشنة		

	مانوع التعلم الظاهر في الصورة المجاورة؟	4
	A التعلم الكلاسيكي الشرطي	
	B التعلم الإجرائي الشرطي	
C التعلم الشرطي		

	الدورة التي أمامك هي :	5
	A دورة النيتروجين	
	B دورة الماء	
C دورة الفسفور		

ما الموطن البيئي الذي يدعم أكبر قدر من التنوع الحيوي طبيعياً؟



A

**A**

6

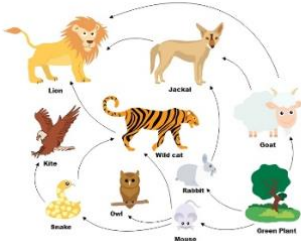
B

**B**

B وA بالتساوي

**C**

من خلال الصورة حددي المخلوق المنتج:



الأرنب

**A**

7

النبات

**B**

الأفعى

**C**

أي أنواع السلوك يمثله الشكل المجاور؟



التعود

**A**

8

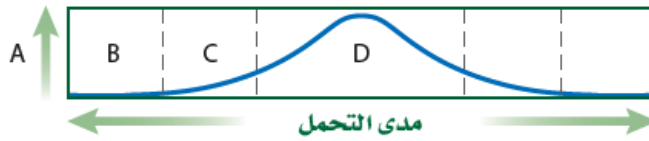
السلوك المطبوع

**B**

نمط الأداء الثابت

**C**

ماذا يمثل الحرف D في الرسم



9

المدى الأمثل

**C**

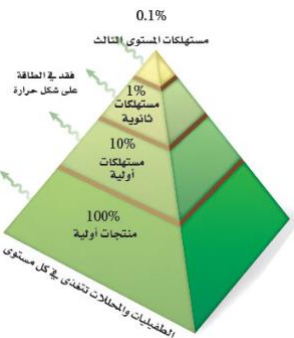
منطقة الإجهاد الفسيولوجي

**B**

منطقة عدم التحمل

**A**

الطاقة التي تنتقل من مستوى لآخر في هرم الطاقة البيئي :



تزيد 90%

**A**

10

تقل 90%

**B**

لاتتغير

**C**

انتهت الأسئلة  
معلمة المادة: إيمان الجهني